

مدة الامتحان: ساعتان
اليوم والتاريخ: 2019/12/7
مجموع العلامات (100) علامة



الفرع: جميع الفروع عدا الشرعي
المبحث: التربية الإسلامية
الدورة الاستكمالية

ملاحظة : عدد أسئلة الورقة (أربعة) أسئلة، أجب عن (ثلاثة) منها فقط

القسم الأول: يتكون هذا القسم من سؤال موضوعي واحد فقط، وعلى المشترك أن يجيب عنه كاملاً

السؤال الأول: (60 علامة)

يتكون هذا السؤال من (40) فقرة من نوع اختيار من متعدد، من أربعة بدائل، اختر رمز الإجابة الصحيحة، ثم ضع إشارة (×) في المكان المخصص في دفتر الإجابة:

1. علام يدل قول الرسول ﷺ : (بلغوا عني ولو آية)؟

(أ) حفظ القرآن الكريم . (ب) الرحلة في طلب العلم . (ج) كتابة الحديث الشريف . (د) النقل عنه وتبليغ دعوته .

2. علام استند علماء الأمة باختلافهم في استنباط الأحكام الشرعية؟

(أ) أقوال الفقهاء والمفسرين . (ب) علم أصول الفقه . (ج) العلم القطعي الشرعي . (د) القرآن والسنة .

3. ما المصطلح الذي يطلق على كتابة الحديث وجمعها في مدونات وكتب؟

(أ) النسخ . (ب) التدوين . (ج) الكتابة والجمع . (د) التجريد .

4. ما هو الأقط؟

(أ) الكيس الفارغ . (ب) اللبن المجفف . (ج) التمر غير الناضج . (د) الشعير المبلل بالماء .

5. ما الغرض الذي يفيد الاستفهام في قوله تعالى (أَفَحُكْمَ الْجَاهِلِيَّةِ يَبْغُونَ)؟

(أ) الإنكار والتوبيخ . (ب) الاستيضاح . (ج) النفي . (د) الإرشاد والتعليم .

6. ما المقصود بالكتاب المنظور؟

(أ) القرآن الكريم . (ب) الكون كله . (ج) صحيح البخاري . (د) السنة النبوية .

7. ما العبرة المستفادة من قصة موسى عليه السلام مع الخضر في مجال العقيدة؟

(أ) الصبر وتحمل المشاق . (ب) التمسك بالحق والدفاع عنه .

(ج) التسليم بأن الغيب لا يعلمه الا الله . (د) فضل السعي في طلب العلم .

8. ما شعور الإنسان في لحظة انقطاع النجاة؟

(أ) التفكير في الهرب . (ب) التوجه الى الله بالدعاء . (ج) انتظار العون من الناس . (د) النظر فيما حوله .

9. من الآثار التي يحققها الإيمان على المجتمع؟

(أ) النصر والغلبة . (ب) الحزن والانتقام . (ج) الهزيمة والفشل . (د) الصبر والرضا .

10. كم حركة يجب أن يمد المد اللازم؟

(أ) 3 حركات . (ب) 4 حركات . (ج) 6 حركات . (د) 5 حركات .

11. ما وجه الشبه بين المد العارض للسكون ومد اللين؟

(أ) كلاهما بسبب الهمز . (ب) مقدار المد . (ج) حروف المد . (د) وجوب المد فيهما .

12. ما الذي يُشير إليه قول الرسول ﷺ (أن تجعل لله نداً وهو خلقك)؟

- (أ) الشرك الأكبر. (ب) النفاق. (ج) الإلحاد. (د) الكفر.

13. ما حكم الشرك الأصغر بجميع مظاهره؟

- (أ) مكروه كراهة تنزيهية. (ب) بدعة. (ج) مباح. (د) معصية محرمة.

14. ما نظرة بعض الطوائف اليهودية للمرأة؟

- (أ) أصل للخلق. (ب) أصل الخطيئة. (ج) مساوية للرجل في الحقوق والواجبات. (د) لها دور كبير وعظيم في الحياة.

15. كيف كان حال المرأة عند اليونان؟

- (أ) تعيش للتجارة. (ب) تباع وتشتري. (ج) لا تورث. (د) تحرق بعد موت زوجها.

16. من هي أم المؤمنين التي كانت تعمل بيدها وتتصدق؟

- (أ) عائشة. (ب) ام سلمة. (ج) زينب بنت جحش. (د) حفصة بنت عمر.

17. ما معنى حُقباً؟

- (أ) حقيبة. (ب) مقياس للأرض. (ج) زمناً طويلاً. (د) مسلكاً في الأرض.

18. أي من الآيات الآتية تدل على قاعدة الجزاء من جنس العمل؟

- (أ) قال تعالى: (فَادْكُرُونِي أَذْكُرْكُمْ وَاشْكُرُوا لِي وَلَا تَكْفُرُونِ)
 (ب) قال تعالى (وَلَنَبْلُوَنَّكُمْ بِشَيْءٍ مِّنَ الْخَوْفِ وَالْجُوعِ وَنَقْصٍ مِّنَ الْأَمْوَالِ)
 (ج) قال تعالى (وَاسْتَعِينُوا بِالصَّبْرِ وَالصَّلَاةِ ۖ وَإِنَّهَا لَكَبِيرَةٌ إِلَّا عَلَى الْخَاشِعِينَ)
 (د) قال تعالى (خُذِ الْعَفْوَ وَأْمُرْ بِالْعُرْفِ وَأَعْرِضْ عَنِ الْجَاهِلِينَ) .

19. ما الحروف التي تفخم دائماً؟

- (أ) خص ضغط قط. (ب) قطب جد. (ج) أجد قط بكت. (د) فر من لب.

20. ما المقصود بالخصخصة؟

- (أ) خصيصة من خصائص الإسلام. (ب) تحويل الملكية العامة الى خاصة.
 (ج) تحويل الملكية من خاصة الى عامة. (د) نظام مالي خاص بالمصارف.

21. ما حكم التجويد في كلمة (آلآن)؟

- (أ) مد لازم حرفي متقل. (ب) مد لازم حرفي مخفف. (ج) مد لازم حرفي مخفف. (د) مد لازم كلمي مخفف.

22. ما معنى كلمة يسيفه في (ولا يكاد يسيفه)؟

- (أ) يبتلعه. (ب) يشكله. (ج) يصهره. (د) يحبه.

23. من المقصود بالخطاب في قوله تعالى (فَقُولَا لَهُ قَوْلًا لَّيِّنًا لَّعَلَّهُ يَتَذَكَّرُ أَوْ يَخْشَى) ؟

- (أ) فرعون. (ب) هامان. (ج) يوشع بن نون. (د) الخضر.

24. على يد من سقطت الخلافة الإسلامية في بغداد؟

- (أ) الصليبيين. (ب) التتار. (ج) المجوس. (د) منافقي العرب.

25. ما الكلمة التي تتمم الآية الآتية؟ (وَمَنْ أَعْرَضَ عَن ذِكْرِي فَإِنَّ لَهُ مَعِيشَةً ...)

- (أ) طيبة. (ب) أليمة. (ج) ضنكا. (د) مرة.

26. ما هدف الجهاد في الإسلام؟

- (أ) وسيلة لرفع الظلم. (ب) غايته إذلال الناس. (ج) هدفه جمع المال. (د) وسيلة لبسط النفوذ.

27. ما فضل الجهاد في سبيل الله؟

- (أ) عمود الإسلام. (ب) ذروة سنام الإسلام. (ج) خيمة الإسلام. (د) سنن الإسلام.

28. ما المقصود ببيع العينة؟

- (أ) ظاهره مرابحة وباطنه ربا.
(ب) ظاهره مشاركة وباطنه حلال.
(ج) ظاهره شراء وباطنه حلال.
(د) ظاهره بيع وباطنه ربا.

29. لم لا يعتبر تنقيط المصحف بدعة؟

- (أ) لأنه من مقتضيات العصر.
(ب) لأنه خروج عن قواعد الإسلام.
(ج) لأنه لم يخرج عن قواعد مقاصد الشريعة.
(د) لأنه تم بعد وفاة الرسول عليه السلام.

30. ماذا يُسمى بيع الذهب ديناً؟

- (أ) ربا فضل.
(ب) ربا ديون.
(ج) ربا نسيئة.
(د) بيع العينة.

31. ما صورة المرابحة في بيع السلعة بمثل الثمن مع زيادة ربح متفق عليه؟

- (أ) المرابحة للأمر بالشراء.
(ب) بيع المرابحة الاعتيادي.
(ج) التأمين التجاري.
(د) التأمين الإسلامي.

32. ما الكلمة المتممة لقوله ﷺ (خذوا عني ..)؟

- (أ) صوركم.
(ب) مناسككم.
(ج) صدقاتكم.
(د) قدوتكم.

33. ما سبب اعتذار موسى عليه السلام للخضر؟

- (أ) الخطأ.
(ب) المكر.
(ج) النسيان.
(د) كراهة عمل الخضر.

34. أين ولد العز بن عبد السلام؟

- (أ) دمشق.
(ب) القدس.
(ج) بغداد.
(د) القاهرة.

35. ما هي عقوبة أكل الربا في الدنيا؟

- (أ) السجن والقصاص.
(ب) الجلد والقصاص.
(ج) القصاص والرجم.
(د) الحرب واللعن ومحق البركة.

36. بِمَ قَرَنَ اللهُ تَعَالَى الصَّبْرَ؟

- (أ) الصلاة.
(ب) الزكاة.
(ج) الصيام.
(د) الشهادتين.

37. على ماذا يدل قول الرسول ﷺ (يمينك على ما يُصَدِّقُكَ عليه صاحبك)؟

- (أ) اليمين في القضاء على نية الحالف.
(ب) اليمين على نية الحالف والمستحلف.
(ج) اليمين في القضاء على نية المستحلف.
(د) اليمين على نية الشاهد.

38. ما الذي دفع المسلمين إلى تدوين السنة في نهاية القرن الأول الهجري؟

- (أ) خشية ضياعها بموت العلماء.
(ب) ظهور كثير من الحفاظ.
(ج) خشية اختلاطها بالشعر.
(د) بسبب تفرق الصحابة في البلدان.

39. أي من الآتية تعتبر صدقة جارية؟

- (أ) تجارة العقارات.
(ب) الزكاة.
(ج) حفر الآبار.
(د) الأعمال الحكومية.

40. ما حكم النذر بشكل عام؟

- (أ) مكروه.
(ب) مباح.
(ج) حرام.
(د) مندوب.

القسم الثاني: يتكون هذا القسم من ثلاثة أسئلة وعلى المشترك أن يجيب عن سؤالين فقط.

السؤال الثاني: (20 علامة)

- (أ) أكتب مما تقرر حفظه من قوله تعالى: (قَالَ يَا آدَمُ أَنْبِئْهُمْ بِأَسْمَائِهِمْ ... إلى قوله تعالى (...ومتاع إلى حين). (4 علامات)
- (ب) قال تعالى: (وَإِذْ قَالَ مُوسَى لِقَوْمِهِ اذْكُرُوا نِعْمَةَ اللَّهِ عَلَيْكُمْ إِذْ أَنْجَاكُمْ مِنْ آلِ فِرْعَوْنَ)، استخرج من الآية الكريمة مثالا على كل مما يأتي:-
 1. راء مرققة 2. راء مفخمة 3. مد بدل 4. مد لين (4 علامات)
- (ج) بين الحكم الشرعي فيما يأتي مع ذكر السبب:
 1. نذر شخص شرب الخمر إذا شفى الله مريضه
 2. ذهبت امرأة إلى عزاف لجلب محبة زوجها إليها
 3. صلى رجل الفجر ثلاث ركعات زيادة في التقرب إلى الله
 4. أخرج رجل زكاة فطره نقداً (6 علامات)
- (د) وضع ما يأتي:
 1. موقف الإسلام من استثمار الجوانب الايجابية للعولمة.
 2. أثر التحلي بالقيم الفاضلة في حياة الفرد المسلم. (6 علامات)

السؤال الثالث: (20 علامة)

- (أ) أكتب مما تقرر حفظه من قوله تعالى: (يَا أَيُّهَا الَّذِينَ آمَنُوا اسْتَعِينُوا بِالصَّبْرِ... إلى قوله تعالى... وإنا إليه راجعون). (4 علامات)
- (ب) قال تعالى: (وَلَكِنْ لِيَبْلُوَكُمْ فِي مَا آتَاكُمْ فَاسْتَبِقُوا الْخَيْرَاتِ ۗ إِلَى اللَّهِ مَرْجِعُكُمْ جَمِيعًا فَيُنَبِّئُكُمْ بِمَا كُنْتُمْ فِيهِ تَخْتَلِفُونَ)، استخرج من الآية الكريمة مثالا على كل مما يأتي:
 1. راء مفخمة 2. حرف تفخيم دائم 3. مد عاض للسكون 4. مد بدل (4 علامات)
- (ج) بين الحكم الشرعي مع ذكر السبب:
 1- يكثر تاجر في السوق من الحلف لترويج سلعته
 2- نذرت امرأة ذبح شاه إن نجح ابنها في الثانوية العامة
 3- أنكر رجل وجود الملائكة
 4- أكل شاب الطعام بالشوكة والسكين (6 علامات)
- (د) أذكر ثلاث فضائل وصفات تحلى بها كل من:
 1. السيدة عائشة رضي الله عنها
 2. العز بن عبد السلام (6 علامات)

السؤال الرابع: (20 علامة)

- (أ) قارن بين الرقى الشرعية والرقى الشركية من حيث المفهوم والحكم. (4 علامات)
- (ب) اكتب حديثين شريفيين في فضل التفقه في الدين. (4 علامات)
- (ج) عرف المصطلحات الآتية:
 1. المد المتصل 2. الصدقة الجارية 3. بيع المرابحة
 4. الإيمان 5. ربا الديون 6. العولمة (6 علامات)
- (د) علل ما يأتي:
 1. نهى القرآن الكريم عن وصف الشهداء بالأموات.
 2. الرباط من أفضل الأعمال التي يبقى ثوابها بعد موت صاحبها.
 3. قامت الدعوة بالعهد المكي على مقارعة الحجة بالحجة.
 4. راعى الإسلام الفروق الخلقية بين المرأة والرجل. (6 علامات)

انتهت الأسئلة



ملحوظة : عدد أسئلة الورقة (أحد عشر) سؤالاً، أجب عنها جميعاً.

أولاً: التعبير (15 علامة)

السؤال الأول: (15 علامة)

اكتب في واحد فقط من الموضوعات الآتية:

1- قال تعالى: "وَقَضَىٰ رَبُّكَ أَلَّا تَعْبُدُوا إِلَّا إِيَّاهُ وَبِالْوَالِدَيْنِ إِحْسَانًا".

2- إذا غامرت في شرف مروم فلا تقنع بما دون النجوم.

3- الرياضة تقوي الجسم، وتهذب النفس، وتوثق الصلات بين الشعوب.

ثانياً: المطالعة وفهم المقروء (35 علامة)

السؤال الثاني: (13 علامة)

أ- اختر الإجابة الصحيحة لما يأتي، ثم انقلها إلى دفتر إجابتك:

1- عمّ كنى الشاعر بقوله: (عبيد العصا)، في مسرحية غروب الأندلس؟
(أ) الذل والهوان. (ب) القسوة والشدة. (ج) المنعة والقوة.

2- أي من المسرحيات الآتية للشاعر عزيز أباظة؟
(أ) قمبوز. (ب) شجرة الدر. (ج) أهل الكهف.

3- ما دلالة كلمة (الأسوار) في عبارة: "... ولا تلغيه أسوار تشيد هنا؟"
(أ) أسوار القدس. (ب) جدار الضمّ والتوسّع. (ج) الحواجز العسكرية. (د) قضبان السجن.

4- أي من الآتية ليست من آداب التواصل الاجتماعي؟
(أ) إظهار الاسم الحقيقي. (ب) احترام خصوصية الآخرين.

5- كم يمكن للمدينة الذكية أن تلبّي حاجتها من الطاقة في حال انقطاع مصادر الطاقة الخارجية؟
(أ) ثلاث ساعات. (ب) ثلاثة أيام. (ج) ثلاثة أسابيع. (د) ثلاثة أشهر.

6- ماذا يفيد حرف الجرّ (من) في الحديث: "إن من أحبكم إليّ... أحاسنكم أخلاقاً؟"
(أ) الظرفية. (ب) بيان الجنس. (ج) التبعيض. (د) السببية.

7- الإمّ يشير قول الكاتب عن البومة: "وبدا لي أننا نعرف بعضنا جيداً؟"
(أ) أنه يعرفها فعلاً. (ب) أنها خائفة منه. (ج) أنها ليست صورة. (د) أن الفلسطينيين معتاد على البؤس.

8- أي من الآتية ليست من أعمال غسان كنفاني؟
(أ) إمّ سعد. (ب) عائد إلى حيفا. (ج) ما تبقى لكم. (د) دفاتر فلسطينية.

ب- أقرأ الآيات الكريمة الآتية من سورة يوسف، ثم أجب عن الأسئلة التي تليها:

قال تعالى: "الر تِلْكَ آيَاتُ الْكِتَابِ الْمُبِينِ (1) إِنَّا أَنْزَلْنَاهُ قُرْآنًا عَرَبِيًّا لَعَلَّكُمْ تَعْقِلُونَ (2) نَحْنُ نَقُصُّ عَلَيْكَ أَحْسَنَ الْقَصَصِ بِمَا أَوْحَيْنَا إِلَيْكَ هَذَا الْقُرْآنَ وَإِنْ كُنْتَ مِنْ قَبْلِهِ لَمِنَ الْغَافِلِينَ (3) إِذْ قَالَ يُوسُفُ لِأَبِيهِ يَا أَبَتِ إِنِّي رَأَيْتُ أَحَدَ عَشَرَ كَوْكَبًا وَالشَّمْسَ وَالْقَمَرَ رَأَيْتُهُمْ لِي سَاجِدِينَ (4) قَالَ يَا بَنِيَّ إِنِّي أَخَفْتُكُمْ عَلَىٰ إِخْوَتِكُمْ فَكَيْدُوا لَكَ كَيْدًا إِنَّ الشَّيْطَانَ لِلْإِنْسَانِ عَدُوٌّ مُّبِينٌ (5)".

1- وردت في الآيات الكلمتان: (يجتنبك، كوكبا)، ما معنى الأولى، وما إعراب الثانية؟

2- من المخاطب في قوله تعالى: " وَإِنْ كُنْتَ مِنْ قَبْلِهِ لَمِنَ الْغَافِلِينَ؟"

3- لماذا قال يعقوب لابنه يوسف -عليهما السلام-: "لَا تَقْضُصْ رُؤْيَاكَ عَلَىٰ إِخْوَتِكَ؟"

السؤال الثالث: (12 علامة)

أ- أقرأ الفقرة الآتية من (كم حياة ستعيش؟)، ثم أجب عن الأسئلة التي تليها:

سؤال يحمل من البراءة قدر ما يحمل من الخبث! فلو كان لإبليس أن يغوي أبناء آدم بعبارة واحدة، لكانت هذه العبارة، فيفتح لهم بها بوابة الشهوة، ويلقي في قلوبهم بذرة الطمع والأثرة وحبّ النفس، ولم لا؟ وهو يؤكد أن هناك حياة واحدة ستعيشها، يجب ألا تذهب هباءً، وعليك أن تتال فيها من اللذة ما قدر لك أن تتال، وإلا فستنتهي القصة وأنت بطلها تعاني الحرمان.

1- ما السؤال المقصود في السطر الأول؟

2- وردت الكلمتان: (إبليس، حياة)، اكتب: إعراب الأولى، وجمع الثانية.

3- وضح المقصود بالعبارتين: *يلقي في قلوبهم بذرة الطمع والأثرة وحبّ النفس.

* تذهب هباءً.

4- اشرح قول نابليون: "ليس الموت شيئاً مهماً، لكن أن تعيش مهزوماً يعني أن تموت كل يوم".

ب- يحمل عنوان النص (مرافعات أمام ضمير غائب) اتهاماً صريحاً للقضاة في المحاكم الصهيونية بغياب النزاهة والعدالة. وضح ذلك.

السؤال الرابع: (10 علامات)

اقرأ النصّ الآتي من رسالة أحمد أمين إلى ابنه، ثمّ أجب عن الأسئلة التي تليه:

أي بني، إنّ الذوق عمل في ترقية الأفراد والجماعات أكثر مما عمل العقل، وإن كان العقل أسس المدن، ووضع تصاميمها، فالذوق جمّلها وزينها. إن شئت أن تعرف قيمة الذوق في الفرد فجزّده من الاستمتاع بمناظر الطبيعة وجمال الأزهار، وجزّده أن يهتزّ للشعر الجميل والأدب الرفيع، ثمّ انظر بعد ذلك ماذا عسى أن يكون، وماذا عسى أن تكون حياته؟

- 1- ما الفكرة الرئيسية في النصّ؟
- 2- وضّح المقصود ب: يهتزّ للشعر الجميل.
- 3- بيّن دور كلّ من العقل والذوق في بناء المدن.
- 4- ما المحسن البديعي بين: جمّلها، وزينها؟
- 5- استخرج من النصّ أسلوب نداء.

(علامتان)
(علامتان)
(3 علامات)
(علامتان)
(علامة)

ثالثاً: النصوص الشعرية والعروض (25 علامة)**السؤال الخامس: (15 علامة)**

أ- اختر الإجابة الصحيحة لما يأتي، ثمّ انقلها إلى دفتر إجابتك:

- 1- ما دلالة (السبيل) في قول عبد اللطيف عقل: "اختلفت بنا السبل"؟
(أ) الآراء. (ب) أماكن الإقامة. (ج) المواعيد. (د) الظروف.
- 2- أيّ الأعمال الأدبية الآتية للشاعر أحمد بخيت؟
(أ) قمر جنوبي. (ب) في حضرة الضياء. (ج) بائعة الحليب. (د) شواطئ القمر.
- 3- ما المقصود من قول الشاعر حسن المرواني: "يرسو بجفني حرمان يمصّ دمي"؟
(أ) الرمد. (ب) النعاس. (ج) الأرق. (د) القذى.
- 4- ما نوع التناصّ في قول معين بيسوسو: "ألقي عصاه على الخرائب واستحال إلى دمار"؟
(أ) ديني. (ب) تاريخي. (ج) أدبي. (د) شعبي.
- 5- ما السطر الشعري الذي يعبر عن الثبات في الوطن في قصيدة عبد اللطيف عقل؟
(أ) نسيت بأننى البطة الذي فى بطنه يصل.
(ب) فما ملّوا عذاب سجونهم أبداً.
(ج) أنا جذر يناعى عمق هذي الأرض.
(د) وأحفظ فى شرايينى الذين عيونهم أمل.

(5 علامات)

(4 علامات)

ب- اكتب أربعة أبيات من قصيدة (أنا وليلى).

ج- اقرأ الأبيات الآتية من قصيدة (وصية لاجئ)، ثمّ أجب عن الأسئلة التي تليها:

- حيفا تئنّ أما سمعت أنين حيفا؟
وشممتّ عن بُعد شذى الليمون صيفا
تبكي إذا لمحت وراء الأفق طيفا
سألته عن يوم الخلاص متى؟ وكيف؟
هي لا تريدك أن تعيش العمر ضيفا
- 1- ما سبب بكاء حيفا؟
 - 2- ما معنى ما تحته خطّ؟
 - 3- ما المقصود بيوم الخلاص في البيت الرابع؟

(علامتان)
(علامتان)
(علامتان)

السؤال السادس: (10 علامات)

أ- اقرأ الأبيات الآتية، ثمّ أجب عن الأسئلة التي تليها:

وإن ضاق رزق اليوم فاصبر ، إلى غدٍ، عسى نكبات الدهر عنك تزول
يعزّ غنيّ النفس إن قلّ ماله ويغنى غنيّ المال وهو ذليل
فما أكثر الإخوان حين تعدهم ولكنهم في النائبات قليل
1- ما البديل الذي يمثّل الغرض الشعريّ للأبيات؟

- 1- أ- الفخر. ب- الوصف. ج- الحكمة. د- المدح.
- 2- وضّح معنى: ضاق، نكبات.
- 3- اشرح البيت الأخير.

(علامة)
(علامتان)
(علامتان)

1- املأ الفراغ بالكلمة المناسبة ممّا بين القوسين بحيث يستقيم الوزن والمعنى:

ليس ارتحالك في كسب الغني سَفراً ... مقامك في ضرّ هو السَفَرُ (ولكن، لكن، لكن، لكن)

2- أيّ الكلمات الآتية: (الواو، أن، أو) يجب حذفها حتى يستقيم الوزن في البيت؟

ولكنّي ظلمتُ فكذتُ أن أبكي من الظلم المبين، أو بكيتُ

3- قطع بيتاً واحداً فقط من البيتين الآتيين، وحدّد تفعيلاته، واذكر بحره:

- ومن يُنْفِق الساعات في جَمْع ماله مخافة فقر، فالذّي فعل الفقر
- وإذا كانت النفوس كبارا تعبت في مُرادها الأجسام

(3 علامات)

رابعاً: القواعد (25 علامة)

السؤال السابع: (15 علامة)

(6 علامات)

أ- اختر الإجابة الصحيحة لما يأتي، ثم انقلها إلى دفتر إجابتك:

- 1- أي من الأسماء الآتية ممنوع من الصرف؟
أ- عباقرة. ب- شيطان. ج- ريتان. د- القوارير.
- 2- أي الكلمات الآتية ليست اسم فعل؟
أ- هيا. ب- رويداً. ج- وي. د- حى.
- 3- في أي كلمة لم يحصل إبدال؟
أ- مُتَقَد. ب- مُتَزَن. ج- مُتَبِع. د- مُتَّصَل.
- 4- ما إعراب اسم الشرط (مَنْ) في: وَمَنْ يَفْعَلُ الْخَيْرِ لَا يَعمَدُ جَوَازِيَهُ؟
أ- مبتدأ. ب- مفعول به. ج- فاعل. د- خبر مقدم.
- 5- في أي الجمل الآتية جاءت (لا) حرف عطف؟
أ- "لا تحزن، إن الله معنا".
ب- إنما يفوز المُجَدُّ لا المهمل.
ج- لا ينفع الندم بعد فوات الأوان.
د- "من يضل الله فلا هادي له".
- 6- في أي الجمل الآتية أفادت (الواو) القسم؟
أ- "ولسوف يعطيك ربك فترضى".
ب- تحذت وصديقي ساعات طويلة.
ج- وحقك أنت المني والطلب.
د- تقدم القائد وجنوده لمواجهة العدو.

ب- أقرأ النص الآتي، ثم أجب عن الأسئلة التي تليه:

قيل إن امرأة عجوزاً مرضت، فأتاها ابنها بطبيب، فرأها الطبيب مترتنة بملابس مصبوغة، فأنضح له ما بها، فقال: ما أوجها إلى زوج! فقال الابن: وما حاجة العجائز للأزواج؟ فقالت الأم: وي لمن يتحدث بما لا يعرف، والطبيب أعلم منك على كل حال.

- 1- وضح الإعلال في كلمة: العجائز.
- 2- استخرج من النص اسم فعل، واذكر معناه.
- 3- ما الأصل اللغوي لكلمة (أنضح)؟
- 4- اضبط ما تحته خط.
- 5- بين نوع (ما) في: فأنضح له ما بها.

السؤال الثامن: (10 علامات)

(4 علامات)

أ- ما سبب منع الاسميين الآتين من الصرف: أطرش، نعمان؟

(4 علامات)

ب- بين محل الجملة التي تحتها خط من الإعراب فيما يأتي:

- 1- ذو العقل يشقى في النعيم بعقله وأخو الجهالة في الشقاوة ينعم
- 2- أيهما أحب إليك: خصم يبتسم لك، أم صديق يتجهمك؟

(علامتان)

ج- بين نوع (من) المخطوط تحتها في الجمل الآتية:

- 1- إلى من أشتكى، ولمن أناجي إذا ضاقت بما فيها الصدور
- 2- يا من هواه أعزه وأذلني كيف السبيل إلى وصالك؟ ذلني

خامساً: الأدب (35 علامة)

السؤال التاسع: (15 علامة)

(7 علامات)

أ- اختر الإجابة الصحيحة لما يأتي، ثم انقلها إلى دفتر إجابتك:

- 1- ما أثر مدرسة الألسن في نشر الوعي والنهضة العربية الحديثة؟
(أ) إحياء اللغة العربية. (ب) طباعة المخطوطات القديمة. (ج) نشر كتب التراث. (د) ترجمة معارف الشعوب.
- 2- ما الأسطورة التي ترمز إلى تجدد الحياة والبعث؟
(أ) سيزيف. (ب) تموز. (ج) العنقاء. (د) السندباد.
- 3- ما الاتجاه الذي يمثله الشعر الذي يتناول القضايا العربية المشتركة، ويتغنى بالعرب؟
(أ) الوطني. (ب) القومي. (ج) الإنساني. (د) الوجداني.
- 4- ما نوع الاغتراب الناتج عن اختلال الإيمان، والشعور بعدم الانسجام مع العقائد والقيم السائدة؟
(أ) الثقافي. (ب) الزماني. (ج) الروحي. (د) المكاني.
- 5- ماذا نسّمى الأسلوب الذي يسرد فيه كاتب القصة مجموعة من الأحداث، ثم يعود لسرد حدثٍ قبلها؟
(أ) السرد. (ب) الاسترجاع. (ج) الوقفة. (د) الحوار.

← يتبع صفحة (4)

لاحظ الصفحة التالية

تابع السؤال التاسع أ:

6- علام يدل سرد الأحداث بضمير المتكلم في رواية الطنطورية لرضوى عاشور؟

- (أ) أن الكاتبة مشاركة في الأحداث.
(ب) أن الكاتبة هي نفسها السارد.
(ج) أن السارد مشارك في الأحداث.
(د) أن الكاتبة بطله الرواية.

7- من كان رئيس رابطة (العصبة الأندلسية) في المهجر؟

- (أ) ميشيل معلوف. (ب) إلياس فرحات.
(ج) رشيد سليم الخوري. (د) ميخائيل نعيمة.

ب- أقرأ الأبيات الآتية، من قصيدة (ما لم تقله زرقاء اليمامة)، ثم أجب عن الأسئلة التي تليها:

ستجىء سبع مرة فلتخزنوا من حكمة الوجع المصابر سكرًا
سبع عجاج فاضبطوا أنفاسكم من بعدها التاريخ يرجع أخضرا
أشتم رائحة القميص وطالما هطل القميص على العيون ويئسرا

1- ما المناسبة التي جاءت فيها هذه القصيدة؟

2- ما الاتجاه الشعري الذي يمثلُه النص؟

3- وظف الشاعر التناص الديني مرتين في الأبيات السابقة. بين دلالتيهما.

ج- اكتب ستة أسطر من قصيدة (أبد الصبار) للشاعر محمود درويش.

(علامة)

(علامتان)

(علامتان)

(3 علامات)

السؤال العاشر: (20 علامة)

أ- اذكر اثنين من مظاهر الاغتراب.

ب- علل إطلاق اسم الكلاسيكية الجديدة على مدرسة الإحياء.

ج- انسب الكتائين الآتيين إلى مؤلفيهما:

1- تخليص الإبريز في تلخيص باريز.

2- الأجنحة المتكسرة.

د- أقرأ الأسطر الشعرية الآتية، من قصيدة (جفرا الوطن المسبي)، ثم أجب عن الأسئلة التي تليها:

لرفاق في السجن الكحلي أغني

للعاصفة الخضراء أغني

للولد الأندلسي المقتول على النبع الريفّي أغني

لعصافير الثلج ترزق في عتبات الدور

1- إلام يرمز الولد الأندلسي؟

2- ما الأمور التي تستحق الغناء من أجلها كما يظهر في الأبيات السابقة؟

هـ- من خلال دراستك للقصّة والرواية والمسرحية، أجب عن الأسئلة الآتية:

1- عرّف الرواية.

2- ما أول قصّة قصيرة ظهرت في الوطن العربي؟

3- وضّح المقصود بالشخصية النامية في القصّة.

4- اذكر الشخصيتين الرئيسيتين في قصّة (نافخ الدواليب) لسميرة عزّام.

5- ما دلالة عنوان المسرحية (رأس المملوك جابر)؟

(علامتان)

(علامتان)

(علامتان)

(علامتان)

(علامتان)

(علامتان)

(علامتان)

سادساً: البلاغة (15 علامة)السؤال الحادي عشر: (15 علامة)

أ- اختر الإجابة الصحيحة لما يأتي، ثمّ انقلها إلى دفتر إجابتك:

1- ما أكثر أنواع التشبيه المفرد بلاغةً، وفصاحةً، وحسنً بيان؟

(أ) المؤكّد المجمل. (ب) المرسل المجمل. (ج) المرسل المفصل. (د) المؤكّد المفصل.

2- ما نوع التشبيه في قوله تعالى: (مثل الذين اتّخذوا من دون الله أولياءً كمثّل العنكبوت اتّخذت بيئاً وإنّ أوهنّ البيوت ليبيّث العنكبوت لو كانوا يعلمون)؟

(أ) مرسل مفصل. (ب) مرسل مجمل. (ج) تمثيلي. (د) ضمنّي.

3- أي من التي تحتها خطّ فيما يأتي تُعدّ مثالاً على الاستعارة المكنية؟

(أ) تفتّحت أزهار السماء. (ب) فلنضمّ عن المنكر. (ج) حضر بحر العلم. (د) يحدّثنا التاريخ عن أمجاد أمتنا.

(3 علامات)

لاحظ الصفحة التالية

← يتبع صفحة (5)

تابع السؤال الحادي عشر:

ب- وضح اللون البلاغي فيما يأتي، واذكر نوعه:

(4 علامات)

1- أَوْقَدَ الحَطَابُ ناراً.

2- قال الشاعر: علا فما يَسْتَقِرُّ المَالُ في يَدِهِ وكيف تُمْسِكُ ماءً قُنَّةُ الجَبَلِ؟

(4 علامات)

ج- اقرأ العبارات الآتية، ثم أجب عن المطلوب أمام كل منها:

1- قال تعالى: (في رَحْمَةِ اللَّهِ هم فيها خالدون). (اذكر نوع المجاز المرسل فيما تحته خط).

2- الشهداء مثل القناديل نوراً وبهاء. (اجعل التشبيه مرسلًا مجملًا).

(4 علامات)

د- مثِّل لكل ممَّا يأتي بجُملة مُفيدة:

1- تشبيه بليغ.

2- مجاز مرسل علاقته اعتباره ما كان.

انتهت الأسئلة

**Reading Comprehension: (65 points)****Question Number One: (25 points)**

Read the following text and do the tasks below:

It used to be thought that friendship was something that 'just happened' between people. However, many studies by social scientists have shown that becoming friends with another person is a complex process, but one that can be learnt. Making (and keeping) friends isn't easy – **it** takes effort. Here are the top four tips for turning someone you know into a lasting friend.

1

Everyone has acquaintances – people we know, but who aren't (yet) friends. To take your relationship further than just discussing the weather, you need to show an interest in their lives. Ask them questions (but don't get too personal at first). Even more importantly, listen to their answers and remember the information for the next time you meet.

2

Maybe you made a joke that annoyed your new friend, or forgot to call when you promised to. It's almost inevitable that something will go wrong at some point, but it's how you react to the situation that may be more important than the initial error. An honest apology and making the effort not to let it happen again are usually all that's needed.

3

When making arrangements, there are two opposite ways of behaving that can harm a friendship. The first is forcing the other person to make all the decisions by saying things like 'I don't mind, you choose' or 'Whatever you want'. The other is being too particular and inflexible about what you want to happen, or where, or when. Try to find a middle way between the two extremes.

4

It's understandable that you want to impress a new friend and make them aware of your good points, but don't go too far. Research shows that most of us tend to like people who don't boast about their achievements or take themselves too seriously.

1. Match the titles below with the tips in the text: (8 points)

a. Be clear, but not too demanding

b. Don't try too hard

c. Don't let one mistake get in the way

d. Be interested

2. Decide whether each of the following is True or False: (8 points)

a. According to the writer, making friends is an easy task. ()

b. Friendship means more than talking about weather. ()

c. Being careless about friends' lives may limit your relationships with them. ()

d. To be too proud of yourself is extremely needed for new friendships. ()

3. Answer the following questions: (8 points)

1. How should you react if you do something wrong to your friend ?

a.....

b.....

2. What are the extreme actions that can easily destroy a friendship?

a.....

b.....

4. The pronoun **it** (line 3) refers to (1 point)

Question Number Two: (40 points)

A: Read the text then do the tasks below: (20 points)

A lot of the New Year ‘traditions’ in countries like England, Australia and the USA are actually Scottish in origin. A custom, which is less popular now, is ‘first-footing’. To bring good luck to a house, the first person to visit it (entering by the front door and leaving by the back door) should be a tall, dark-haired man carrying a piece of coal for the fire, some salt, some bread and something to drink. These symbolize warmth, flavor and of course food. More generally, it is usual, as in China, to clean the whole house on the day before New Year, and to make sure you have paid back any money you owe to others before midnight.

Like other Muslim countries, Egypt uses the Islamic calendar and the New Year marks the migration (Hijra) of Prophet Mohammad (peace be upon him) from Mecca to Medina. The New Hijra Year can’t begin until the appearance of the new moon of Muharram is officially announced. Although modern technology now makes it possible to find this out well in advance, the new year moon should be observed with the naked eye.

New Year is widely celebrated with visits to family and friends. In many different parts of the country, special religious chanting troupes organise performances in praise of Prophet Mohammad and in commemoration of his Hijra. For many, though, this period is a time for prayer and quiet thought, concentrating on what you have done wrong in the past year and how you need to change in the next.

1. Decide whether each of the following is True or False: (6 points)

- a. The traditions of The New Year in the USA come from Scottish customs. { }
- b. New Hijra Year is officially announced after seeing the moon of Muharram using a telescope. { }
- c. “First-footing” is a widely used custom in The New Year celebratio { }

2. Complete the following table about Ways of celebrating The New Year: (8 points)

Country’s name	Ways of celebrating The New Year
China	a.....
	b.....
Egypt	a.....
	b.....

3. Write what each of the following symbolizes: (6 points)

- 1. coal and fire:.....
- 2. salt:.....
- 3. bread and drink :.....

B: Read the text then answer the questions below: (20 points)

During the creation of the Zionist state in 1948, approximately three quarters of a million Palestinians were forced to become refugees. Together with their children, more than 4.3 million of these refugees are today registered with the United Nations while over 1.7 million are not. According to The United Nations Relief and Works Agency for Palestinian Refugees (UNRWA), one-third of the registered refugees live in 59 U.N.–run camps in Jordan, Lebanon, and Syria, and in the West Bank and Gaza Strip in Palestine. The majority of the rest live in and around cities in the West Bank, Gaza Strip and in neighboring countries.

Approximately 32,000 Palestinians also became displaced in the areas occupied in 1948. Today, this number has greatly increased. Despite the fact that these Palestinians were issued citizenship, the Zionist state has refused these refugees` right to return to their homes or villages in the areas occupied in 1948.

As a result of destroying people`s houses, ignoring their rights to stay in their villages and construction of settlements on stolen Palestinian owned–land, at least 57,000 Palestinians have become displaced in the occupied West Bank. This number includes 15,000 persons so far displaced by the construction of the occupation`s Separation/Apartheid Wall.

A: Answer the following questions. (10 points)

- 1. Which right did the Zionists refuse to give to the 1948– displaced refugees?
.....
- 2. What forced Palestinians to become displaced again in the occupied West Bank after the 1967 war?
a..... b. c.
- 3. How many people does the Apartheid Wall displace?
.....

B: Complete the following statements:**(6 points)**

- is the international organization that has been responsible for the refugees since 1948.
- One-third of the Palestinian refugees live in and the other two-thirds live in

C: Decide whether the following statements are TRUE or FALSE**(4 points)**

- All Palestinian refugees are today registered with the United Nations. ()
- There are displaced Palestinians in the areas occupied in 1948. ()

Vocabulary (25points)**Question Number Three: (25points)****A: Choose words from the box and match them with their meanings :****(7.5points)**

consensus	controversial	conviction	criteria	persevered
-----------	---------------	------------	----------	------------

-: (didn't give up)
- : (a strong belief)
-: (general agreement)
- : (qualifications)
-: (causing a lot of argument)

B: Complete the sentences below with words from the box.**(7.5 points)**

sector	optional	initial	mentioned
hub			

- Theirfailure was followed by unexpected success.
- As the industrial grew, more and more of the population moved to the cities.
- The kitchen is the of the household.
- In her speech, she nothing about her previous job experience.
- The price includes hotel and meals, but entertainment is

C: Fill in the blanks with the correct phrasal verbs from the box.**(4 points)**

taking off	stand out	pass on	catching up with
------------	-----------	---------	------------------

- His haircut really makes him from the rest of his friends.
- It was so lovely you; it's been years since we were last together!
- There are some diseases that a woman might to her child.
- The noise is mainly caused by aircraft from the airport.

D: Circle the correct answer:**(6 points)**

- Avoid eating (**overcooked** / **undercooked**) chicken with soft pink flesh. You may get sick.
- (**Market research**/ **Marketing**) shows that need for small cars will continue to grow.
- The company has been (**in business**/ **on business**) for almost 100 years.

Language: (25 points)**Question Number Four: (25 points)****A: Complete the sentences below with the correct form of the verbs in brackets.****(6 points)**

- We can't get a table right now because we a table yet. (**not/ book**)
- I saw that most peoplealready..... the party when I arrived. (**leave**)
- My grandmotherher glasses now, so she can't read this note. (**not/ wear**)
- I music coming from my neighbor's apartment last night. (**hear**)

B: Rewrite the following sentences using the given starters.**(6 points)**

- I didn't study well for the exam.
I wish
- " She didn't report the accident to the police."
She should
- He neglected all the warnings of his boss.
He regrets

C: Complete the sentences with the correct verb form. (to infinitive or "- ing" form). (6 points)

1. I still remember my son the alphabets when he was young. (teach)
2. On cold mornings, the car may refuse (start)
3. Let's shake hands and agree.....the argument. (forget)

D: Circle the correct answer: (3 points)

1. He (must have left/could have left) the lights on in the house since the electricity bill was huge.
2. They live in a (charmed/ charming) old house.
3. You look quite tired! I (am going to/ will) wash the dishes for you.

E: Add question tags to the following (4 points)

1. He has been here recently ,
2. Their story wasn't true,

Literature: (15 points)

Choose one of the two stories and answer its questions: اختر واحدة من القصتين واجب عن جميع اسئلتها
Romeo and Juliet (15 points)

Question Number Five: (7 points)

A: Decide whether the following is True or False. (3 points)

1. The mixture prepared by Friar Laurence will make Juliet seem sick. ()
2. Prince Escalus turns angrily to Capulets and Montagues for their continuous silly fights ()
3. In the end, the death of the two young lovers ends the terrible hate of their families. ()

B: Circle the correct answers: (4 points)

1. The first street fight between the two young people of the two families happened between:
 - a. Mercutio and Tybalt
 - b. Romeo and Tybalt
 - c. Benvolio and Paris
 - d. Benvolio and Tybalt
2. The hatred between the Montagues and the Capulets will make it difficult for :
 - a. Friar to help Juliet.
 - b. Romeo and Juliet to get married.
 - c. Juliet to leave Verona .
 - d. Prince Escalus to exile Romeo.

Question Number Six: (8 points)

A: Answer the following questions: (4 points)

1. Where does the story happen?
.....
2. What does the Nurse tell Juliet about the young man she danced with?
.....

B: Read the following quotation then answer the questions below. (4 points)

“How dare he come here, wearing a mask, to scorn our celebration? I will kill him for this.”

1. Who said these words ?To whom?
2. " he " refers to:
3. " here " refers to :.....
4. Why does the speaker seem so angry?
.....

King Lear (15 points)

Question Number Five: (6 points)

1. Decide whether the following statements are True or False: (3 points)

1. Lear was afraid he would go mad because of Goneril's ingratitude. ()
2. Lear held a real trial for his two daughters. ()
3. Edmund could not make his mind which sister to marry. ()

2. Choose the correct answer: (3 points)

1. The fool joked that Lear had become a fool because...

- a. he had given away all his power to his daughters.
- b. his men weren't allowed to stay with him.
- c. the Fool himself and Kent accompanied him.

2. Albany arrested Edmund because

- a. he knew that his wife was in love with Edmund.
- b. he wanted to bring Edmund to justice for his treason.
- c. Edmund had led the English army badly.

Question Number Six: (9 points)

1. Read the following quotation then answer the questions below. (3 points)

" Blow winds and crack your cheeks"

1. When did King Lear say this?

.....

2. Why did he say this?

.....

3. What was the similarity between winds and the speaker's feeling?

.....

2. Answer the following questions: (6 points)

1. How did Edmund turn his father against Edgar? Why?

.....

2. Why did Gloucester take Lear's side against Regan, Goneril and their husbands?

.....

3. Why was Goneril worried about the news of Cornwall's death?

.....

Writing : (20 points)**Question Number Seven: (20 points)****Part One: (10 points)**

هذا القسم إجابي

Apply for the "National Institution for Fashion Designing". Try to include these notes in your application form: (future career, previous experience, present studies...etc). Start Like this

National Institution for Fashion Designing

Application Form

Name: Asma' Ali

Age : 18 years

Part Two: (10 points)

Choose one of the following topics to write an essay

اكتب موضوعا واحدا من الموضوعين

1. "Successful business owners say that building brand loyalty is about making a promise to people and sticking to it. It's a challenge!"

To what extent do you agree? Support your answer with some examples.

These notes may help you:

(consumers' trust and perceptions, protect brands, special offers can harm brands..... etc.)

2. "The Use of technology in communication has become a necessity".

Discuss this statement in terms of :

*Forms of modern communication: (emails, faxes, mobile phones, texting services, video conferences, etc.....)

*Use of technology in communication for both individuals and businesses.

*Advantages and disadvantages of the use of technology for each.

The End

مدة الامتحان : ساعتان
اليوم والتاريخ : ٧ / ١٢ / ٢٠١٩
مجموع العلامات (١٠٠) علامة



دولة فلسطين
وزارة التربية والتعليم
الإدارة العامة للقياس والتقويم والامتحانات
الفرع: الأدبي والشعري
المبحث: الرياضيات
الدورة: الاستكمالية

ملاحظة : عدد أسئلة الورقة (ستة) أسئلة، أجب عن (خمسة) منها فقط

القسم الأول: يتكون هذا القسم من أربعة أسئلة، وعلى المشترك أن يجيب عنها جميعاً

السؤال الأول: (٣٠ علامة)

يتكون هذا السؤال من (٢٠) فقرة من نوع اختيار من متعدد، من أربعة بدائل، اختر رمز الإجابة الصحيحة، ثم ضع إشارة (x) في المكان المخصص في دفتر الإجابة:

(١) ليكن $ص = ٧(س)$ اقتراناً ، وكان متوسط تغير الاقتران عندما تتغير $س$ من $س_١ = ١$ إلى $س_٢ = ٤$ هو ١٣ ، فما قيمة $\Delta ص$ ؟

(أ) ١٣ (ب) ٣٩ (ج) ٣ (د) ١٠

(٢) إذا كان $٧(س) = ٥$ ، فما قيمة $٧(١-)$ ؟

(أ) ٥ (ب) ١ (ج) ٥- (د) ١-

(٣) إذا كان $٧(س) = ١ + س$ ، $٥(س) = س^٢$ ، فما قيمة $(٧ \times ٥) - (٢-)$ ؟

(أ) ١٦ (ب) ١٢ (ج) ٨ (د) ٨-

(٤) إذا كان $٧(س) = س^٢ - ٤س$ ، فما قيمة $س$ التي يكون ميل المماس لمنحنى $٧(س)$ عندها يساوي ٢ ؟

(أ) ٤- (ب) ٣ (ج) ٣- (د) صفر

(٥) إذا كانت $ص = ٢س^٢ + ٥س$ ، فما قيمة $\frac{ص}{س}$ ؟

(أ) $٢س^٢$ (ب) $٢س^٢ + ٥س$ (ج) $١٠ + س$ (د) $٥ + ٢س$

(٦) إذا كان $٧(س) = ٣س^٢ - ٤س + ٦$ ، فما قيمة $٧(٢)$ ؟

(أ) ٤ (ب) ٢- (ج) ١٢ (د) ٨

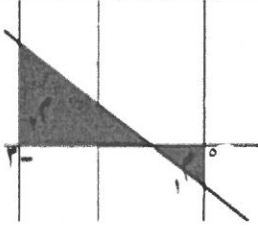
(٧) ما قيمة $\int_٢^٣ ٥(س) دس + \int_١^٢ ٣(س) دس$ ؟

(أ) ١٨ (ب) ٣- (ج) ١٨- (د) ٣

(٨) إذا كان $\int_٢^٣ ٧(س) دس = ٣$ ، وكان $\int_١^٢ ٧(س) دس = ٦$ ، فما قيمة $\int_١^٣ ٧(س) دس$ ؟

(أ) ١٢ (ب) ٤٨ (ج) ٢٤ (د) ٦

٩) إذا كانت مساحة المنطقة $\triangle = ٤$ وحدات مربعة ، $\triangle = ١$ وحدات مربعة ،



فما قيمة $\int_{-3}^3 (س) ds$ ؟

- (أ) ١٥ (ب) ٢١ (ج) ٧ (د) ٢١-

١٠) إذا كانت $\begin{bmatrix} ٢ & ١+س \\ ٤ & س \end{bmatrix} = \begin{bmatrix} ٢ & ص \\ ٤ & ٢ \end{bmatrix}$ ، فما قيمة كلاً من $س$ ، $ص$ على الترتيب؟

- (أ) ٣ ، ٢ (ب) ٥ ، ٤ (ج) ٢ ، ٣ (د) ١- ، ٣-

١١) إذا كانت $\begin{bmatrix} ٩-٣ & ٣ \\ ٨-٢ & ٢ \end{bmatrix} = ب$ ، $\begin{bmatrix} ٥ & ١ \\ ٠ & ٤ \end{bmatrix} = ب$ ، فما قيمة $١٢ب - ٢١ب$ ؟

- (أ) ٥ (ب) ٢ (ج) ٣- (د) ١-

١٢) إذا كانت $ب = \begin{bmatrix} ١ & ٠ \\ ٥ & ٣ \end{bmatrix}$ ، فما هي المصفوفة $٣ب$ ؟

- (أ) $\begin{bmatrix} ٣- & ٠ \\ ١٥- & ٩- \end{bmatrix}$ (ب) $\begin{bmatrix} ١- & ٥ \\ ٠ & ٣ \end{bmatrix}$ (ج) $\begin{bmatrix} ٣ & ٠ \\ ١٥ & ٩ \end{bmatrix}$ (د) $\begin{bmatrix} ٣ & ١٥ \\ ٠ & ٩ \end{bmatrix}$

١٣) ما قيمة $س$ التي تجعل المصفوفة $\begin{bmatrix} ٣ & ٢-س \\ ٣ & ١ \end{bmatrix}$ منفردة؟

- (أ) ٣ (ب) ١ (ج) ١- (د) ٣-

١٤) عند حل نظام من معادلتين خطبتين بمتغيرين وجد أن $ص = ٣$ ، $٣ = |أ|$ ، $٣ = |أ|$ ، $٦- = |أ|$ ، فما قيمة $س$ ؟

- (أ) ٣- (ب) $\frac{٢-}{٣}$ (ج) $\frac{٣-}{٢}$ (د) ٣

١٥) ما قيمة $س$ التي تحقق المعادلة $٢ = (١-س)٨$ ؟

- (أ) ٣ (ب) ١ (ج) ٢ (د) ٢-

١٦) ما قيمة $\sum_{r=1}^5 (١+٢ر)$ ؟

- (أ) ٢٦ (ب) ٥٠ (ج) ٥٦ (د) ٦٠

١٧) ما هو الحد السادس في المتتالية الهندسية $٣ + ٦ + ١٢ + \dots$ ؟

- (أ) ٢٤ (ب) ٤٨ (ج) ٦٤ (د) ٩٦

١٨) ما هو الحد الأول في متسلسلة حسابية أساسها ٢ ، ومجموع أول ٦٠ حد فيها يساوي ١٢٠ ؟

- (أ) ١١٩ (ب) ٥٧- (ج) ١١٤- (د) ١١٤

١٩) إذا كانت المساحة عند $(ع \leq ١.٥) = ك$ ، فما نسبة المساحة تحت $(ع \geq ١.٥)$ ؟

- (أ) ١-ك (ب) ك-١ (ج) ك (د) ٢ك

٢٠) إذا كانت العلامات المعيارية لمجموعة من القيم هي : -٢ ، $١-$ ، $٤-$ ، ١٣ ، $١-$ ، فما قيمة $أ$ ؟

- (أ) ٦- (ب) ٢ (ج) ٢- (د) ٦

السؤال الثاني: (٢٠ علامة)

(أ) إذا كان $U = (S) = S^2 - 4S + 4$ ، $S \in \mathbb{C}$ ، أوجد:

١. فترات التزايد والتناقص للاقتران U (س) على مجاله.

٢. القيم القصوى للاقتران U (س) وأحدد نوعها.

(١٠ علامات)

(ب) استخدم طريقة النظير الضربي في حل نظام المعادلات الآتي: $S^2 + 5S = 4$ ، $5S - 2S = 1$. (١٠ علامات)

السؤال الثالث: (٢٠ علامة)

(أ) جد مجموع الحدود الستة الأولى في المتتالية الهندسية التي حدها الأول = ٣ ، وأساسها = -٢ . (١٠ علامات)

(ب) أوجد المصفوفة S التي تحقق المعادلة: $\begin{bmatrix} 6 & 3 \\ 1 & 2 \end{bmatrix} \times 5 = S^2 + S^2$ ، حيث S^2 هي المصفوفة المحايدة.

(١٠ علامات)

السؤال الرابع: (٢٠ علامة)

(أ) تقدم ١٠٠٠ طالب لامتحان عام ، وكان توزيع علاماتهم يتبع التوزيع الطبيعي بوسط حسابي ٧٠ ، وانحراف معياري ١٠ ،

أجب عما يلي:- (١٠ علامات)

١. عدد الطلبة الذين تقل علاماتهم عن ٨٠.

٢. إذا كانت أقل علامة يحصل عليها الطالب ليكون من فئة الممتاز هي ٨٥ ، فما النسبة المئوية للطلبة الذين حصلوا على

تقدير الممتاز؟

(يمكنك الاستعانة بالجدول المجاور):

١,٥	١,٠٠	ع
٠,٩٣٣٢	٠,٨٤١٣	المساحة تحت ع

(ب) جد كلاً من التكمالات الآتية :

١. $\int (4S^2 + 8S) dS$.

٢. $\int \left(\frac{1}{S} - S^2 + \sqrt{S} \right) dS$. (١٠ علامات)

القسم الثاني: يتكون هذا القسم من سؤالين وعلى المشترك أن يجيب عن أحدهما فقط.

السؤال الخامس: (١٠ علامات)

(أ) ما معادلة المماس الأفقي لمنحنى الاقتران U (س) $= 2س^2 - ٤س + ٥$ ؟ (٥ علامات)

(ب) في نظام من معادلتين خطيتين بمتغيرين باستخدام طريقة كرامر، وجد أن $U = \begin{bmatrix} ٥ & ١ \\ ٧ & ٢ \end{bmatrix}$ ، $U = \begin{bmatrix} ١ & ٢ \\ ٢ & ٣ \end{bmatrix}$. (٥ علامات)

أوجد: (٥ علامات)

١- المصفوفة أ.

٢- مجموعة حل النظام.

السؤال السادس: (١٠ علامات)

(أ) إذا كان ميل المماس لمنحنى الاقتران U (س) عند أي نقطة عليه يعطى بالقاعدة U (س) $= ٣س^٤ + \frac{٢}{٣س}$ ، جد قاعدة

الاقتران U (س) علماً بأن U (١) $= ١$. (٥ علامات)

(ب) ما مجموعة حل المعادلة اللوغاريتمية : لو (٢٥) $= ٣-٣٢ = ٣س$. (٥ علامات)

انتهت الأسئلة



ملاحظة : عدد أسئلة الورقة (سنة) أسئلة، أجب عن (خمس) منها فقط

القسم الأول: يتكون هذا القسم من أربعة أسئلة، وعلم المشترك أن يجيب عنها جميعاً

السؤال الأول: (20 علامة)

يتكون هذا السؤال من (20) فقرة من نوع اختيار من متعدد، من أربعة بدائل، اختر رمز الإجابة الصحيحة، ثم ضع إشارة (x) في المكان المخصص على دفتر الإجابة:

1. ماذا يطلق على مجموعة الحقول التي تصف كيانا ما :

(أ) سجل (ب) خلية (ج) جدول (د) ملف

2. يطلق على تنسيق الرسالة في طبقة الشبكة عند انتقال الرسالة من المرسل إلى المستقبل:

(أ) إطار Frame (ب) بيانات Data (ج) قطعة Segment (د) حزمة Packet

3. عدد العناوين التي يدعمها بروتوكول IPv4 هو :

(أ) 2^8 (ب) 2^{16} (ج) 2^{24} (د) 2^{32}

4. ما الميزة المستخدمة لضبط البيانات المدخلة في الجداول الالكترونية (MS-Excel)؟

(أ) معيار البيانات المدخلة (ب) التحقق من الصحة (ج) مساعد الادخال (د) التنسيق الشرطي

5. أي من مواقع التواصل الاجتماعي أكثر شهرة:

(أ) Facebook (ب) Twitter (ج) Youtube (د) LinkedIn

6. نظام العنونة الفيزيائية يتم إنشاؤه من قبل:

(أ) مصمم الشبكة (ب) المبرمج (ج) المستخدم (د) المصنع

7. إذا كانت نتيجة فحص الإطار باستخدام FCS أنه غير صالح، فإن محول الشبكة يقوم بـ :

(أ) إعادة إرساله للمصدر (ب) التخلص منه (ج) متابعة الإرسال (د) تخزينه داخل الجدول

8. يقوم الموجه بتحويل الرسالة بين الشبكات وصولاً للمستقبل اعتماداً على عنوان :

(أ) IP للهدف (ب) MAC للهدف (ج) IP للمصدر (د) MAC للمصدر

9. الامتداد org. في عنوان الموقع الالكتروني يشير إلى أن نشاط هذا الموقع :

(أ) شبكة (ب) حكومي (ج) منظمة (د) تجاري

10. ما عدد العناوين في شبكة قناعها (255.255.255.0)؟

(أ) 2^8 (ب) 2^{16} (ج) 2^{24} (د) 2^{32}

11. الجهاز الي يقوم بربط مجموعة من الأجهزة في الشبكة المحلية على شكل مخطط نجمي Star :

(أ) Switch (ب) Repeater (ج) Router (د) Server

12. في برنامج Web Page Maker، لإدراج صورة معينة نستخدم قائمة:

(أ) Page (ب) File (ج) Insert (د) Help

13. ما العدد الثنائي المكافئ للعدد $16_{(36)}$ ؟

(أ) $(00110110)_2$ (ب) $(11000011)_2$ (ج) $(00001111)_2$ (د) $(11110000)_2$

14. مهنة يمكن العمل فيها من المنزل عبر مواقع التواصل الاجتماعي، وتحتاج إلى إتقان لغة أجنبية معينة أو أكثر:

(أ) تصميم الوسائط المتعددة (ب) تصميم المواقع الالكترونية

(ج) إدخال البيانات (د) الترجمة

15. نقوم بتعريف حقول الجدول وانواعها باستخدام برنامج Ms-Access من خلال شاشة :

(أ) عرض جدول (ب) إعادة التسمية (ج) عرض التصميم (د) قاعدة بيانات فارغة

16. عند إنشاء جدول وعدم تحديد مفتاح أساسي له، فإن برنامج Ms-Access يقوم بتحديد مفتاح أساسي من نوع:

(أ) نص (ب) رقم (ج) مذكرة (د) ترقيم تلقائي

17. يستخدم من أجل التمييز بين الجزء الخاص بعنوان الجهاز والجزء الخاص بعنوان الشبكة:

(أ) Subnet mask (ب) MAC Address (ج) TCP/IP (د) HTTP

18. مهنة يمكن العمل بها في العالم الافتراضي :

(أ) الطبخ (ب) الخياطة (ج) الإنتاج الحيواني (د) التسويق

19. يتم إنشاء الروابط بين الجداول في Ms-Access من خلال اختيار الأمر (علاقات) من تبويب :

(أ) الصفحة الرئيسية (ب) أدوات قواعد البيانات

(ج) إنشاء (د) بيانات خارجية

20. أي من الحقول الآتية هو الأنسب كمفتاح أساسي في جدول خاص بالمعلمين؟

(أ) اسم المعلم (ب) رقم هوية المعلم (ج) تاريخ التعيين (د) التخصص

السؤال الثاني: (15 علامة)

(4 علامات)

(أ) ما المقصود بكل من الآتية:

رسالة الخطأ (Error Alert)، السجل ، خط المشترك الرقمي (DSL)، المواقع الساكنة.

(4 علامات)

(ب) حدد العناصر الرئيسية التي تتكون منها شبكة الانترنت.

(4 علامات)

(ج) عدد أربعة من ميزات مواقع التواصل الاجتماعي؟

(3 علامات)

(د) أذكر ثلاث مهمات يمكن تنفيذها باستخدام الجداول الالكترونية.

السؤال الثالث: (10 علامات)

(4 علامات)

(أ) أذكر الأسس التي تحقق جودة قاعدة البيانات.

(4 علامات)

(ب) قارن بين MAC Address و IP address من حيث :

نظام العنونة، عدد الخانات الثنائية.

(علامتان)

(ج) لماذا يُفضل اختيار تشفير (WPA2) عند ضبط إعدادات الموجة؟

السؤال الرابع: (15 علامة)

(4 علامات)

(أ) أرسم بنية الرسالة في طبقة ربط البيانات.

(ب) لديك الجدول الإلكتروني الآتي، يوضح كشف بعدد المراجعين للعيادات الخارجية لمستشفى المقاصد، تأمله جيداً، ثم أجب عن

(6 علامات)

الأسئلة التي تليه:

E	D	C	B	A	
عدد المراجعين الشهري	باطني	عظام	عيون	الشهر/ العيادات	1
	250	120	80	أيلول	2
	130	110	90	تشرين أول	3
	152	180	70	تشرين ثانٍ	4
	أكبر عدد مراجعين في جميع العيادات				5

(1) أكتب المعادلة اللازمة لإيجاد عدد المراجعين في شهر أيلول.

(2) أكتب المعادلة اللازمة لإيجاد أكبر عدد مراجعين في جميع العيادات.

(3) ما عدد الأعمدة وعدد الصفوف التي استخدمت للبيانات أعلاه؟

(3 علامات)

(ج) وضح خطوات إنشاء العلاقات بين جدولين باستخدام برنامج قواعد البيانات (Ms-Access)؟

(علامتان)

(د) أذكر ثلاث طرق لتصميم المواقع الإلكترونية؟

تابع أسئلة مبحث: تكنولوجيا المعلومات الفرع: جميع الفروع عدا العلمي والصناعي الدورة: الإستكمالية لعام 2019/ الإنجاز

القسم الثاني: يتكون هذا القسم من سؤالين، وعلى المشترك أن يجيب عن أحدهما فقط.

السؤال الخامس: (10 علامات)

(أ) تمثل الجداول أدناه بعضاً من قاعدة بيانات لشركة (القدس) الهندسية، بالاعتماد عليها أجب عن الأسئلة التي تليها: (5 علامات)

القسم		المشروع				الزبون			الموظف		
رقم	اسم القسم	تكلفة	اسم المشروع	رقم الزبون	كود الموظف	العنوان	اسم الزبون	رقم الزبون	رقم الموظف	اسم الموظف	كود الموظف
1	التريم	1000	صيانة منزل	100	A123	القدس	ليلى محمد	100	1	أحمد خليل	A123
2	الأبنية	1500	حديقة السلام	200	B678	الخليل	سعاد حسن	200	1	محمد علي	A456
3	الإنشاءات	1700	مكتبة البلدية	300	B678	غزة	عيسى ماهر	300	3	حسين محمود	B678
4	المشتريات	900	مواد بناء	500	C234	نابلس	يوسف العلي	400	4	مي سليم	B901

(1) أذكر الحقول التي تصلح أن تكون مفتاحاً أساسياً في كل من جدول الموظف وجدول الزبون؟

(2) ما نوع البيانات لحقل تكلفة المشروع في جدول المشروع، وحقل العنوان في جدول الزبون؟

(3) ما نوع العلاقة بين جدول القسم وجدول الموظف؟

(ب) لديك الشكل أدناه تأمله جيداً ثم أجب عما يلي:

(3 علامات)

Broadcast SSID:	<input checked="" type="radio"/> Enable	<input type="radio"/> Disable
SSID:	Palestine	
Encryption	WPA2	
Authentication Type:	Personal (Pre-Shared Key)	
Pre-Shared Key:	Mohe@2019	

(1) ما اسم شبكة الانترنت؟

(2) ما نوع التشفير؟

(3) ما كلمة المرور للشبكة؟

(ج) من خلال دراستك برنامج Web Page Maker، ما وظيفة الأداة Navigation Bar، الأداة Text. (علامتان)

السؤال السادس: (10 علامات)

(أ) أجب عن الأسئلة الآتية:

1. كيف يمكن معالجة درجة العلاقة (متعدد إلى متعدد) في قواعد البيانات؟

2. ما وظيفة البروتوكول PPP وأذكر مهمة واحدة من مهامه؟

(ب) لديك الجدول الإلكتروني الآتي، يوضح حركة المبيعات، تأمله جيداً، ثم أجب عن الأسئلة التي تليه:

(4 علامات)

	E	D	C	B	A	
1	مجموع المبيعات	هاتف نقال	كاميرا	حاسوب	السنة/ الصنف	
2		70	70	30	2015	
3		81	80	20	2016	
4		90	80	100	2018	
5						المعدل السنوي للمبيعات

(1) أكتب المعادلة اللازمة لإيجاد مجموع المبيعات في كل سنة.

(2) أكتب المعادلة اللازمة لإيجاد المعدل السنوي للمبيعات.

(ج) علل ما يلي:

1. يمتاز موقع YouTube بحقوق نشر دقيقة.

2. استخدام المعيد (Wireless Repeater) بين الشبكات.

انتهت الأسئلة

مدة الامتحان : ساعتان
اليوم والتاريخ: ٧ / ١٣ / ٢٠١٩
مجموع العلامات (١٠٠) علامة



دولة فلسطين
وزارة التربية والتعليم
الإدارة العامة للقياس والتقويم والامتحانات
الفرع: الأدبي والشرعي
المبحث: التاريخ
الدورة: الإستكمالية

ملاحظة : عدد أسئلة الورقة (سنة) أسئلة، أجب عن (خمسة) منها فقط

القسم الأول: يتكون هذا القسم من أربعة أسئلة، وعلى المشترك أن يجيب عنها جميعاً

السؤال الأول: (٣٠ علامة)

يتكون هذا السؤال من (٢٠) فقرة من نوع اختيار من متعدد، من أربعة بدائل، اختر رمز الإجابة الصحيحة، ثم ضع إشارة (x) في المكان المخصص في دفتر الإجابة:

١. أين وجدت مدونات القوانين التي تهدف الى التخفيف من ويلات الحروب في العصور الوسطى؟

(أ) اليونان (ب) الهند (ج) الصين (د) الدولة الاسلامية

٢. ما اسم القائد المسلم الذي تحول البربر خلال فترة ولايته إلى الإسلام؟

(أ) عقبة بن نافع (ب) موسى بن نصير (ج) طارق بن زياد (د) المثنى بن حارثة

٣. أي من الآتية تندرج تحت الآثار السلبية للحراك العربي في المجال الاجتماعي؟

(أ) ظهور تنظيمات إسلامية مسلحة (ب) ازدياد البطالة والفقر والمجاعة

(ج) تدمير المباني والمصانع والبنية التحتية (د) ارتفاع أعداد القتلى والمصابين

٤. ما الأسس التي أعتمد عليها في تصنيف الثورات إلى ثورات حمراء وبيضاء؟

(أ) عدد الضحايا (ب) المدة الزمنية (ج) الأساليب المتبعة (د) القائمين عليها

٥. ما الدول التي قدمت الدعم العسكري للثورة الجزائرية؟

(أ) مصر والولايات المتحدة (ب) مصر والإتحاد السوفيتي

(ج) المغرب والإتحاد السوفيتي (د) المغرب والولايات المتحدة

٦. أي الإذاعات الآتية كانت فاعلة في تصعيد الإنتفاضة الفلسطينية وتنطق باسم الجبهة الشعبية (القيادة العامة)؟

(أ) صوت القدس (ب) صوت فلسطين (ج) صوت الإنتفاضة (د) صوت الثورة

٧. ما الحملة الفرنجية التي وقعت على إثرها إتفاقية يافا عام ١٢٢٩م؟

(أ) الثالثة (ب) الرابعة (ج) الخامسة (د) السادسة

٨. بيد من تركزت السلطة المدنية في الإمبراطورية البيزنطية؟

(أ) الإمبراطور البيزنطي (ب) القائد العسكري (ج) حاكم الولاية (د) الإبن الأكبر للإمبراطور

٩. أين تركزت جهود العثمانيين في فتوحاتهم خلال القرنين الرابع والخامس عشر الميلاديين؟

(أ) شمال إفريقيا ومصر (ب) بلاد الشام ومصر (ج) شمال إفريقيا والبلقان (د) الأناضول والبلقان

١٠. ماذا يُطلق على الدولة القوية التي تتحكم في الدول الأخرى كافة؟

(أ) الدولة المهيمنة (ب) الدولة الأوتوقراطية (ج) الدولة المتبوعة (د) الدولة البيروقراطية

١١. ما المقصود بالبلاشفة؟

(أ) الأقلية (ب) الإجماع (ج) الأغلبية (د) الشيوعية

١٢. أي من الدول الآتية شكلت دول الحلفاء في الحرب العالمية الأولى؟

(أ) فرنسا، روسيا، النمسا (ب) ألمانيا، النمسا، بلغاريا

(ج) فرنسا، النمسا، بريطانيا (د) فرنسا، بريطانيا، روسيا

١٣. لماذا تُعد الدويلات الألمانية قبل الوحدة من أكثر المناطق تحمساً للفكرة القومية؟

(أ) بسبب النظرية النازية الآرية (ب) بسبب هزيمة ألمانيا في معركة سادوا

(ج) بسبب هزيمة ألمانيا في معركة سيدان (د) بسبب شعورهم بالضعف جراء الانقسام والتجزئة

١٤. ما النتائج التي ترتبت على معركة سادوا عام ١٨٦٦م؟

(أ) هزيمة بروسيا (ب) انتصار فرنسا (ج) انتصار بروسيا (د) انتصار النمسا

١٥. ما الأسلوب الذي استخدمته إيرلندا في مقاومة الاستعمار البريطاني؟

(أ) الضغط الاقتصادي (ب) التفجيرات والاعتقالات (ج) حرب العصابات (د) المقاومة السلمية

١٦. ما أسباب فشل ألمانيا في إجبار بريطانيا على الاستسلام خلال المرحلة الأولى من الحرب العالمية الثانية؟

(أ) موت عدد كبير من أفراد الجيش الألماني بسبب البرد الشديد

(ب) بسالة الطيارين البريطانيين في الدفاع عن بلادهم

(ج) خيانة الجيش الألماني

(د) تدمير بريطانيا للغواصات الألمانية

١٧. أي من الآتية تعد من الأجهزة الرئيسية لمجلس التعاون الخليجي؟

(أ) الجمعية العامة (ب) مجلس التعاون الاجتماعي (ج) مجلس التعاون الاقتصادي (د) المجلس الأعلى

١٨. أين وقعت معركة بواتيه (بلاط الشهداء) عام ١١٤ هـ؟

(أ) عند الحدود الفرنسية الإسبانية (ب) عند الحدود الفرنسية الألمانية

(ج) عند الحدود الفرنسية النمساوية (د) عند الحدود الفرنسية الإيطالية

١٩. ما شعار الإتحاد الأوروبي؟

(أ) دائرة زرقاء فيها ٢٨ نجمة (ب) دائرة زرقاء فيها ٢٠ نجمة

(ج) دائرة زرقاء فيها ١٢ نجمة (د) دائرة زرقاء فيها ١٤ نجمة

٢٠. ما المبرر الذي اعتمده الإمبراطوريات لتخليص البشر من الشرور؟

(أ) الديني (ب) الحضاري (ج) السياسي (د) الاقتصادي

السؤال الثاني: (٢٠ علامة)

١. عدد (دون شرح) مبادئ القانون الإنساني الدولي. (٤ علامات)
٢. بين العوامل التي ساعدت على نجاح الثورة الجزائرية. (٧ علامات)
٣. وضح السياسة التي اتبعتها بسمارك لتحقيق الوحدة الألمانية. (٥ علامات)
٤. أذكر المقومات التكنولوجية التي مكنت الولايات المتحدة الأمريكية من فرض هيمنتها على العالم. (٤ علامات)

السؤال الثالث: (٢٠ علامة)

١. فسر ما يأتي : (٣ علامات)
- أ) شجعت أوضاع الدول الكبرى المسلمين على القيام بالفتوحات الإسلامية. (٣ علامات)
- ب) فشل حملة بطرس الناسك على الشرق. (٤ علامات)
٢. ما الأسس التي اعتمدت في تصنيف الثورات إلى أنواع عدة؟ (٦ علامات)
٣. تتبع مرحلة التوسع الاستعماري البريطاني في قارة إفريقيا. (٤ علامات)
٤. أذكر العوامل التي ساعدت على فشل مشروع الجمهورية العربية المتحدة. (٤ علامات)

السؤال الرابع: (٢٠ علامة)

١. وضح أبرز أحداث المرحلة الثانية للحرب العالمية الثانية (١٩٤٥-١٩٤٢م). (٦ علامات)
٢. ناقش النتائج الاقتصادية التي ترتبت على الانتفاضة الفلسطينية عام ١٩٨٧م. (٤ علامات)
٣. اذكر (دون شرح) أركان نظام الحكم والإدارة في الإمبراطورية العثمانية. (٥ علامات)
٤. كيف أسهم العامل الاقتصادي في تشكيل الإتحاد الأوروبي؟ (٥ علامات)

القسم الثاني: يتكون هذا القسم من سؤالين، وعلى المشترك أن يجيب عن واحد منهما فقط.

السؤال الخامس: (١٠ علامات)

١. أذكر بنود معاهدة فرساي عام ١٩١٩م. (٧ علامات)
٢. اذكر (دون شرح) دوافع توسع الإمبراطورية البيزنطية وامتدادها. (٣ علامات)

السؤال السادس: (١٠ علامات)

١. بين الظروف الداخلية التي أدت إلى اندلاع الحراك العربي. (٥ علامات)
٢. اقرأ النص الآتي ثم أجب: (٥ علامات)

"تبني الإتحاد السوفييتي نظام الحزب الواحد في الحكم والمركزية في اتخاذ القرارات وهو أعلى سلطة حاكمة في الدولة وعلى رأس هذا الحزب يأتي الأمين العام الذي يُنتخب من المكتب السياسي ويُنتخب من اللجنة المركزية للحزب الشيوعي أما الجانب التشريعي فتمثل بمجلس السوفييت الأعلى وتمثلت السلطة التنفيذية في مجلس الوزراء"

١. استنتج آلية الحكم في الإتحاد السوفييتي.
٢. فرق بين نظام الحزب الواحد وتعدد الأحزاب.

انتهت الأسئلة

مدة الامتحان : ساعتان
اليوم والتاريخ : ٧ / ١٣ / ٢٠١٩
مجموع العلامات (١٠٠) علامة



ملاحظة : عدد أسئلة الورقة (أربعة) أسئلة، أجب عن (ثلاثة) منها فقط

القسم الأول: يتكون هذا القسم من سؤال موضوعي واحد، وعلى المشترك أن يجيب عنه كاملاً

السؤال الأول: (٦٠ علامة)

يتكون هذا السؤال من (٤٠) فقرة من نوع اختيار من متعدد، من أربعة بدائل، اختر رمز الإجابة الصحيحة، ثم ضع إشارة (x) في المكان المخصص على دفتر الإجابة:

- ١) لماذا تمتاز المناطق الداخلية من قارتي آسيا وإفريقيا بارتفاع درجات الحرارة نهاراً وصيفاً وانخفاضها ليلاً وشتاءً؟
(أ) بعدها عن تأثير الرياح الرطبة القادمة من البحر.
(ب) قربها من خط الإستواء.
(ج) تأثرها بالمرتفع الأزوري.
(د) تأثرها بالتيارات الصاعدة.
- ٢) كيف تؤثر السحب في المناخ؟
(أ) مصدر مباشر للتساقط.
(ب) تزيد من نفاذ الإشعاع الحراري من الأرض.
(ج) مصدر مباشر للرياح.
(د) تزيد من نفاذ الإشعاع الشمسي إلى الأرض.
- ٣) (الإم) يرجع ارتفاع الرطوبة النسبية والتي لا تقل عن ٨٠٪ في الإقليم الإستوائي؟
(أ) نشاط حركة الرياح التضاريسية.
(ب) غزارة الأمطار.
(ج) وجود التيارات الهوائية الهابطة.
(د) بعدها عن تأثير المسطحات المائية.
- ٤) أين يتمثل الإقليم المناخي المداري لقارة إفريقيا؟
(أ) هضاب الشطوط.
(ب) دولة جنوب إفريقيا.
(ج) جزيرة مدغشقر.
(د) شمال السودان.
- ٥) بماذا تتميز حشائش السافانا؟
(أ) طويلة وخشنة.
(ب) طويلة وناعمة.
(ج) قصيرة وناعمة.
(د) قصيرة وخشنة.
- ٦) كم يبلغ الزمن الدوري لبؤرة زلزال البحر الميت؟
(أ) من ٤٠-٦٠ عام.
(ب) من ٨٠-١٠٠ عام.
(ج) ١٢٠-١٣٠ عام.
(د) من ١٤٠-١٦٠ عام.
- ٧) إلى أي أثر من آثار التصحر يتبع النزاع في إقليم دارفور؟
(أ) إجتماعية.
(ب) بيئية.
(ج) سياسية.
(د) إقتصادية.
- ٨) ما اسم المنطقة العربية التي يقصدها السياح من منطقة الخليج العربي صيفاً بسبب اعتدال مناخ سواحلها؟
(أ) المغرب العربي.
(ب) القرن الإفريقي.
(ج) وادي النيل.
(د) العراق.
- ٩) أي من الآتية يعتبر من إيجابيات الدول ذات الشكل المندمج؟
(أ) يزيد من فروقات الزمن.
(ب) التنوع المناخي.
(ج) إستغلال مواردها.
(د) أراضيها تشتمل على اليابس والماء.
- ١٠) لماذا تعتبر سواحل الريفيرا الفرنسية مناطق جذب سياحي؟
(أ) توفر أماكن للتزلج على الجليد.
(ب) إستبدال مناخها.
(ج) مناخها البارد.
(د) التنوع الجيومورفولوجي.
- ١١) ماذا تقدم الجغرافيا السياحية لعلم الطب؟
(أ) أعداد السياح القادمين والمغادرين.
(ب) التوزيع الجغرافي للأماكن الأثرية.
(ج) حجم الإستثمار السياحي.
(د) التوزيع الجغرافي للأمراض.

- ١٢) أي من الآتية تعد من العوامل الطبيعية المؤدية إلى ظاهرة التصحر؟
 (أ) إزالة الغابات.
 (ب) تناقص كمية الأمطار.
 (ج) التوسع العمراني.
 (د) الحروب والصراعات.
- ١٣) أين توجد حلقة النار؟
 (أ) سواحل المحيط الهادي.
 (ب) سواحل المحيط الأطلسي.
 (ج) سواحل المحيط الهندي.
 (د) سواحل البحر المتوسط.
- ١٤) بماذا تصنف كارثة مفاعل تشيرنوبيل في أوكرانيا عام ١٩٨٦؟
 (أ) كوارث متعمدة.
 (ب) كوارث كونية.
 (ج) كوارث جيولوجية.
 (د) كوارث غير متعمدة.
- ١٥) أي من الأشجار الآتية يعد من أشجار الغابات الإستوائية؟
 (أ) نخيل الزيت والخيزران.
 (ب) الصنوبر والأرز.
 (ج) الزان والفلين.
 (د) الأبانوس والمطاط.
- ١٦) ما المجال الذي يعتمد على مبدأ تحويل الإشعاع الشمسي مباشرة إلى تيار كهربائي؟
 (أ) التحويل الحراري.
 (ب) الطاقة الكهرومائية.
 (ج) التحويل الكهروضوئي.
 (د) الأفران الشمسية.
- ١٧) ما أشهر الدول التي يستغل الفحم الحجري فيها ويسهم بنسبة ٣٩٪ من إنتاج الطاقة فيها؟
 (أ) الهند.
 (ب) الصين.
 (ج) الولايات المتحدة الأمريكية.
 (د) إيران.
- ١٨) في أي منطقة يوجد معدن الطاقة (اليورانيوم) في فلسطين؟
 (أ) النقب.
 (ب) جبال الخليل.
 (ج) جبال نابلس.
 (د) السهل الساحلي.
- ١٩) ما الأثر الناجم عن سوء إستغلال الموارد الطبيعية غير المتجددة؟
 (أ) عدم استنزاف الموارد.
 (ب) خلل في التوازن البيئي.
 (ج) التقليل من التلوث البيئي.
 (د) إحداث نظام بيئي متوازن.
- ٢٠) كيف تفسر جفاف الصيف في إقليم مناخ البحر المتوسط؟
 (أ) تأثير الضغط المرتفع شبه المداري.
 (ب) تأثير الضغط المنخفض الإستوائي.
 (ج) تأثير التيارات الهوائية الصاعدة.
 (د) تأثير الرياح التجارية.
- ٢١) ما السبب في نشأة الصحاري الحارة في نطاقات الضغط الجوي المرتفع وراء المداري؟
 (أ) التيارات الهوائية الصاعدة.
 (ب) الرياح الغربية الماطرة.
 (ج) التيارات الهوائية الهابطة.
 (د) قربها من الأقاليم الباردة.
- ٢٢) ما دلالة الحرف (L) على خرائط الطقس؟
 (أ) ضغط جوي مرتفع.
 (ب) ضغط جوي منخفض.
 (ج) جبهة باردة.
 (د) جبهة حارة.
- ٢٣) ماذا يطلق على عملية تحويل بخار الماء إلى حالة صلبة دون المرور في حالة السيولة؟
 (أ) التسامي.
 (ب) الندى.
 (ج) الترسيب.
 (د) السحب.
- ٢٤) ما المفهوم الذي يطلق على مقدار وزن بخار الماء في حجم معين من الهواء؟
 (أ) الرطوبة النسبية.
 (ب) الرطوبة المطلقة.
 (ج) الندى.
 (د) الضباب.
- ٢٥) بماذا نسمى المنطقة الحرارية الممتدة بين درجي عرض (٥٦.٥° - ٩٠°) شمال خط الإستواء وجنوبه؟
 (أ) الإستوائية.
 (ب) المدارية.
 (ج) المعتدلة.
 (د) القطبية.

- ٢٦) ما سبب ضعف تأثير الإشعاع الشمسي بالإتجاه إلى الشمال والجنوب من خط الإستواء؟
 (أ) كثافة الغطاء النباتي.
 (ب) زيادة ميلان الأشعة الشمسية.
 (ج) الرياح التجارية.
 (د) حركة الصفائح التكتونية.
- ٢٧) ما المفهوم الذي يطلق على الأشعة التي تستجيب لها العين البشرية وتعرف بألوان الطيف الشمسي؟
 (أ) الأشعة المرئية.
 (ب) الأشعة غير المرئية.
 (ج) الأشعة السينية.
 (د) الأشعة تحت الحمراء.
- ٢٨) ما اسم الجسم الموجود على سطح الأرض والذي تتراوح نسبة الألييدو الخاص به ما بين ٦٠-٩٠٪؟
 (أ) شاطئ رملي.
 (ب) الغطاء النباتي.
 (ج) الثلج.
 (د) التربة.
- ٢٩) أين يتمثل الإقليم الإستوائي في قارة إفريقيا؟
 (أ) جنوب الصومال.
 (ب) دولة جنوب إفريقيا.
 (ج) غرب موريتانيا.
 (د) جيبوتي.
- ٣٠) ما اسم المنطقة الجغرافية التي تتأثر بتيار الخليج الدافئ في قارة أمريكا الشمالية؟
 (أ) جبال الروكي.
 (ب) السهول الوسطى.
 (ج) الساحل الغربي.
 (د) الساحل الشمالي.
- ٣١) ما المورد الطبيعي المستغل في البرازيل ويسهم في توفير فرص العمل ورفع مستوى الدخل؟
 (أ) الغاز.
 (ب) النفط.
 (ج) الصخور.
 (د) الأخشاب.
- ٣٢) كيف تم تسهيل تجارة نقل السلع التي تتعرض للتلف مثل اللحوم والأسماك لمسافات بعيدة؟
 (أ) خفض رأس المال المتاح.
 (ب) إختراع وسائل التكييف والتبريد.
 (ج) إتباع سياسة تعزيز الأسعار.
 (د) توفير اليد العاملة بكثرة.
- ٣٣) ما اسم الظاهرة المناخية الطبيعية التي تحدث كل ثلاث سنوات وتشهدها مياه المحيط الهادئ حيث ترتفع درجة حرارة مياه المحيط بحوالي نصف درجة مئوية.
 (أ) التورنادو.
 (ب) النينو.
 (ج) التيفون.
 (د) الهيريكين.
- ٣٤) أي من الآتية تعد من العوامل الطبيعية المؤدية لظاهرة الإحتباس الحراري؟
 (أ) الغازات الناتجة عن المصانع.
 (ب) الحرائق.
 (ج) قطع الأشجار.
 (د) الغبار البركاني.
- ٣٥) أي من الآتية يعد من الآثار السلبية للسياحة على الخدمات؟
 (أ) الأزمات المرورية.
 (ب) تغيرات في القيم والسلوك.
 (ج) إشعال الحرائق في المحميات.
 (د) التعرض للحيوانات البرية بصيدها.
- ٣٦) ما طبيعة المشكلة المائية في حوض نهر النيل؟
 (أ) قيام دول المنبع بتلويث مياه النهر.
 (ب) إقامة السدود المائية في دول المنبع.
 (ج) زيادة نصيب دول المصب.
 (د) قيام دول المصب بإقامة السدود.
- ٣٧) ما اسم الجبال التي تشكل حداً طبيعياً بين الأرجنتين وتشيلي؟
 (أ) الأبلاش.
 (ب) الألب.
 (ج) الروكي.
 (د) الأنديز.
- ٣٨) ما الأثر الإيجابي لإتساع مساحة الدولة؟
 (أ) سهولة إدارتها.
 (ب) العمق الإستراتيجي.
 (ج) تنمية جميع مناطقها.
 (د) سهولة إحتلالها.
- ٣٩) ما الدولة العربية التي إتجهت نحو الإستثمار في السياحة العلاجية؟
 (أ) فلسطين.
 (ب) ليبيا.
 (ج) العراق.
 (د) الأردن.
- ٤٠) ما اسم الكهف الكارستي والذي تشكلت فيه أعمدة من الصواعد والنوازل الكلسية ويوجد في لبنان.
 (أ) سوريك.
 (ب) وادي الصرار.
 (ج) جعيتا.
 (د) شقبا.

القسم الثاني: يتكون هذا القسم من ثلاثة أسئلة، وعلى المشترك أن يجيب عن اثنين منها فقط.

السؤال الثاني: (٢٠ علامة)

- أ) من خلال دراستك لتصنيف الدول حسب تركيبها السياسي، أكتب عن نظام الدُول الكنفدرالية مدعماً إجابتك بالأمثلة؟ (٦ علامات)
- ب) بين الخصائص المناخية للإقليم المعتدل الدافئ؟ (٤ علامات)
- ج) انظر الخريطة المرفقة، ثم انقل الى دفتر إجابتك ما تشير إليه الأرقام الآتية: (١٠ علامات)
- تيار مائي (١) - نهر (٢) - دول متعددة الجوار (٣)
- مسطحات مائية (٥، ٤) - جزر (٦) - وحدات سياسية (٧، ٨، ٩)
- جبال (١٠)

السؤال الثالث: (٢٠ علامة)

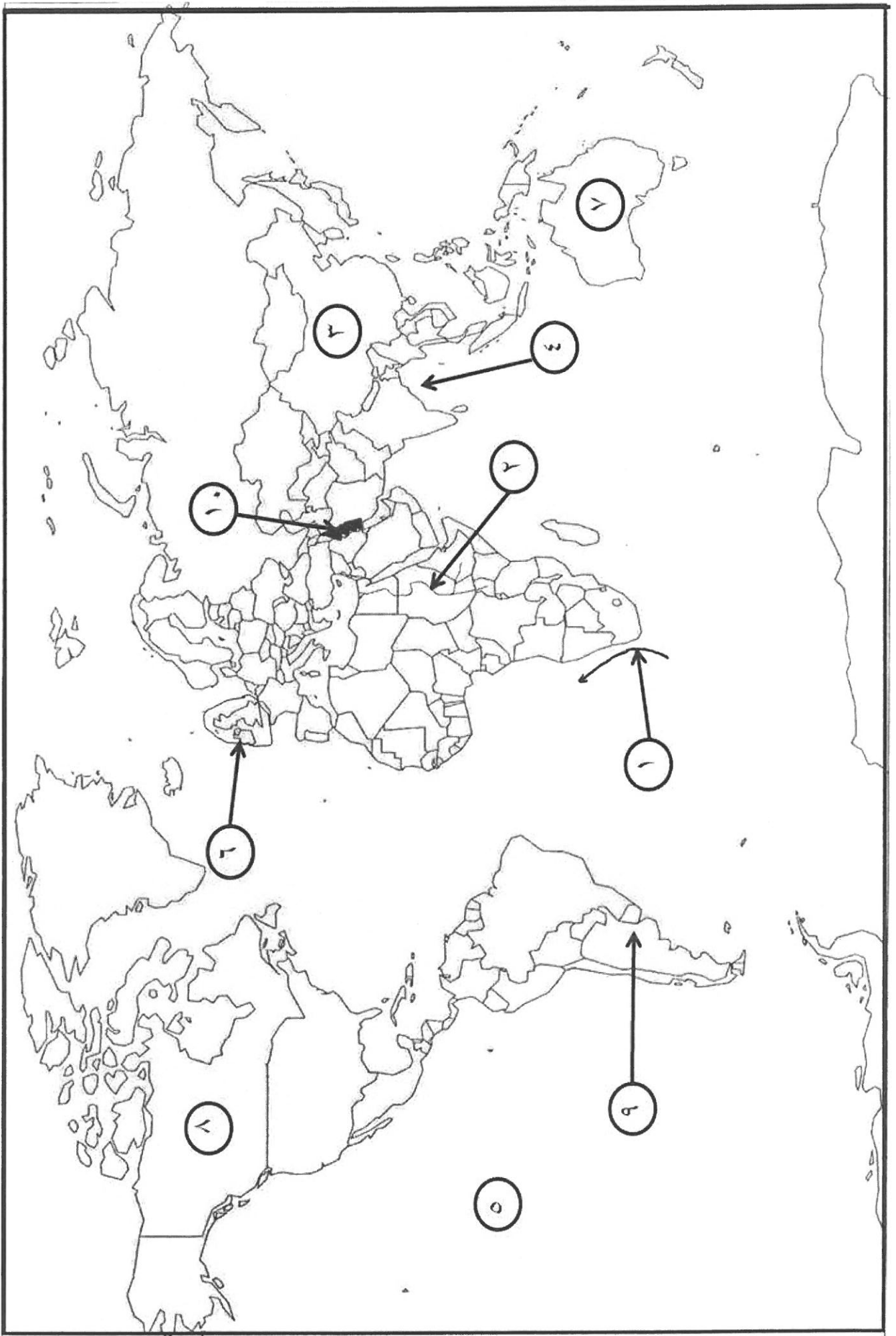
- أ) اكتب عن مستعمرة جبل طارق كمشكلة حدودية؟ (٤ علامات)
- ب) تعتبر الصخور النارية من العوامل المؤثرة في توزيع الموارد المعدنية وضح ذلك؟ (٦ علامات)
- ج) انظر الخريطة المرفقة، ثم انقل الى دفتر إجابتك ما تشير إليه الأرقام الآتية: (١٠ علامات)
- تيار مائي (١) - نهر (٢) - جبال (٣)
- دول قليلة الجوار (٤) - وحدات سياسية (٥، ٦) - مسطحات مائية (٧، ٨)
- دول حبيسة (٩) - جزر (١٠)

السؤال الرابع: (٢٠ علامة)

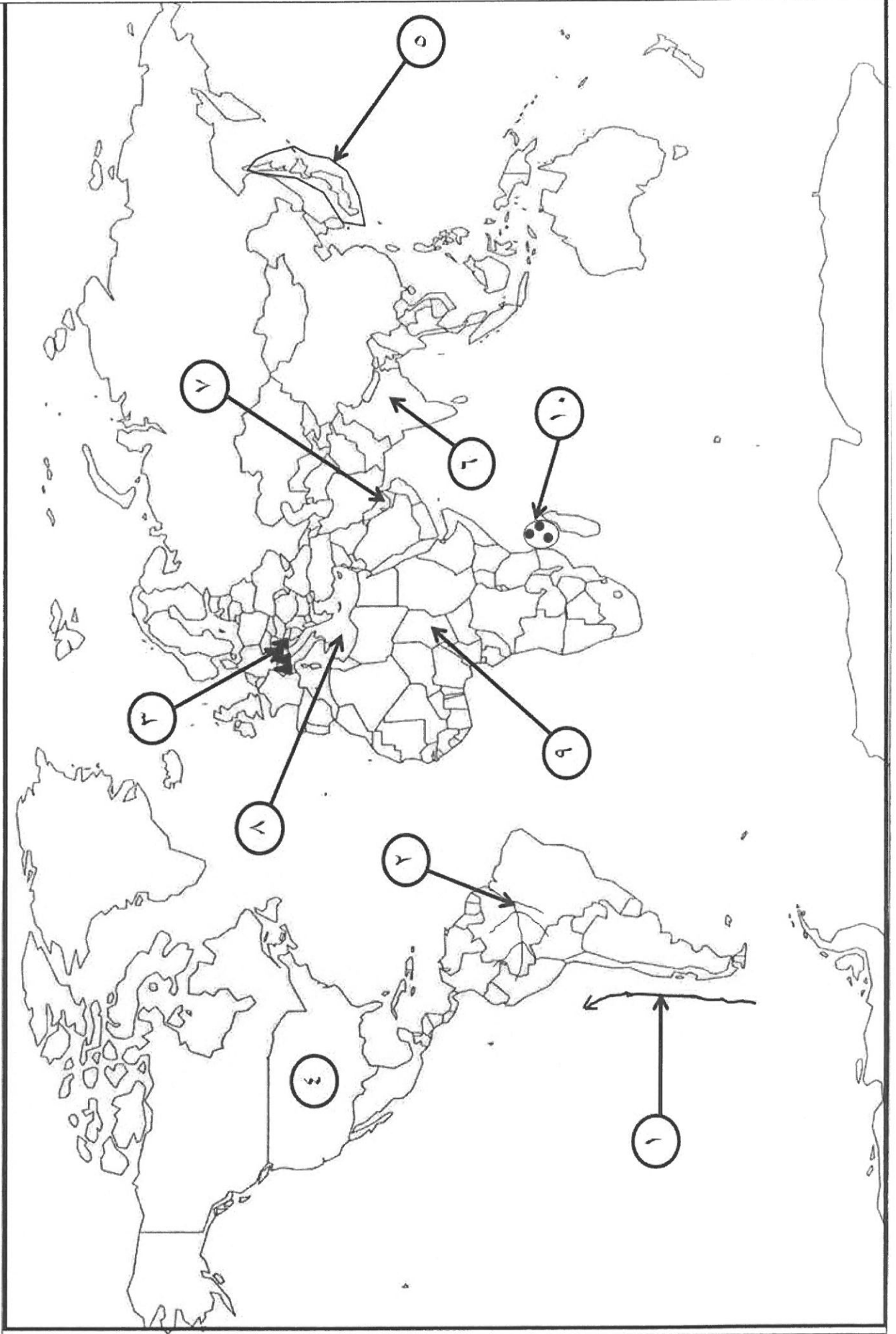
- أ) اذكر أهم الإجراءات التي تؤدي الى الحد من ظاهرة الإحتباس الحراري؟ (٤ علامات)
- ب) بين أثر السياحة على الجوانب الاقتصادية مع الأمثلة؟ (٦ علامات)
- ج) ما النتائج المترتبة على تكون الجبهة الهوائية الباردة؟ (٤ علامات)
- د) ما المخاطر المترتبة والناجمة عن حدوث العواصف الرعدية؟ (٣ علامات)
- هـ) عرف المفاهيم والمصطلحات الآتية: الصقيع، فوهة البركان، السياحة؟ (٣ علامات)

انتهت الأسئلة

السؤال الثاني: فرع (ج)



السؤال الثالث: فرع (ج)



مدة الامتحان : ساعتان
اليوم والتاريخ : ٢٠١٩/١٢/٧
مجموع العلامات (100) علامة



شهادة الدراسة الثانوية العامة "الرياضية"
لعام 2019

دولة فلسطين
وزارة التربية والتعليم
الإدارة العامة للقياس والتقويم والامتحانات
الفرع: الأدبي والتكنولوجي
المبحث: الثقافة العلمية
الدورة الاستكمالية

ملاحظة : عدد أسئلة الورقة (ستة) أسئلة، أجب عن (خمسة) منها فقط.

القسم الأول : يتكون هذا القسم من أربعة أسئلة، وعلى المشترك أن يجيب عنها جميعاً.

السؤال الأول: (30 علامة)

يتكون هذا السؤال من (20) فقرة من نوع اختيار من متعدد، من أربعة بدائل، اختر رمز الإجابة الصحيحة، ثم ضع إشارة (x) في المكان المخصص على دفتر الإجابة:

1. أي من الآتية يعد من أسباب استخدام البوليمرات؟

- (أ) سهولة تحللها في البيئة
(ب) مقاومتها للتآكل
(ج) كثافتها العالية
(د) صعوبة تشكيلها

2. أي البوليمرات الآتية تعد من البوليمرات المتصلبة بالحرارة؟

- (أ) الميلايم
(ب) البولي اثيلين منخفض الكثافة
(ج) المطاط الطبيعي (لاستكس)
(د) البولي اثيلين عالي الكثافة

3. أي من الآتية تستخدم كمادة رابطة في الدهانات؟

- (أ) زيت السمك
(ب) سليكات الألمنيوم
(ج) زيت الخروع
(د) كبريتات الباريوم

4. لماذا تُضاف مادة الجلاتين إلى بعض الدهانات المائية؟

- (أ) لإعطاء الدهان اللون المطلوب
(ب) لزيادة قوة تماسك الدهان
(ج) لإكساب الدهان المرونة الكافية
(د) لمنع تكتل دقائق الدهان

5. أي من الآتية تتفق مع آلية عمل الصابون؟

- (أ) يجذب الذيل اللاقطبي للماء
(ب) ينحل الرأس القطبي في الماء
(ج) يجذب الرأس القطبي إلى بقعة الزيت
(د) تذوب بقعة الزيت في الماء

6. أي من المواد الآتية تُعد مثلاً على المواد المُزلقة المستخدمة في صناعة معجون الأسنان؟

- (أ) النشا
(ب) الجلسرين
(ج) زيت البرافين
(د) السكرين

7. كيف يتم تكوين صورة للعظام بواسطة الأشعة السينية؟

- (أ) تمتص العظام نسبة كبيرة من الأشعة السينية، وتظهر باللون الأسود
(ب) تمتص العظام نسبة قليلة من الأشعة السينية، وتظهر باللون الأبيض
(ج) لا تمرر العظام الأشعة السينية، وتبدو باللون الرمادي
(د) تمتص العظام الأشعة السينية بنسبة كبيرة، وتبدو باللون الأبيض

8. ما التقنية التي تعتمد على أمواج الراديو في عملها؟

- (أ) التصوير الفلوروسكوبي
(ب) التصوير الطبقي
(ج) الرنين المغناطيسي
(د) التشخيص بالأمواج فوق صوتية

9. ما الحالة المرضية التي تُعالج بالأشعة فوق البنفسجية؟

- (أ) اليرقان
(ب) نزيف الشبكية
(ج) تضخم الغدة الدرقية
(د) الإعاقات السطحية للقرنية

10. ما اسم الجهاز المستخدم في تضخيم أمواج الضوء المرئي؟
 (أ) الرادار (ب) الليزر (ج) الليزر (د) الميزر
11. ما عدد الروابط الهيدروجينية التي تربط السائتوسين (C) بالجوانين (G) في جزيء DNA؟
 (أ) رابطة (ب) رابطتان (ج) ثلاثة روابط (د) أربعة روابط
12. ما عدد البويضات المُخصبة الذي يضمن أعلى نسبة للنجاح في الإخصاب الصناعي؟
 (أ) أربع بويضات (ب) ثلاث بويضات (ج) بويضتان (د) بويضة واحدة
13. ما العضو الذي يُنتج الأنسولين في جسم الإنسان؟
 (أ) الغدة الدرقية (ب) الكبد (ج) البنكرياس (د) الحويصلة الصفراء
14. أي أنواع الخضروات تُضاف إليها الجينات المسؤولة عن تأخر تليين الفاكهة بعد القطف؟
 (أ) البطاطا (ب) الأرز الذهبي (ج) فول الصويا (د) البندورة
15. ما السكر الثنائي الناتج عن اتحاد الغلوكوز والغلكتوز؟
 (أ) السكروز (ب) المالتوز (ج) اللاكتوز (د) الفركتوز
16. ما الذرات التي تتكون منها الكربوهيدرات؟
 (أ) هيدروجين وأكسجين وكربون (ب) هيدروجين ونيتروجين وكربون
 (ج) هيدروجين وأكسجين وكلور (د) هيدروجين ونيتروجين وكلور
17. ما الفيتامين الذي يساعد على بناء خلايا الدم الحمراء؟
 (أ) A (ب) B₁₂ (ج) B₉ (د) K
18. مم تتكون الدهون؟
 (أ) حموض أمينية (ب) حموض دهنية (ج) حموض نووية (د) حموض قوية
19. أي السكريات الآتية يستطيع الجسم امتصاصها دون هضم؟
 (أ) المالتوز (ب) اللاكتوز (ج) السكروز (د) الجلوكوز
20. أي المُنبهات الآتية تُضاف إلى المشروبات الغازية؟
 (أ) الببسين (ب) الكافيين (ج) النيكوتين (د) الاسكوريين

<p>(10 علامات)</p> <p>(10 علامات)</p>	<p>السؤال الثاني: (20 علامة)</p> <p>أ. 1- وضح المقصود بكلٍ من: البوليمرات، ظاهرة التلبد</p> <p>2- قارن بين المطاط الطبيعي والصناعي من حيث:</p> <p>- طريقة التحضير - المتانة - المرونة</p> <p>ب. 1- عدد ثلاثة من أنواع الإضافات الغذائية واذكر وظيفة كل منها.</p> <p>2- اذكر أربعة من أضرار قلة شرب الماء.</p>
<p>(6 علامات)</p> <p>(8 علامات)</p> <p>(6 علامات)</p>	<p>السؤال الثالث: (20 علامة)</p> <p>أ. قارن بين الأملشن والسوبركريل من حيث:</p> <p>- السائل المذيب - نسبة المواد البلاستيكية فيه - الاستخدام</p> <p>ب. من خلال دراستك موضوع التشخيص بالأشعة والأمواج فوق الصوتية أجب عن الأسئلة الآتية:</p> <p>1- وضح كيف تستخدم عملية التصوير باستخدام الصبغات الملونة في فحص المعدة والاثني عشر.</p> <p>2- عدد خمسة من مجالات استخدام التصوير الطبقي في تشخيص المرض.</p> <p>ج. عدد المخاطر المحتملة للأغذية المعدلة وراثياً على صحة الانسان.</p>
<p>(8 علامات)</p> <p>(8 علامات)</p> <p>(4 علامات)</p>	<p>السؤال الرابع: (20 علامة)</p> <p>أ. علل كل مما يأتي</p> <p>1- تضاف مواد حافظة إلى الشامبوهات.</p> <p>2- لا يميل مبلمر التفلون لتكوين روابط مع غيره من المواد.</p> <p>ب. الإشعاعات تُستخدم في العلاج كما تُستخدم في تشخيص الحالات المرضية:</p> <p>1- وضح سبب اختلاف طاقة الأشعة المستخدمة في العلاج عن طاقة الأشعة المستخدمة في التشخيص.</p> <p>2- ما المقصود بالعلاج الإشعاعي التكميلي؟</p> <p>3- عدد النصائح الذهبية الثلاث للتقليل من خطر الإشعاع.</p> <p>ج. قارن بين فيتامين K وفيتامين E من حيث الوظائف والمصادر.</p>
<p>القسم الثاني : يتكون هذا القسم من سؤالين، وعلى المشترك أن يجيب عن أحدهما فقط .</p>	
<p>(6 علامات)</p> <p>(4 علامات)</p>	<p>السؤال الخامس: (10 علامات)</p> <p>أ. تُصنف البوليمرات حسب خواصها الفيزيائية واستخداماتها العملية إلى عدة أصناف، أذكر ثلاث من تلك الأصناف ومثالاً على كل صنف.</p> <p>ب. أذكر أربعة من أسباب اختلاف طاقة الايض في جسم الإنسان.</p>
<p>(5 علامات)</p> <p>(5 علامات)</p>	<p>السؤال السادس: (10 علامات)</p> <p>أ. عدد خمسة من المكونات الرئيسة لمعجون الأسنان.</p> <p>ب. الاكثار من تناول الوجبات السريعة يُسبب مخاطر كثيرة، عدد خمسة منها.</p>

انتهت الأسئلة