



مدرسة الزهراء الثانوية للبنات

مادة تدريبية لمبحث الجغرافيا للثانوية العامة خاصة بالوحدات
الثلاث الأولى وتحتوي على :



٢٧٠ سؤال اختيار من متعدد

٧ نماذج تدريبات على الخريطة

إعداد المعلمة :

أسماء عبد العظيم مشتهى

إشراف مديرة المدرسة :

أ.فايدة عبد الكريم الإسي

ليكن قلبك أرحب من مساحات العالم اهدم في أعماق روحك جميع
الحدود الجغرافية التي شيدتها أنانية البشر



للأمانة العلمية :

هذا الجهد خالص لوجه الله

الملزمة هذا العام ٢٠١٩ - ٢٠٢٠ م من إعدادي و جهدي الخاص سواء أسئلة
اختيار من متعدد أو نماذج الخرائط .

أتمنى أن يتم الإستفادة من هذا الجهد ، و كذلك أتمنى التوفيق لطالباتي و جميع طلاب
الثانوية العامة .

إعداد المعلمة الفاضلة : أسماء عبد العظيم مشتهى مدرسة : الزهراء الثانوية للبنات (شرق غزة)

اختاري الإجابة الصحيحة مما بين الأقواس:

- ١- كم تشكل الأشعة المرئية من مجموع الإشعاع الشمسي: (أ- ٤٥% ب- ٤٦% ج- ٩% د- ٥٥%)
- ٢- ما الأشعة التي تمد الأرض بالضوء و الحرارة :
(أ-فوق البنفسجية ب- تحت الحمراء ج- جاما د- السينية)
- ٣- ما نوع موجات ألوان الطيف (الأشعة المرئية) : (أ- طويلة ب- متوسطة ج- قصيرة د- قصيرة جداً)
- ٤- كم تتراوح أطوال موجات الأشعة الغير مرئية ذات الموجات القصيرة جداً :
(أ- أقل من ٤ مايكرون ب- ٤-٧ مايكرون ج- ٧-٤ مايكرون د- ٧مايكرون)
- ٥- كم تشكل الأشعة الغير مرئية من مجموع الإشعاع الشمسي :
(أ- ٤٥% ب- ٤٦% ج- ٩% د- ٥٥%)
- ٦- ما نوع موجات أشعة جاما كأحد الأمثلة على الأشعة الغير مرئية :
(أ- الطويلة ب- المتوسطة ج- القصيرة د- القصيرة جداً)
- ٧- كم تشكل الأشعة ذات الموجات الطويلة من مجموع الإشعاع الشمسي :
(أ- ٤٥% ب- ٤٦% ج- ٩% د- ٥٥%)
- ٨- كم تشكل الأشعة ذات الموجات القصيرة من مجموع الإشعاع الشمسي :
(أ- ٤٥% ب- ٤٦% ج- ٩% د- ٥٥%)
- ٩- ما نوع موجات الأشعة الحرارية كأحد الأمثلة على الأشعة الغير مرئية :
(أ- الطويلة ب- المتوسطة ج- القصيرة د- القصيرة جداً)
- ١٠- كم يبلغ معدل الحرارة السنوي في المنطقة الاستوائية : (أ- ١٧° ب- ٢٢° ج- ٢٥° د- ٣٠°)
- ١١- كم يبلغ معدل الحرارة السنوي في المنطقة المدارية (أ- ١٧° ب- ٢٢° ج- ٢٥° د- ٣٠°)
- ١٢- كم يبلغ معدل الحرارة السنوي في المنطقة المعتدلة : (أ- ١٧° ب- ٢٢° ج- ٢٥° د- ٣٠°)
- ١٣- إذا كانت درجة الحرارة عند نقطة ما على مستوى سطح البحر ٢٥° م ، فكم تكون درجة الحرارة على ارتفاع ٣ كم من سطح البحر فوق هذه النقطة ؟
(أ- ٧° ب- ٧° ج- ٥° د- ٥°)
- ١٤- ما اتجاه الرياح التجارية في نصف الكرة الشمالي:
- ١٥- (أ-شمالية شرقية ب- جنوبية شرقية ج- شمالية غربية د- جنوبية غربية)
ما اتجاه الرياح التجارية في نصف الكرة الجنوبي:
- ١٦- (أ-شمالية شرقية ب- جنوبية شرقية ج- شمالية غربية د- جنوبية غربية)
ما اتجاه الرياح القطبية في نصف الكرة الشمالي :
- ١٧- (أ-شمالية شرقية ب- جنوبية شرقية ج- شمالية غربية د- جنوبية غربية)
ما اتجاه الرياح القطبية في نصف الكرة الجنوبي :
- ١٨- (أ-شمالية شرقية ب- جنوبية شرقية ج- شمالية غربية د- جنوبية غربية)
ما اتجاه الرياح الغربية العكسية في نصف الكرة الشمالي :
- ١٩- (أ-شمالية شرقية ب- جنوبية شرقية ج- شمالية غربية د- جنوبية غربية)
ما اتجاه الرياح الغربية العكسية في نصف الكرة الجنوبي :
- ٢٠- (أ-شمالية شرقية ب- جنوبية شرقية ج- شمالية غربية د- جنوبية غربية)
ما نوع الرياح التي تهب من مناطق الضغط الجوي المرتفع وراء المدارين إلي الضغط المنخفض الإستوائي : (أ-تجارية ب- غربية عكسية ج- قطبية د- موسمية)

- ٢١- ما نوع الرياح التي تهب على جنوبي شرقي اسيا :
(أ-الدائمة ب-الموسمية ج-المحلية د-اليومية)
- ٢٢- نوع الرياح التي تهب على المنطقة الإستوائية : (أ-تجارية ب-غربية عكسية ج-قطبية د-يومية)
- ٢٣- بمُ تُصنّف رياح الخماسين بأنها : (أ-دائمة ب-موسمية ج-محلية د-يومية)
- ٢٤- بمُ تُصنّف رياح المسترال بأنها : (أ-دائمة ب-موسمية ج-محلية د-يومية)
- ٢٥- ما اسم الرياح التي تهب على مصر و بلاد الشام :
(أ – المسترال ب- الخماسين ج- السولانو د- السيروكو)
- ٢٦- ما اسم الرياح التي تهب من جبال الألب وسط أوروبا إلى جنوبها :
(أ- الخماسين ب- المسترال ج- السيروكو د- السولانو)
- ٢٧- تُسمى الرياح باسم الجهة التي تهب منها فمثلاً لو كانت قادمة من جهة الغرب فإنها رياح :
(أ-غربية ب-شرقية ج-شمالية د-جنوبية)
- ٢٨- أي من التالي مثال على الرياح المحلية الباردة :
(أ- الخماسين ب- السولانو ج- السيروكو د- المسترال)
- ٢٩- بين أي دائرتي عرض تمتد المنطقة المعتدلة فلكياً :
(أ- ٥° - ٥° ب- ٥° - ٢٣.٥° ج- ٢٣.٥° - ٦٦.٥° د- ٦٦.٥° - ٩٠°)
- ٣٠- ما نوع الرياح الدائمة التي تهب من الضغط المرتفع وراء المدارين إلى منطقة الضغط المنخفض شبه القطبي أو المناطق المعتدلة : (أ- التجارية ب- الغربية العكسية ج- القطبية د- الموسمية)
- ٣١- ما نوع الرياح الدائمة التي تهب من الضغط المرتفع القطبي إلى منطقة الضغط المنخفض شبه القطبي :
(أ- التجارية ب- الغربية العكسية ج- القطبية د- الموسمية)
- ٣٢- ما نوع نسيم البحر من أنواع الرياح التالية : (أ-دائمة ب- موسمية ج- محلية د- يومية)
- ٣٣- أي من التالي لا تصنف من الرياح اليومية :
(أ- نسيم البر ب- نسيم البحر ج- نسيم الجبل د- رياح الخماسين)
- ٣٤- بين أي دائرتي عرض تمتد المنطقة الإستوائية :
(أ- ٥° - ٥° ب- ٥° - ٢٣.٥° ج- ٢٣.٥° - ٦٦.٥° د- ٦٦.٥° - ٩٠°)
- ٣٥- بين أي دائرتي تمتد المنطقة المدارية :
(أ- ٥° - ٥° ب- ٥° - ٢٣.٥° ج- ٢٣.٥° - ٦٦.٥° د- ٦٦.٥° - ٩٠°)
- ٣٦- بين أي دائرتي عرض تمتد المنطقة القطبية :
(أ- ٥° - ٥° ب- ٥° - ٢٣.٥° ج- ٢٣.٥° - ٦٦.٥° د- ٦٦.٥° - ٩٠°)
- ٣٧- ما القارة التي يؤثر تيار بنجويلا البارد على سواحلها الغربية :
(أ- آسيا ب-أفريقيا ج-أوروبا د- أمريكا الشمالية)
- ٣٨- ما القارة التي يؤثر تيار كناري البارد في سواحلها الشمالية الغربية :
(أ-أفريقيا ب- اسيا ج- أوروبا د- أمريكا الجنوبية)
- ٣٩- ما التيار الذي يرفع من درجة حرارة السواحل الشرقية لقارة آسيا :
(أ-كناري ب-بنجويلا ج-اليابان د-الخليج)
- ٤٠- ما التيار الذي يؤثر على السواحل الشمالية الغربية لقارة أفريقيا :
(أ-اليابان ب- كناري ج-بنجويلا د-البرازيل)
- ٤١- ما التيار الذي يخفض من درجة السواحل الغربية لقارة أفريقيا :
(أ-البرازيل ب-اليابان ج-بنجويلا د-الخليج)

- ٤٢- أي من التيارات البحرية التالية تؤثر على السواحل الغربية لقارة أفريقيا :
 (أ- اليابان ب- بنجويلا ج- كناري د- (ب+ج))
- ٤٣- ما التيار الذي يؤثر على السواحل الغربية لقارة أوروبا و السواحل الشمالية الشرقية لقارة أمريكا الشمالية : (أ-اليابان ب- بنجويلا ج- الخليج د- كناري)
- ٤٤- ماذا تسمى عملية تحول الماء المتجمد إلى الحالة الغازية مباشرة دون أن يمر بالحالة السائلة :
 (أ-التبخر ب- التسامي ج- التكاثف د- الترسيب)
- ٤٥- ماذا تسمى عملية تحول بخار الماء إلى الحالة الصلبة مباشرة دون أن يمر بالحالة السائلة :
 (أ-التبخر ب- التسامي ج- التكاثف د- الترسيب)
- ٤٦- ماذا تسمى عملية تحول الماء من حالة السيولة إلى الحالة الغازية :
 (أ-التبخر ب- التسامي ج- التكاثف د- الترسيب)
- ٤٧- ماذا يطلق على كمية بخار الماء العالق في الغلاف الجوي :
 (أ- الرطوبة الجوية ب- الرطوبة المطلقة ج- الرطوبة النسبية د- الندى)
- ٤٨- ماذا يطلق على مقدار وزن بخار الماء في حجم معين من الهواء :
 (أ- الرطوبة النسبية ب- الرطوبة المطلقة ج- الرطوبة الجوية د- الندى)
- ٤٩- ماذا يطلق على نسبة بخار الماء الموجود فعلاً في الهواء إلى بخار الماء الذي يستطيع الهواء استيعابه على نفس درجة الحرارة :
 (أ- الرطوبة المطلقة ب- الرطوبة الجوية ج- الرطوبة النسبية د- الندى)
- ٥٠- ما السحب التي لا تصل أمطارها إلى سطح الأرض :
 (أ-المزن الطبقي ب- المزن الركامي ج- الركام المتوسط د- السمحاق الطبقي)
- ٥١- ما السحب التي يتراوح ارتفاعها من ٢-٧ كم:
 (أ-المزن الطبقي ب- الركام المتوسط ج- السمحاق الطبقي د- السمحاق الركامي)
- ٥٢- ما السحب التي تكون أمطارها غزيرة ومصحوبة بالبرق والرعد و سقوط الثلوج :
 (أ-المزن الطبقي ب- الركام المتوسط ج- السمحاق الطبقي د- السمحاق الركامي)
- ٥٣- بَمَ تصنف أمطار المنطقة الإستوائية :
 (أ-تضاريسية ب-منخفضات جوية ج-تصعيدية د-إعصارية)
- ٥٤- بَمَ تصنف أمطار خليج المكسيك : (أ-تضاريسية ب-منخفضات جوية ج-حملية د-إعصارية)
- ٥٥- بَمَ تصنف أمطار غرب أوروبا : (أ-تضاريسية ب-منخفضات جوية ج-تصعيدية د-إعصارية)
- ٥٦- بَمَ تصنف أمطار حوض البحر المتوسط :
 (أ-تضاريسية ب-منخفضات جوية ج-تصعيدية د-إعصارية)
- ٥٧- ما تصنيف المناطق الصحراوية المعتدلة و الحارة و الجليدية حسب كمية الأمطار الساقطة عليها :
 (أ- نادرة الأمطار ب- متوسطة الأمطار ج- غزيرة الأمطار د- غزيرة جداً)
- ٥٨- ما تصنيف منطقة شرق القارات و المنطقة الإستوائية حسب كمية الأمطار الساقطة عليها :
 (أ- نادرة الأمطار ب- متوسطة الأمطار ج- غزيرة الأمطار د- غزيرة جداً)
- ٥٩- ما تصنيف منطقة غرب القارات و وسطها حسب كمية الأمطار الساقطة عليها :
 (أ- نادرة الأمطار ب- متوسطة الأمطار ج- غزيرة الأمطار د- غزيرة جداً)
- ٦٠- بَمَ تصنف أمطار كلاً من المنطقة الإستوائية و المدارية :
 (أ-تضاريسية ب-منخفضات جوية ج-تصعيدية (حملية) د-إعصارية)
- ٦١- أي من المناطق التالية تزداد فيها عملية التبخر :
 (أ- الإستوائية ب- المدارية ج- القطبية د- (أ+ب))

- ٦٢- أي من المناطق التالية تقل فيها عملية التبخر :
 (أ - الإستوائية ب - المدارية ج - القطبية د - المعتدلة)
- ٦٣- ماذا يطلق على تحول بخار الماء إلى سائل أو صلب عندما يتعرض للبرودة :
 (أ - التبخر ب - التكاثف ج - التسامي د - الترسيب)
- ٦٤- ماذا يشترط لحدوث الندى : (أ - صفاء السماء ب - هدوء الرياح ج - وجود الغيوم د - (أ+ب))
- ٦٥- ماذا تسمى عملية تكاثف بخار الماء العالق بالهواء أثناء الليل إلى بلورات من الثلج فوق الأجسام المعرضة للهواء عند انخفاض درجة الحرارة إلى ما دون درجة التجمد :
 (أ- الندى ب- الصقيع ج- الضباب د- السحب)
- ٦٦- أي من أشكال التكاثف التالية تعتبر أخطرها : (أ - الندى ب - الضباب ج - الصقيع د - السحب)
- ٦٧- أي من التالية مثال على السحب المتوسطة الارتفاع :
 (أ - المزن الطبقي ب - المزن الركامي ج - الركام المتوسط د - السمحاق الركامي)
- ٦٨- أي من التالي مثال على السحب المنخفضة :
 (أ - السمحاق الطبقي ب- السمحاق الركامي ج- المزن الطبقي د- الركام المتوسط)
- ٦٩- كم يبلغ ارتفاع السحب المنخفضة الارتفاع :
 (أ - لا تزيد عن ٢ كم ب - ٧-٢ كم ج - ٧-١٢ كم د - تزيد عن ١٢ كم)
- ٧٠- كم يبلغ ارتفاع السحب المتوسطة الارتفاع :
 (أ - لا تزيد عن ٢ كم ب - ٧-٢ كم ج - ٧-١٢ كم د - تزيد عن ١٢ كم)
- ٧١- كم يبلغ ارتفاع السحب المرتفعة :
 (أ - لا تزيد عن ٢ كم ب - ٧-٢ كم ج - ٧-١٢ كم د - تزيد عن ١٢ كم)
- ٧٢- ماذا تسمى عملية تكاثف بخار الماء على شكل قطرات مائية على سطح الأرض و ما عليه من أجسام :
 (أ- الندى ب- الصقيع ج- الضباب د- السحب)
- ٧٣- أي من أشكال التكاثف التالية تحدث نتيجة لتكاثف بخار الماء في طبقات الجو العليا :
 (أ - الندى ب - الضباب ج - الصقيع د - السحب)
- ٧٤- ماذا تسمى عملية تكاثف بخار الماء على شكل ذرات مائية صغيرة عالقة في الهواء القريب من سطح الأرض :
 (أ- الندى ب- الصقيع ج- الضباب د- السحب)
- ٧٥- ما نوع أمطار منطقة حوض البحر المتوسط من حيث الكمية :
 (أ- غزيرة ب- متوسطة ج- قليلة د- نادرة)
- ٧٦- ماذا ينتج عن تمدد الهواء و تقلصه بشكل مفاجئ بفعل تسخينه بالبرق :
 (أ- البرق ب- الرعد ج- الصاعقة د- المنخفض الجوي)
- ٧٧- بَمَ تمتاز المرحلة الثالثة من العاصفة الرعدية:
 (أ-تكوين الغيوم ب-النضج ج-تلاشي الغيوم د-هبوب الرياح)
- ٧٨- ماذا يسمى الحد الفاصل عند التقاء كتلة هوائية باردة مع كتلة هوائية دافئة :
 (أ-الجبهة الهوائية ب-الكتلة الهوائية ج-المنخفض الجوي د- المرتفع الجوي)
- ٧٩- في أي مرحلة من مراحل العاصفة الرعدية تحدث ظاهرتي الرعد و البرق :
 (أ - المرحلة الاولى ب - المرحلة الثانية ج - المرحلة الثالثة د - المرحلة الرابعة)
- ٨٠- ما الظاهرة الناجمة عن حدوث تماس بين الشحنات الكهربائية السالبة ، و الموجبة داخل السحابة الواحدة أو سحابتين مختلفتين في الشحنات :

- (أ - البرق) ب- الصاعقة ج- الرعد د- المطر ()
- ٨١- ماذا يطلق على الوميض الممتد من الأرض لأعلى بسبب عملية التفريغ الكهربائي بين الشحنات السالبة أسفل السحابة و الشحنات الموجبة على سطح الأرض :
- (أ - البرق) ب - الرعد ج - الصاعقة د - المطر ()
- ٨٢- ما نوع الجبهة الهوائية التي تتكون فيها غيوم المزن الركامي و يصاحبها عواصف رعدية :
- (أ-الباردة) ب- الدافئة ج- المستقرة د- الممتلئة ()
- ٨٣- ما نوع الجبهة الهوائية التي يتحرك فيها الهواء على جانبيها في الإتجاه الموازي لها :
- (أ- الدافئة) ب- الباردة ج- المقفلة د- المستقرة ()
- ٨٤- ما نوع الجبهة الهوائية التي يكون فيها الهواء الدافئ أمام الجبهة و الهواء البارد خلفها :
- (أ - الباردة) ب - المغلقة ج - المستقرة د - الدافئة ()
- ٨٥- ما حركة الرياح في المرتفع الجوي :
- (أ-رأسية) ب- أفقية ج- من المركز إلى الأطراف د- من الأطراف إلى المركز ()
- ٨٦- ما حركة الرياح في المنخفض الجوي :
- (أ-رأسية) ب- أفقية ج- من المركز إلى الأطراف د- من الأطراف إلى المركز ()
- ٨٧- كم يعادل الضغط الجوي عند مستوى سطح البحر علماً بأنه يساوي وزن عمود من الزئبق ارتفاعه ٧٦سم : (أ-١٠١٣ ب-١٠١٥ ج-١٠٢٠ د-١٠٢٥) ملليبار
- ٨٨- أين تكون حرارة اليابس أقل : (أ-النهار صيفاً ب- الليل صيفاً ج- النهار شتاءً د- الليل شتاءً)
- ٨٩- ما الجهاز الذي يستخدم لقياس الضغط الجوي :
- (أ-الباروميتر الزئبقي) ب- دواتة الرياح ج- السيزموجراف د- مقياس ريختر ()
- ٩٠- ما الجهاز الذي يستخدم لقياس درجة حرارة الهواء :
- (أ-الباروميتر) ب-الأنيموميتر ج-السيكروميتر د-الثيرموميتر ()
- ٩١- ما نسبة الإشعاع الشمسي الأرضي البسيط الواصل لسطح الأرض و الذي يمدّها بالطاقة الحرارية و الضوئية: (أ-٩٩.٩٧% ب-٩٩.٧٩% ج-٩٧.٩٩% د-٩٨.٩٧%)
- ٩٢- ما نوع الأمطار التي تسود في منطقة العروض الوسطى :
- (أ-تصعيدية) ب-تضاريسية ج- منخفضات جوية د- إعصارية ()
- ٩٣- ما الإقليم المناخي يقع بين دائرتي عرض ٠-٥° أو قد يمتد في بعض المناطق إلى ١٠° شمال و جنوب خط الإستواء: (أ-الإستوائي) ب- المداري ج- الموسمي د- الصحراوي ()
- ٩٤- جميع ما يلي مثال على الأقاليم المناخية الحارة ما عدا:
- (أ- الإستوائي) ب- الموسمي ج- الصحراوي د- البحر المتوسط ()
- ٩٥- إقليم مناخي يمتد بين دائرتي عرض ٣٠°-٥° شمال و جنوب خط الإستواء :
- (أ-الإستوائي) ب-المداري ج- البحر المتوسط د-الصحراوي ()
- ٩٦- ما نوع المناخ في جنوب فلسطين : (أ-الإستوائي) ب- المداري ج- الموسمي د- الصحراوي ()
- ٩٧- أي من الأنهار التالية في قارة أفريقيا تتبع الإقليم الإستوائي :
- (أ- الكونغو) ب- الزمبيزي ج- الأمازون د- المسيسيبي ()
- ٩٨- أين يتمثل الإقليم الإستوائي في قارة آسيا : (أ- الصين) ب- الهند ج- العراق د- أندونيسيا ()
- ٩٩- في أي جهة من الصومال يتمثل الإقليم الإستوائي : (أ- شمالها) ب- جنوبها ج- شرقها د- غربها ()
- ١٠٠- في أي قارة يوجد نهر الأمازون : (أ- آسيا) ب- أفريقيا ج- أوروبا د- أمريكا الجنوبية ()
- ١٠١- كم تزيد الرطوبة النسبية في المنطقة الإستوائية : (أ- ٦٠% ب - ٧٠% ج - ٨٠% د - ٩٠%)

- ١٠٢- كم تصل كمية أمطار المنطقة الإستوائية سنوياً :
(أ - ٢٠٠-٣٠٠ ملم ب - ٤٠٠-٦٠٠ ملم ج - ١٠٠٠ ملم د - أكثر من ١٥٠٠ ملم)
- ١٠٣- كم يبلغ المدى الحراري اليومي في المنطقة الإستوائية :
(أ- لا يتجاوز ٥°م ب - لا يزيد عن ١٠°م ج - أكثر من ١٨°م د - أكثر من ٢٥°م)
- ١٠٤- كم يبلغ المدى الحراري السنوي في المنطقة الإستوائية :
(أ- لا يتجاوز ٥°م ب - لا يزيد عن ١٠°م ج - أكثر من ١٨°م د - أكثر من ٢٥°م)
- ١٠٥- تتبع أسكا الإقليم المناخي : (أ-شبه القطبي ب- التندرا ج- القطبي د- المعتدل الدافئ)
- ١٠٦- بين أي دائرتي عرض تمتد الأقاليم الباردة :
(أ- ٥°-٠° ب - ١٨-٣٠° ج- ٣٠-٤٥° د - ٦٠-٩٠° شمال و جنوب خط الإستواء)
- ١٠٧- ما الإقليم المناخي الذي يتمثل في وسط سيبيريا :
(أ- شبه القطبي ب- التندرا ج- القطبي د- المعتدل الدافئ)
- ١٠٨- ما نوع مناخ السفوح الجبلية للمنطقة القطبية في كندا :
(أ-شبه القطبي ب-القطبي ج-التندرا د- المعتدل البحري)
- ١٠٩- الإقليم المناخي الذي يخلو من جميع مظاهر الحياة و يوصف بالصحاري الجليدية :
(أ-شبه القطبي ب- التندرا ج- القطبي د- المعتدل البحري)
- ١١٠- يوجد إقليم الكاب في دولة : (أ-الصين ب- الهند ج- البرازيل د- جنوب أفريقيا)
- ١١١- ما الجهة من قارة أفريقيا التي يوجد بها إقليم الكاب :
(أ - الشمالية الشرقية ب - الشمالية الغربية ج - الجنوبية الغربية د - الجنوبية الشرقية)
- ١١٢- ما نوع الإقليم المناخي الذي تتبع له منطقة جنوب غرب أستراليا :
(أ - إستوائي ب - صحراوي ج - مداري د - البحر المتوسط)
- ١١٣- غرب أي قارة توجد كاليفورنيا : (أ - آسيا ب - أوروبا ج - أفريقيا د - أمريكا الشمالية)
- ١١٤- أي من المناطق التالية تتبع إقليم البحر المتوسط (شبه الرطب) ؟
(أ- جنوب الصومال ب- غرب أستراليا ج- وسط تشيلي د- جنوب السودان)
- ١١٥- بين أي دائرتي عرض تمتد الأقاليم المعتدلة :
(أ - ١٨-٠° ب - ٣٠-٠° ج - ٦٠-٣٠° د - ٩٠-٤٥° شمال و جنوب خط الإستواء)
- ١١٦- بين أي دائرتي عرض إقليم البحر المتوسط شبه الرطب :
(أ- ٥-٠° ب - ١٨-٣٠° ج- ٣٠-٤٥° د - ٩٠-٤٥° شمال و جنوب خط الإستواء)
- ١١٧- كم تتراوح كمية أمطار فلسطين سنوياً كأحد مناطق إقليم البحر المتوسط :
(أ - ٢٠٠-٣٠٠ ملم ب - ٣٠٠-٤٠٠ ملم ج - ٤٠٠-٦٠٠ ملم د - ٨٠٠-٩٠٠ ملم)
- ١١٨- بمَ تمتاز كمية أمطار الأجزاء الجنوبية من الأغوار الفلسطينية :
(أ-غزيرة ب- متوسطة ج- قليلة د- غزيرة جداً)
- ١١٩- أي من المناطق التالية لا يظهر فيها إقليم مناخ التندرا :
(أ-خليج هدسن ب- وسط سيبيريا ج- شمال آيسلندا د- سواحل جرينلاند)
- ١٢٠- ما المنطقة التي تقع في ظل المطر في فلسطين :
(أ-المرتفعات الجبلية ب- النقب ج- الأغوار د- السهل الساحلي)
- ١٢١- ما نوع الرياح المسؤولة عن تساقط الأمطار في إقليم البحر المتوسط شتاءً :
(أ-الشمالية الشرقية ب- الشمالية الغربية ج- الجنوبية الغربية د- الجنوبية الشرقية)
- ١٢٢- أي من المناطق التالية تكون الغيوم فيها سبباً لمنع وصول الإشعاع الشمسي إليها :
(أ-وسط أفريقيا ب- الوطن العربي ج- المناطق القطبية د- غرب أوروبا ووسطها)

- ١٢٣- تكون الرطوبة النسبية مزعجة للإنسان إذا زادت عن : (أ-٤٥% ب-٦٥% ج-٧٥% د-٨٠%)
- ١٢٤- حركة الهواء في المنطقة الإستوائية : (أ-أفقية ب-تصاعدية ج-سريعة د-عاصفة)
- ١٢٥- ما السلسلة الجبلية التي تمتد وسط قارة أوروبا : (أ-الهميليا ب-الألب ج-الروكي د-الأنديز)
- ١٢٦- ينخفض الضغط الجوي مليبار واحد كلما ارتفعنا لأعلى : (أ-١٠م ب-١٥م ج-٢٠م د-٢٥م)
- ١٢٧- تقل درجة الحرارة درجة مئوية واحدة كلما ارتفعنا لأعلى : (أ-٥٠م ب-١٠٠م ج-١٥٠م د-٢٠٠م)
- ١٢٨- أي المناطق التالية يتشكل بها ضغط جوي مرتفع :
- (أ- المنطقة الإستوائية ب- وراء المدارين ج- العروض الوسطى د- شبه القطبية)
- ١٢٩- ما المورد الطبيعي الذي تشتهر به البرازيل :
- (أ- البترول ب- الغاز الطبيعي ج- الفحم الحجري د- الأخشاب)
- ١٣٠- أي من التالي مثال على الصخور الرسوبية : (أ- البازلت ب- الناييس ج- الشيست د-الصوان)
- ١٣١- أي من القارات التالية توجد بها سلسلة جبال الهميليا :
- (أ- آسيا ب- أوروبا ج- أفريقيا د- أمريكا الشمالية)
- ١٣٢- أي من الصخور التالية تتميز بخلوها من الأحافير و وجودها في الطبيعة على شكل كتل :
- (أ- البازلت ب- الصوان ج- الحجر الجيري د- الرخام)
- ١٣٣- أي من التالي مثال على الصخور النارية :
- (أ- الحجر الجيري ب- الناييس ج- الصوان د- الجرانيت)
- ١٣٤- أي من التالي مثال على الصخور المتحولة :
- (أ- البازلت ب- عروق الكوارتز ج- الجرانيت د-الصوان)
- ١٣٥- ما المورد الطبيعي الذي تشتهر به فلسطين :
- (أ-البترول ب- الفحم الحجري ج- الصخور د- الأخشاب)
- ١٣٦- ما المورد الطبيعي الذي تشتهر به دول الخليج العربي :
- (أ-النفط ب- اليورانيوم ج- الصخور د- الأخشاب)
- ١٣٧- يمكن توظيف التقدم العلمي و التكنولوجيا لابتكار موارد اقتصادية جديدة مثل :
- (أ- المطاط الصناعي ب- الحديد ج- النسيج د- الصلب)
- ١٣٨- ما المعادن التي يحتويها الرخام في الصخور المتحولة :
- (أ-الذهب و الماس ب- الذهب و النحاس ج- الفضة د- الفضة و النحاس)
- ١٣٩- أي من الصخور التالية يستخرج منها معدني الذهب و النحاس :
- (أ-الجرانيت ب- البازلت ج-الصوان د-الرخام)
- ١٤٠- ما الخامات التي تحتويها بعض السيليكات :
- (أ- الألومنيوم ب- النحاس ج- الذهب د- الحديد)
- ١٤١- أي من التالية مثال على الفلزات الغير حديدية :
- (أ- الحديد ب- الذهب ج- النحاس د- المنغنيز)
- ١٤٢- أي من التالية مثال على فلزات السبائك :
- (أ- الحديد ب- الذهب ج- النحاس د- المنغنيز)
- ١٤٣- أي من التالية مثال على الفلزات الثمينة :
- (أ- الحديد ب- الذهب ج- النيكل د- القصدير)
- ١٤٤- أي من التالية مثال على المعادن اللا فلزية :
- (أ- النيكل ب- القصدير ج- الجبس د- الحديد)
- ١٤٥- أي من الدول التالية تشتهر بوجود الوقود المعدني العضوي (الفحم الحجري) :

- (أ - جنوب أفريقيا ب - الصين ج - العراق د - (أ+ب))
- ١٤٦- أي من الدول التالية تشتهر بوجود الوقود المعدني الهيدروكربوني :
- (أ - روسيا ب - ألمانيا ج - جنوب أفريقيا د - الصين)
- ١٤٧- أي من الدول التالية تشتهر البترول :
- (أ - الصين ب - جنوب أفريقيا ج - ألمانيا د - الجزائر)
- ١٤٨- أي من الدول التالية تشتهر بوجود الفحم الحجري :
- (أ - السعودية ب - ألمانيا ج - روسيا د - الجزائر)
- ١٤٩- يمكن الاستفادة من دراسة الموارد الطبيعية لتحقيق التوازن بينها وبين زيادة أعداد السكان من خلال التنمية: (أ - المستدامة ب - البشرية ج - الاقتصادية د - الاجتماعية)
- ١٥٠- أين يتركز الفوسفات في فلسطين :
- (أ-البحر الميت ب- أريحا ج- وادي المنيرة د- قباطية)
- ١٥١- أي من التالية تصنف بأنها دائمة لا تنفذ: (أ - النفط ب - الغاز ج - الفحم الحجري د - الرياح)
- ١٥٢- أي من الموارد العضوية التالية تصنف بأنها مكانية متوسطة الانتشار :
- (أ - الذهب ب - الغابات ج - الهواء د - الماء)
- ١٥٣- أين يتركز الحديد في فلسطين: (أ-سهل الحولة ب- وادي الجرافي ج- بيت لحم د- البحر الميت)
- ١٥٤- أين يتواجد اليورانيوم في فلسطين: (أ - النقب ب - أريحا ج - القدس د - بيت لحم)
- ١٥٥- أين تتواجد الأملاح المعدنية في فلسطين :
- (أ - البحر الميت ب - النقب ج - القدس د - بيت لحم)
- ١٥٦- ما المورد الذي اكتشف حديثاً في قبالة الساحل الفلسطيني بين عسقلان و غزة :
- (أ- البترول ب- الغاز الطبيعي ج- اليورانيوم د- الصخر الزيتي)
- ١٥٧- في أي جهة من مدينة بيت لحم يتواجد الفوسفات :
- (أ - شمالها ب - جنوبها ج - شرقها د - غربها)
- ١٥٨- في أي جهة من البحر الميت يوجد وادي الجرافي :
- (أ - شماله ب - جنوبه ج - غربه د - شرقه)
- ١٥٩- غرب أي مدينة فلسطينية توجد قرية رنتيس :
- (أ - القدس ب - بيت لحم ج - رام الله د - الخليل)
- ١٦٠- ما المدينة الفلسطينية التي توجد قريبا منطقة اللطرون:
- (أ-القدس ب- الخليل ج- بيت لحم د- أريحا)
- ١٦١- ما المحافظة الفلسطينية التي تتبع لها منطقة الشيوخ :
- (أ- رام الله ب- القدس ج- سلفيت د-الخليل)
- ١٦٢- ما المدينة الفلسطينية التي تتبع لها منطقة قباطية :
- (أ- القدس ب- جنين ج- سلفيت د- الخليل)
- ١٦٣- ما المحافظة الفلسطينية التي تتبع لها منطقة جماعين :
- (أ- القدس ب- نابلس ج- جنين د- سلفيت)
- ١٦٤- ما الوادي الذي يقع جنوب البحر الميت قرب وادي عربة :
- (أ- الرمان ب- الجرافي ج- المنيرة د- عربة)

- ١٦٥- ما الوادي الذي يقع في النقب و يشتهر بوجود الحديد فيه :
(أ- الرمان ب- اللطرون ج- الملح د- الفارعة)
- ١٦٦- ما الاسم العلمي للجبس:
(أ- كلوريد الصوديوم ب- كلوريد الكالسيوم ج- كبريتات الكالسيوم د- كبريتات المغنيسيوم)
- ١٦٧- ما المورد الذي اكتشف حديثاً في منطقة اللطرون قرب القدس:
(أ- البترول ب- الغاز الطبيعي ج- اليورانيوم د- الصخر الزيتي)
- ١٦٨- ما الصخر الذي يتواجد قرب أريحا و وسط النقب و شماله :
(أ- الجرانيت ب- الصوان ج- الحجر الجيري د- الصخر الزيتي)
- ١٦٩- شكل الفحم الحجري المصدر الأول للطاقة حتى أوائل القرن :
(أ- ١٧- ب- ١٨- ج- ١٩- د- ٢٠-) ميلادي
- ١٧٠- ما المناطق التي تزداد تكلفة استغلال الموارد الطبيعية :
(أ- القطبية و الباردة ب- المدارية ج- الاستوائية د- المعتدلة)
- ١٧١- ما الصخور التي تستغل في صناعة حجر البناء :
(أ-الصوان ب-الحجر الجيري ج-البازلت د-الشيست)
- ١٧٢- كم يشكل البترول من إجمالي الطاقة المستخدمة في العالم :
(أ- ٤% ب- ١٠% ج- ٢٤% د- ٣٣%)
- ١٧٣- ما هو مصدر الطاقة الذي يعتبر الأكثر استخداماً في العالم :
(أ- الفحم الحجري ب- البترول ج- الغاز الطبيعي د- اليورانيوم)
- ١٧٤- ما هو مصدر الطاقة الأول في العالم :
(أ- الفحم الحجري ب- البترول ج- الغاز الطبيعي د- اليورانيوم)
- ١٧٥- ما هو مصدر الذي يأتي في المرتبة الثانية من حيث استخدام مصادر الطاقة في العالم :
(أ- الفحم الحجري ب- البترول ج- الغاز الطبيعي د- اليورانيوم)
- ١٧٦- ما هو مصدر الطاقة الذي يأتي في المرتبة الثالثة من حيث استخدام مصادر الطاقة في العالم :
(أ- الفحم الحجري ب- البترول ج- الغاز الطبيعي د- اليورانيوم)
- ١٧٧- كم يشكل الغاز الطبيعي من إجمالي الطاقة المستخدمة في العالم :
(أ- ٣٣% ب- ٢٤% ج- ٢٩% د- ١٠%)
- ١٧٨- كم يشكل اليورانيوم (الطاقة النووية) من إجمالي الطاقة المستخدمة في العالم :
(أ- ٤% ب- ٧% ج- ١٠% د- ٢٤%)
- ١٧٩- كم تشكل الطاقة المانية من إجمالي الطاقة المستخدمة في العالم :
(أ- ٤% ب- ٧% ج- ١٠% د- ٢٩%)
- ١٨٠- كم تشكل الطاقة المتجددة من إجمالي الطاقة المستخدمة في العالم :
(أ- ٤% ب- ٧% ج- ١٠% د- ٣٣%)
- ١٨١- كم تشكل الطاقة المتجددة (بدون الطاقة المائية) من إجمالي الطاقة المستخدمة في العالم :
(أ- ٤% ب- ٣% ج- ٧% د- ١٠%)
- ١٨٢- ما أكثر دول العالم في مجال استخدام الطاقة النووية لتوليد الكهرباء :
(أ- اليابان ب- روسيا ج- الصين د- فرنسا)
- ١٨٣- أي من الأمثلة التالية من أشجار الغابات الاستوائية :
(أ-نخيل الزيت ب- الأبنوس ج- الصنوبر د- الفلين)
- ١٨٤- أي من الأمثلة التالية من أشجار الغابات الموسمية :
(أ- الأبنوس ب- المطاط ج- الصنوبر د- نخيل الزيت)

- ١٨٥- تعد الوسط الحيوي اللازم لنمو الغطاء النباتي : (أ- التربة ب- المياه ج- الهواء د- التضاريس)
- ١٨٦- ما الغابات التي تأتي في المرتبة الأولى من حيث انتشارها:
(أ-الاستوائية ب-الموسمية ج-النفضية د-المخروطية)
- ١٨٧- كم يصل ارتفاع أشجار الغابات الإستوائية : (أ - ٢٠ م ب - ٣٠ م ج - ٤٠ م د - ٦٠ م)
- ١٨٨- ما القارة التي يوجد بها نهر الزمبيزي :
(أ - آسيا ب - أفريقيا ج - أوروبا د - أمريكا الشمالية)
- ١٨٩- ما الدولة التي يوجد بها نهر الأمازون : (أ - الأرجنتين ب - البرازيل ج - كندا د - الصين)
- ١٩٠- ما الغابات التي تأتي في المرتبة الثانية من حيث انتشارها:
(أ-الاستوائية ب-الموسمية ج-النفضية د-المخروطية)
- ١٩١- بعد أي دائرة عرض شمالا تظهر الغابات الصنوبرية :
(أ-٥٥° ب-٤٥° ج-٦٥° د-٧٥°)
- ١٩٢- شمال غرب أي مدينة فلسطينية تقع محمية أم الريحان:
(أ- سلفيت ب- القدس ج- جنين د- الخليل)
- ١٩٣- ما المدينة الفلسطينية التي تقع قربها أحراج وادي قانا :
(أ- رام الله ب- نابلس ج- طولكرم د- سلفيت)
- ١٩٤- غرب أي مدينة فلسطينية تقع أحراج اللطرون :
(أ- القدس ب- الخليل ج- بيت لحم د- أريحا)
- ١٩٥- كم تزيد مدة فصل الجفاف اللازمة لنمو الأحراج : (أ- ٢ ب- ٤ ج- ٦ د- ٨)شهور
- ١٩٦- أي من المناطق التالية تنمو بها حشائش الإستبس :
(أ- الرطبة ب- شبه الجافة ج-شبه الرطبة د- المعتدلة)
- ١٩٧- كم يعادل الجزء المتبقى حالياً من غابات العالم الذي يغطي مساحة اليابسة :
(أ- الربع ب- النصف ج- الثلث د- الثمن)
- ١٩٨- ماذا أصبح الإنسان اليوم يعرف بلغة الإقتصاديين :
(أ- مستخدم ب- عامل ج- القوى العاملة د- رأس المال البشري)
- ١٩٩- أي من التالي مثال على الحقوق الإجتماعية:
(أ- الانتخاب ب- الاستثمار ج- توفير الخدمات د- فرص العمل)
- ٢٠٠- أي من التالي مثال على الحقوق السياسية :
(أ-الانتخاب ب- الاستثمار ج- توفير الخدمات د-فرص العمل)
- ٢٠١- ما الفئة التي تشملها القوى العاملة :
(أ- أقل من ١٥ سنة ب- ١٠ سنوات ج- ١٥-٦٤ سنة د- أكبر من ٦٤ سنة)
- ٢٠٢- ما الفئة التي تشملها القوى العاملة :
(أ- كل فئات السكان ب- صغار السن ج- الشباب د- كبار السن)
- ٢٠٣- ما الفئة التي تشملها الموارد البشرية :
(أ- كل فئات السكان ب- صغار السن ج- الشباب د- كبار السن)
- ٢٠٤- مورد طبيعي اكتشف مؤخرا قرب الساحل الفلسطيني :
(أ-البترول ب- الغاز الطبيعي ج- الصخر الزيتي د- اليورانيوم)
- ٢٠٥- ما مصدر الطاقة الأكثر استغلالاً في فلسطين و الدول العربية :
(أ-الهواء ب-الماء ج-الرياح د-الشمس)
- ٢٠٦- ما مصدر الطاقة الذي يمكن استغلاله من النفايات و المخلفات الزراعية و غيرها :

- (أ-البترول ب- الكتلة الحيوية ج- اليورانيوم د- الغاز)
 ٢٠٧- ماذا يطلق على الأشجار الكثيفة والمرتفعة: (أ-الغابات ب-الأحراج ج-الحشائش د-الأعشاب)
 ٢٠٨- أي من التالي مثال على الكوارث الجيولوجية :
 (أ-الزلازل ب- الفيضانات ج-انحباس الأمطار د- الأوبئة)
 ٢٠٩- أي من التالي مثال على الكوارث البيولوجية :
 (أ-الزلازل ب- البراكين ج- انحباس الأمطار د- الأوبئة)
 ٢١٠- أي من التالي مثال على الكوارث الكونية :
 (أ-الزلازل ب- الأوبئة ج- انحباس الأمطار د- اصطدام النيازك بكوكب الأرض)
 ٢١١- أين وقعت كارثة مفاعل تشيرنوبل : (أ- بولندا ب- أوكرانيا ج- روسيا د- اليابان)
 ٢١٢- متى وقعت كارثة مفاعل تشيرنوبل عام : (أ-١٩٦٨ م ب-١٩٨٦ م ج-١٨٩٦ م د-١٨٨٣ م)
 ٢١٣- ما نوع الكارثة التي تعرضت لها مدينتي هيروشيما و ناجازاكي عام ١٩٤٥ م :
 (أ- مناخية ب- جيولوجية ج- كونية د- نووية)
 ٢١٤- ما الجهاز الذي يستخدم لقياس شدة الزلازل و قوتها:
 (أ-الباروميتر ب- السيزموجراف ج- مقياس ريختر د- الثيرموميتر)
 ٢١٥- ما الجهاز الذي يستخدم لرصد الزلازل و تسجيل الاهتزازات الزلزالية :
 (أ-الباروميتر ب- السيزموجراف ج- مقياس ريختر د- الثيرموميتر)
 ٢١٦- أين يوجد بركان اتنا : (أ- اليابان ب- أندونيسيا ج- ايسلندا د- صقلية)
 ٢١٧- أين يوجد بركان فيزوف : (أ- اليابان ب- أندونيسيا ج- ايسلندا د- إيطاليا)
 ٢١٨- ما الدولة التي يوجد بها بركان أساما : (أ- ايسلندا ب- اليابان ج- أندونيسيا د- صقلية)
 ٢١٩- ما الدولة التي تتبع لها جزيرة صقلية : (أ- ألمانيا ب- إيطاليا ج- فرنسا د- بريطانيا)
 ٢٢٠- غرب أي قارة توجد جبال الروكي : (أ- آسيا ب- أفريقيا ج- أمريكا الشمالية د- أوروبا)
 ٢٢١- ما نوع البراكين التي ما زالت تخرج منها الأبخرة و المواد المنصهرة بشكل مستمر و قوي :
 (أ- الخاملة ب- الساكنة ج- الهادئة د- النشطة)
 ٢٢٢- ما نوع البراكين التي تنفث الغازات و الأبخرة و المواد المنصهرة بشكل متقطع و غير عنيف :
 (أ- الخاملة ب- الساكنة ج- الثائرة د- النشطة)
 ٢٢٣- ما نوع البراكين التي توقف نهائياً نشاطها البركاني :
 (أ- الخاملة ب- الساكنة ج- الهادئة د- النشطة)
 ٢٢٤- ما القارة التي توجد بها مرتفعات الأنديز :
 (أ- أمريكا الجنوبية ب- أوروبا ج- آسيا د- أفريقيا)
 ٢٢٥- أين توجد جزيرة صقلية :
 (أ- البحر الأحمر ب- البحر المتوسط ج- المحيط الأطلسي د - المحيط الهادئ)
 ٢٢٦- ما نوع بركان أساما حسب نشاطه : (أ- خامد ب- ساكن ج- هادئ د - نشط)
 ٢٢٧- ما نوع بركان أتنا حسب نشاطه : (أ- خامد ب- ساكن ج- ثائر د - نشط)
 ٢٢٨- ما نوع البراكين الموجودة في منطقة النقب : (أ- ثائرة ب- نشطة ج- خامدة د - هادئة)
 ٢٢٩- ما المسبب الأول لحدوث الزلازل:
 (أ-حركة الصفائح التكتونية ب- الانفجارات البركانية ج- الإنسان د- البراكين)
 ٢٣٠- أين تحدث أكبر نسبة زلازل في العالم :
 (أ-الصين ب- جنوب غرب اسيا ج- المحيط الهادئ د- وسط المحيط الأطلسي)
 ٢٣١- ما نسبة الزلازل التي تحدث في حزام حلقة النار في المحيط الهادئ :

- (أ- ٦٨% ب- ٨٦% ج- ٥٠% د- ٥٦%)
- ٢٣٢- ماذا يطلق على التجويف الإسطواني الذي يصل فوهة البركان بالمواد المنصهرة :
(أ- المخروط البركاني ب- القصبية ج- المواد المنصهرة د- فوهة البركان)
- ٢٣٣- أي من التالية مثال على الكوارث المناخية :
(أ- الإحتباس الحراري ب- التغير المناخي ج- ظاهرة النينو د- جميع ما ذكر)
- ٢٣٤- ما نوع الصخر التي تتكون بعد تصلب المواد البركانية على سطح الأرض :
(أ- نارية ب- رسوبية ج- متحولة د- صوان)
- ٢٣٥- ما المدينة الفلسطينية التي أثر عليها زلزال عام ١٩٢٧ م :
(أ- عكا ب- حيفا ج- غزة د- نابلس)
- ٢٣٦- أي من التالي من البؤر الزلزالية في فلسطين :
(أ- البحر الميت ب- السهل الساحلي ج- جبل الكرمل د- وادي اللطرون)
- ٢٣٧- ما نوع الحزام الزلزالي الذي تنتمي إليه جبال زاغروس :
(أ- حلقة النار ب- الالتواءات الالابية ج- شرق أفريقيا و جنوب غرب اسيا د- وسط المحيط الأطلسي)
- ٢٣٨- ما نوع التطابق بين أحزمة الزلازل و البراكين في العالم :
(أ- تمام ب- شبه تام ج- تطابق كلي د- لا يوجد تطابق)
- ٢٣٩- ما نوع البراكين القديمة الموجودة في منطقة النقب في فلسطين :
(أ- خامدة ب- ساكنة ج- هادئة د- نشطة)
- ٢٤٠- في مياه أي محيط التي تحدث بها ظاهرة النينو :
(أ- الهادئ ب- الهندي ج- الأطلسي د- المتجمد الشمالي)
- ٢٤١- ما نوع الحزام الزلزالي الذي يتمثل بوجود الإنكسار الآسيوي الأفريقي :
(أ- حلقة النار ب- الالتواءات الالابية ج- شرق أفريقيا و جنوب غرب اسيا د- وسط المحيط الأطلسي)
- ٢٤٢- ما المنطقة التي يضربها إعصار التيفون :
(أ- غرب آسيا ب- شمال آسيا ج- جنوب شرق آسيا د- جنوب غرب آسيا)
- ٢٤٣- ما الدول التي يضربها إعصار التيفون : (أ- بنغلادش ب- البرازيل ج- الأرجنتين د- تشيلي)
- ٢٤٤- أي من الدول التالية لا يضربها إعصار التيفون :
(أ- الصين ب- الهند ج- بنغلادش د- البرازيل)
- ٢٤٥- بعد حدوث ظاهرة النينو تمتد إلى بقية المحيطات في المنطقة :
(أ- الإستوائية ب- المدارية ج- المعتدلة د- (أ+ب))
- ٢٤٦- كل كم سنة تحدث ظاهرة النينو : (أ- سنة ب- سنتين ج- ثلاثة د- أربعة)
- ٢٤٧- ما الإعصار الذي يضرب حوض نهر المسيسيبي :
(أ- التيفون ب- الهريكين ج- التورنادو د- كاترينا)
- ٢٤٨- متى عُقد مؤتمر مجموعة الدول الثمانية للحد من ظاهرة الإحتباس الحراري :
(أ- ١٩٩٧ م ب- ٢٠٠٥ م ج- ٢٠٠٧ م د- ١٩٩٠ م)
- ٢٤٩- ما المنطقة التالية التي يضربها إعصار التيفون :
(أ- نهر المسيسيبي ب- كاليفورنيا ج- لويزيانا د- الهند)
- ٢٥٠- ما أكثر دول العالم إسهاماً في الغازات الدفينة المسببة للإحتباس الحراري :
(أ- فرنسا ب- ألمانيا ج- بريطانيا د- الولايات المتحدة الأمريكية)
- ٢٥١- أي من الدول التالية لم تشارك في مؤتمر مجموعة الدول الثمانية الكبرى عام ٢٠٠٥ م الذي عقد للحد من ظاهرة الإحتباس الحراري :
(أ- بريطانيا ب- ألمانيا ج- فرنسا د- الصين)

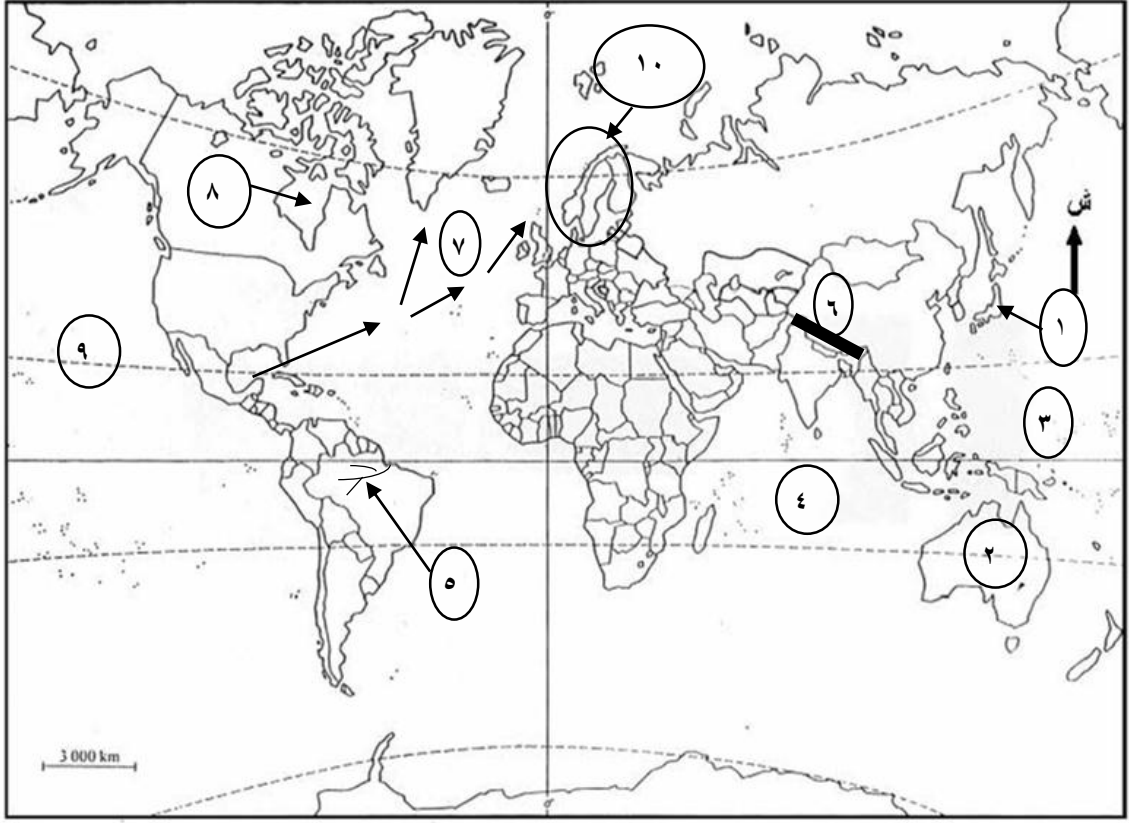
- ٢٥٢- أي من الدول التالية دخلت إلى عتبة التصنيع حديثاً :
 (أ- فرنسا ب- بريطانيا ج- ألمانيا د- البرازيل)
- ٢٥٣- أي من الدول التالية دخلت إلى عتبة التصنيع حديثاً :
 (أ- الصين ب- الهند ج- ألمانيا د- (أ+ب))
- ٢٥٤- ما نسبة ما تسهم به الولايات المتحدة الأمريكية من الغازات الدفينة المسببة للاحتباس الحراري :
 (أ- ١٠% ب- ١٥% ج- ٢٠% د- ٢٥%)
- ٢٥٥- متى عُقدت اتفاقية كيوتو للحد من الاحتباس الحراري :
 (أ- ١٩٩٧م ب- ٢٠٠٥م ج- ٢٠٠٧م د- ١٩٩٠م)
- ٢٥٦- أين تعرضت طبقة الأوزون للتآكل :
 (أ-القطب الشمالي ب- القطب الجنوبي ج- الولايات المتحدة الأمريكية د- اليابان)
- ٢٥٧- ما الطبقة التي تحمي سطح الأرض من الأشعة الشمسية الضارة :
 (أ-التروبوسفير ب- الأوزون ج- الستراتوسفير د- الميزوسفير)
- ٢٥٨- ما الطبقة الجوية تحدث فيها الظواهر المناخية المختلفة :
 (أ-التروبوسفير ب- الستراتوسفير ج- ميزوسفير د- ثيرموسفير)
- ٢٥٩- كم يبلغ ارتفاع طبقة الأوزون بالنسبة لسطح الأرض :
 (أ- ١٠-٥ كم ب- ١٥-١٠ كم ج- ٢٠-١٥ كم د- ٢٥-٢٠ كم)
- ٢٦٠- كيف تنتقل ظاهرة النينو في المياه الدافئة عبر المحيط الهادئ :
 (أ-التيارات المائية ب- التيارات الهوائية ج- المد د- الجزر)
- ٢٦١- ما المناطق التالية التي تشهد بها حدة التصحر :
 (أ-الجافة ب- الرطبة ج- شبه رطبة د- (أ+ج))
- ٢٦٢- ما درجة التصحر الذي يتمثل بظهور كثبان رملية صغيرة و تملح بسيط في التربة :
 (أ-الخفيف ب- المعتدل ج- الشديد د- الشديد جداً)
- ٢٦٣- ما درجة التصحر عندما تدهور إنتاجية الأرض بنسبة ٥٠% :
 (أ-الخفيف ب- المعتدل ج- الشديد د- الشديد جداً)
- ٢٦٤- ما درجة التصحر عندما تزحف الكثبان الرملية على الأراضي الزراعية :
 (أ-الخفيف ب- المعتدل ج- الشديد د- الشديد جداً)
- ٢٦٥- ما درجة التصحر الذي يتمثل بظهور نباتات غير مرغوب فيها :
 (أ-الخفيف ب-المعتدل ج-الشديد د-الشديد جداً)
- ٢٦٦- ما القارة الأكثر تعرضاً و معاناة للتصحر : (أ-آسيا ب- أفريقيا ج- أوروبا د- أمريكا الشمالية)
- ٢٦٧- ما القارة الأقل عرضة للتصحر : (أ- آسيا ب- أفريقيا ج- أوروبا د- أمريكا الجنوبية)
- ٢٦٨- أين يوجد إقليم دارفور: (أ- الصومال ب- السودان ج- اليمن د- الهند)
- ٢٦٩- في أي جهة من السودان يوجد إقليم دارفور : (أ- شرقها ب- غربها ج- شمالها د- جنوبها)
- ٢٧٠- أي من المناطق التالية أثرت عليها ظاهرة التصحر سياسياً :
 (أ- تنزانيا ب- إقليم دارفور ج- الصومال د- (ب + ج))

مدرسة : الزهراء الثانوية للبنات

إعداد المعلمة الفاضلة : أسماء عبد العظيم مشتهدى

اكتبي ما تشير إليه الأرقام في الخرائط التالية :

خريطة العالم رقم (١)



٤

وحدات سياسة :

- ٢

-١

مسطحات مائية :

-٣

-٤

نهر : -٥

سلسلة جبلية : -٦

تيار بحري : -٧

خليج : - ٨

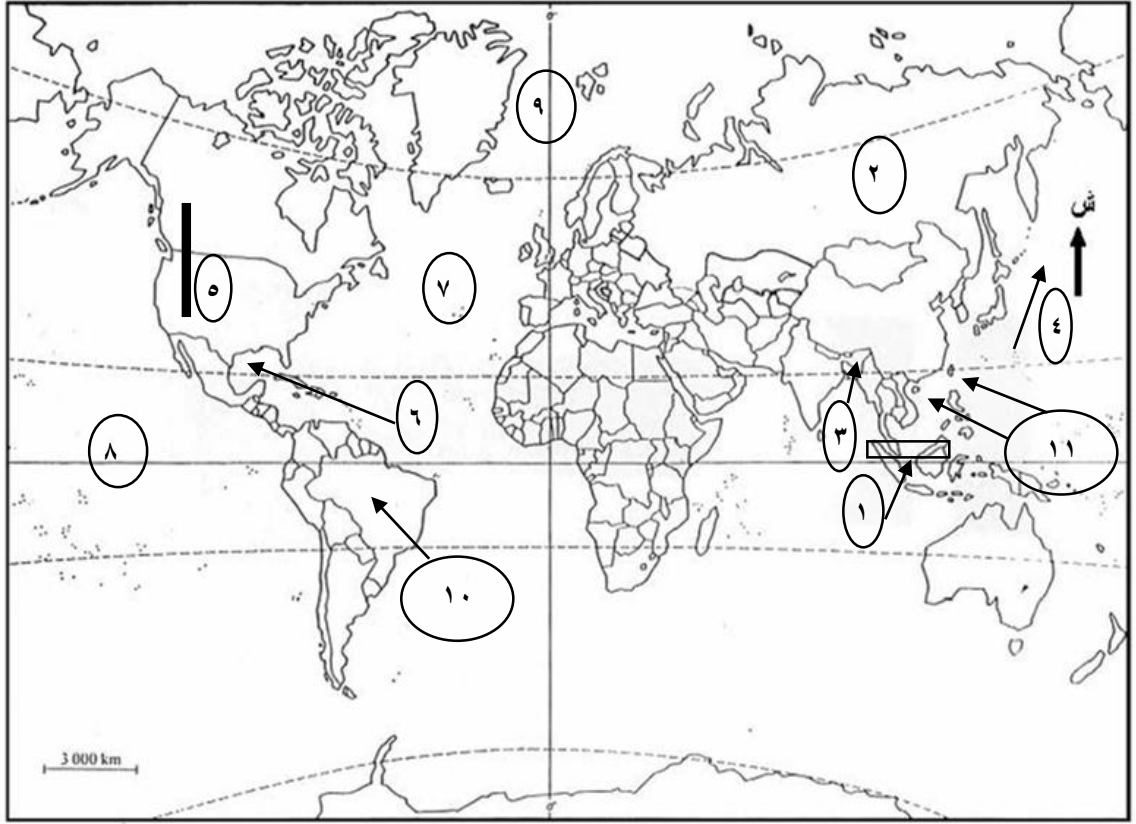
دائرة عرض : - ٩

شبه جزيرة (مجموعة دول) : - ١٠

مدرسة : الزهراء الثانوية للبنات

إعداد المعلمة الفاضلة : أسماء عبد العظيم مشتهدى

خريطة العالم رقم (٢) :



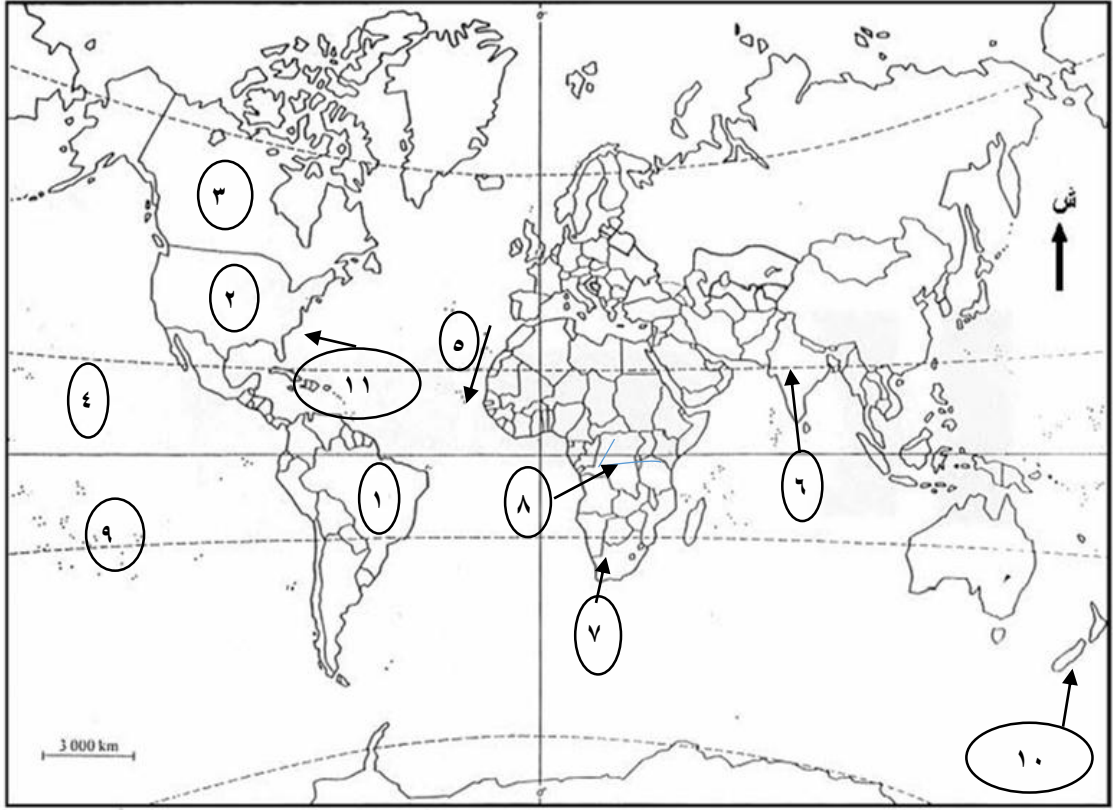
وحدات سياسية :

- ١-
- ٢-
- ٣-
- ٤- تيار بحري
- ٥- سلسلة جبلية
- ٦- خليج
- ٧- مسطح مائي
- ٨- دائرة عرض
- ٩- خط طول
- ١٠- هضبة
- ١١- إعصار

مدرسة : الزهراء الثانوية للبنات

إعداد المعلمة الفاضلة : أسماء عبد العظيم مشتهدى

خريطة العالم رقم : (٣)



٣٣

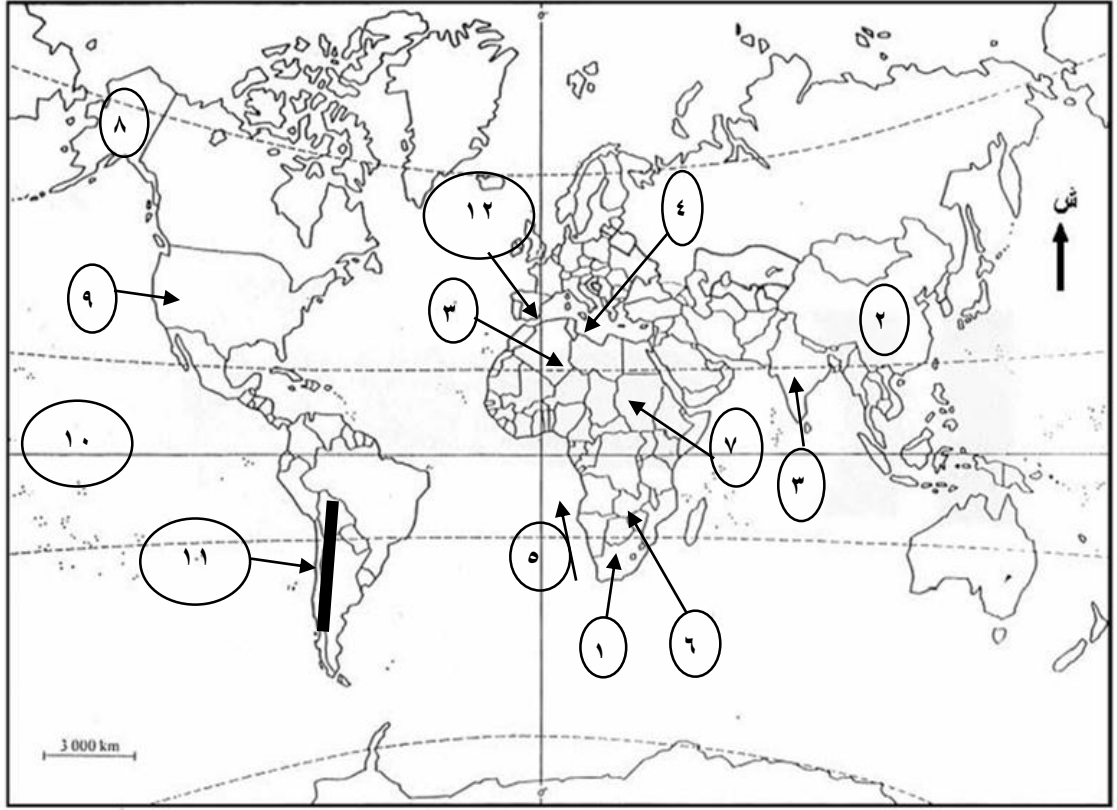
وحدات سياسية :

- ١
- ٢
- ٣
- ٤ : مسطح مائي
- ٥ : تيار بحري
- ٦ : هضبة
- ٧ : إقليم
- ٨ : نهر
- ٩ : دائرة عرض
- ١٠ : جزيرة
- ١١ : إعصار

مدرسة : الزهراء الثانوية للبنات

إعداد المعلمة الفاضلة : أسماء عبد العظيم مشتهدى

خريطة العالم رقم : (٤)



وحدات سياسية :

-١

-٣

-٢

مسطح مائي : -٤-

تيار بحري : -٥-

نهر : -٦-

إقليم : -٧-

ولاية : -٨-

-٩

دائرة عرض : -١٠-

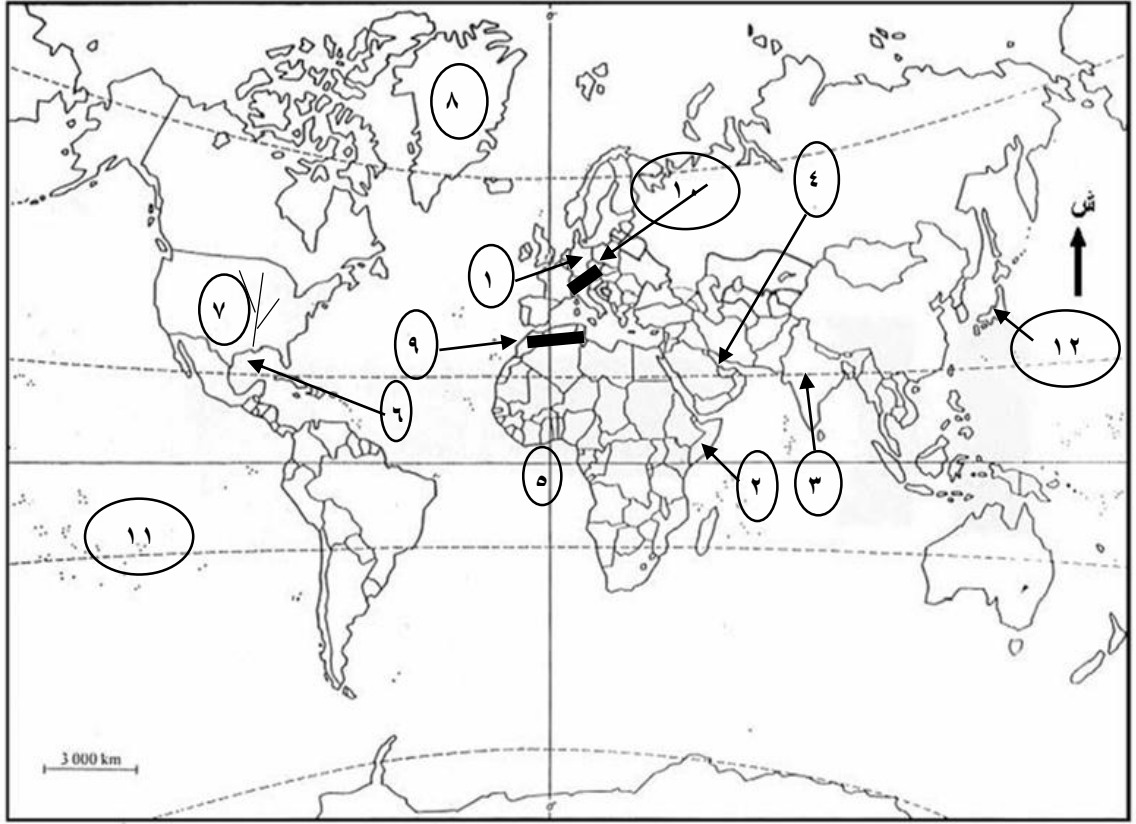
سلسلة جبلية : -١١-

جبل : -١٢-

مدرسة : الزهراء الثانوية للبنات

إعداد المعلمة الفاضلة : أسماء عبد العظيم مشتهدى

خريطة العالم رقم : (٥)



وحدات سياسية :

-١

-٢

-٣

خليج : ٤ -

-٥

إعصار : ٦-

نهر : ٧-

جزيرة : ٨-

- ١٠

سلسلة جبلية : ٩ -

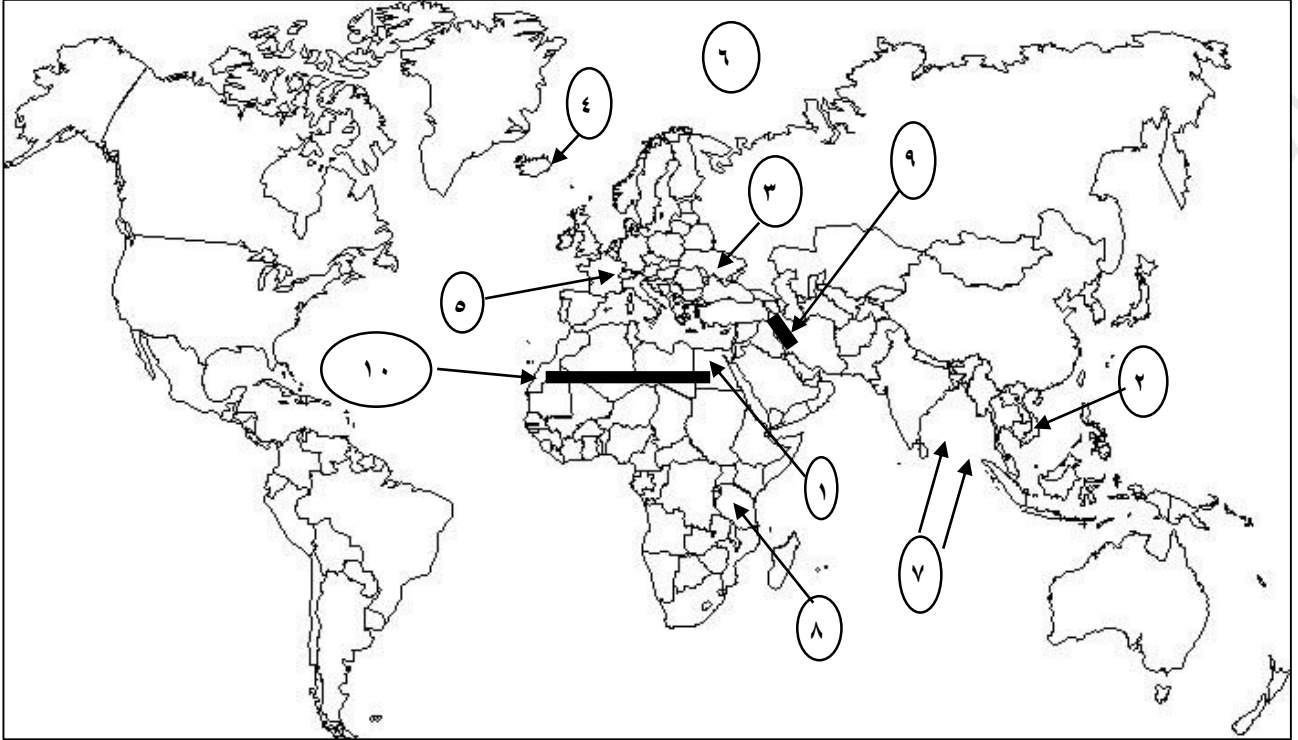
دائرة عرض : ١١-

بركان : ١٢ -

مدرسة : الزهراء الثانوية للبنات

إعداد المعلمة الفاضلة : أسماء عبد العظيم مشتهدى

خريطة العالم رقم : (٦)



وحدات سياسية :

- ١

- ٢

- ٣

- ٤

- ٥

مسطح مائي : ٦-

إعصار مداري : ٧ -

جبل : ٨ -

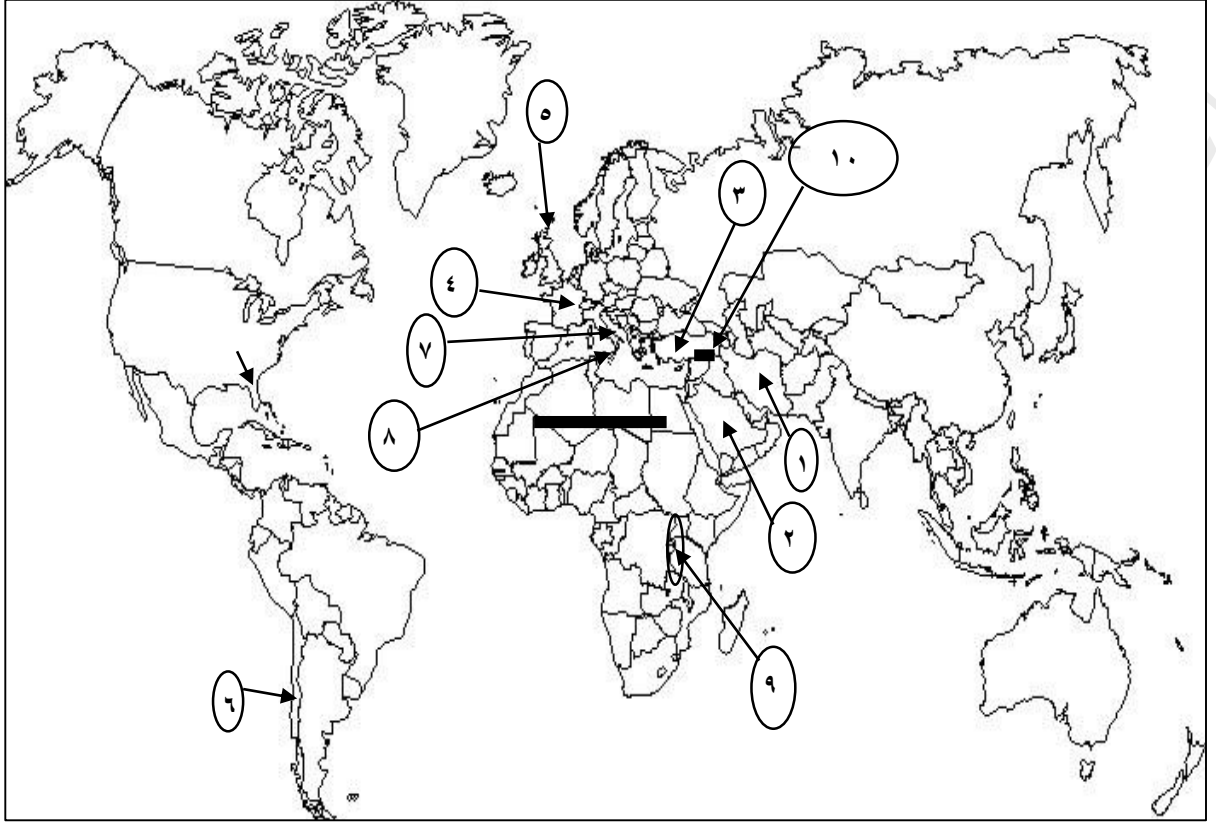
سلسلة جبلية : ٩ -

صحراء : ١٠ -

مدرسة : الزهراء الثانوية للبنات

إعداد المعلمة الفاضلة : أسماء عبد العظيم مشتهدى

خريطة العالم رقم : (٧)



وحدات سياسية :

- ١

- ٢

- ٣

- ٤

- ٥

- ٦

بركان : ٧ -

جزيرة : ٨ -

هضبة : ٩ -

سلسلة جبلية : ١٠ -



مدرسة الزهراء الثانوية للبنات

مادة تدريبية لمبحث الجغرافيا للثانوية العامة خاصة بالوحدتين
الرابعة و الخامسة و تحتوي على :



٢٠٢ سؤال اختيار من متعدد

١٠ نماذج تدريب على الخريطة

إعداد المعلمة :

أسماء عبد العظيم مشتهى

إشراف مديرة المدرسة :

أ . فريدة عبد الكريم الإسي

٢٠١٩ - ٢٠٢٠م

ليكن قلبك أرحب من مساحات العالم اهدم في أعماق روحك جميع
الحدود الجغرافية التي شيدتها أنانية البشر



للأمانة العلمية :
جميع أسئلة الاختيار من متعدد و نماذج الخرائط من إعدادي

المتقدمون



مجموعة المتقدمون



المتقدمون



@mtqdmn



موقع المتقدمون



اختاري الإجابة الصحيحة مما بين الأقواس:

- ١- ماذا يُطلق على الشخص الذي يترك مكان إقامته المعتاد إلى مكان آخر لهدف معين لمدة زمنية لا تقل عن ٢٤ ساعة و لا تزيد عن سنة ؟
(أ- الزائر ب-المتنزه ج-السائح د- المهاجر)
- ٢- أي من العلوم التالية مرتبطة بالجغرافيا السياحية و تدرس أعداد السياح القادمين و المغادرين ؟
(أ- الآثار ب- الإحصاء ج- الإقتصاد د- الطب)
- ٣- أي من العلوم التالية مرتبطة بالجغرافيا السياحية و تدرس حجم النفقات السياحية ؟
(أ- الآثار ب- الإحصاء ج- الإقتصاد د- الطب)
- ٤- أي من العلوم التالية مرتبطة بالجغرافيا السياحية و تدرس الطاقة الإستيعابية للفنادق ؟
(أ- الآثار ب- الإحصاء ج- الإقتصاد د- الطب)
- ٥- أي من العلوم التالية مرتبطة بالجغرافية السياحية و تدرس الأماكن الأثرية ؟
(أ- الآثار ب- الإقتصاد ج- الإحصاء د- الطب)
- ٦- ما نوع التنمية التي تسهم السياحة في تحقيقها ؟
(أ- الإجتماعية ب- الإقتصادية ج- السياسية د- البشرية)
- ٧- بَم تُصنّف ظاهرة السياحة : (أ-إنسانية ب- إجتماعية ج- سياسية د- (أ+ ب))
- ٨- لأصحاب أي دخل تزداد فكرة الرحلات السياحية الجماعية ؟
(أ- المرتفع ب- المحدود ج- المتوسط د- ب+ج)
- ٩- أي الجهات التالية في قارة أوروبا توجد فيها سواحل الريفيرا السياحية ؟
(أ- الشرقية ب- الغربية ج- الشمالية د- الجنوبية)
- ١٠- ما أكثر المناطق التي تزداد فيها أهمية المسطحات المائية كمناطق جاذبة للسياح ؟
(أ- الاستوائية و المدارية ب- المدارية و المعتدلة ج- المعتدلة و الدافئة د-المعتدلة و القطبية)
- ١١- ما النهر الذي تقع عليه شلالات فكتوريا؟ (أ- الأمازون ب- المسيسيبي ج- الزمبيزي د- النيل)
- ١٢- قُرب أي نهر توجد منطقة المغطس ؟ (أ- النيل ب- الأردن ج- دجلة د- الفرات)
- ١٣- ما القارة التي توجد بها شلالات فكتوريا ؟
(أ- آسيا ب- أفريقيا ج- أوروبا د- أمريكا الشمالية)
- ١٤- ما القارة التي توجد بها شلالات نياجارا ؟
(أ- آسيا ب- أفريقيا ج-أوروبا د- أمريكا الشمالية)
- ١٥- ما الدولة الحدودية مع الولايات الأمريكية و تقع بينهما شلالات نياجارا ؟
(أ- المكسيك ب- البرازيل ج- الأرجنتين د- كندا)
- ١٦- ما الدولة التي توجد بها حمامات ماعين ؟ (أ- مصر ب- الأردن ج- سوريا د- فلسطين)
- ١٧- ما الدولة التي توجد بها ينابيع حلوان ؟ (أ- سوريا ب- ايسلندا ج- مصر د- لبنان)
- ١٨- ما الجهة التي تقع فيها مغارة سوريك بالنسبة لمدينة القدس ؟
(أ- شمالها الشرقي ب- شمالها الغربي ج- جنوبها الشرقي د- جنوبها الغربي)
- ١٩- ما المدينة التي توجد صخرة الروشة قبالة سواحلها ؟
(أ- غزة ب- حيفا ج- عكا د- بيروت)
- ٢٠- ما الدولة التي توجد بها مغارة جعيتا ؟ (أ-سوريا ب- الأردن ج- لبنان د- فلسطين)
- ٢١- ما المدينة التي توجد بها مغارة سوريك : (أ- الناصرة ب- القدس ج- أريحا د- بيت لحم)
- ٢٢- ما الجهة التي تقع فيها مدينة القدس بالنسبة لمغارة سوريك ؟
(أ- شمالها الشرقي ب- شمالها الغربي ج- جنوبها الشرقي د- جنوبها الغربي)

- ٢٣- أي من الأمثلة التالية تعد مثلاً على الظواهر الجيومورفولوجية
(أ- المسلات ب- الأقواس الصخرية ج- الكهوف الكارستية د- جميع ما سبق)
- ٢٤- ما الدولة التي توجد بها آثار الحضارة البابلية ؟
(أ- مصر ب- اليونان ج- العراق د- فلسطين)
- ٢٥- ما الحضارة القديمة التي ما زالت آثارها موجودة في مصر ؟
(أ- الكنعانية ب- البابلية ج- الإغريقية د- الفرعونية)
- ٢٦- ما الدولة التي يوجد بها مركز الكنيسة الكاثوليكية ؟
(أ- فرنسا ب- إيطاليا ج- بريطانيا د- الفاتيكان)
- ٢٧- ما المدينة التي يوجد بها متحف اللوفر ؟ (أ- لندن ب- القاهرة ج- باريس د- دمشق)
- ٢٨- ما المتحف السياحي الموجود في لندن ؟ (أ- اللوفر ب- الشموع ج- الإسلامي د- الوطني)
- ٢٩- ما المدينة التي يوجد بها المتحف الوطني ؟ (أ- القاهرة ب- لندن ج- باريس د- القدس)
- ٣٠- ما المدينة التي يوجد بها متحف الشموع ؟ (أ- باريس ب- لندن ج- القاهرة د- بيروت)
- ٣١- ما الدولة التي يوجد بها جسر البسفور؟ (أ- فرنسا ب- إسبانيا ج- تركيا د- إيطاليا)
- ٣٢- ما الدولة التي يوجد بها برج بيزا المائل؟ (أ- فرنسا ب- ألمانيا ج- إيطاليا د- إسبانيا)
- ٣٣- ما الدولة التي يوجد بها السد العالي ؟ (أ- تركيا ب- مصر ج- ماليزيا د- فرنسا)
- ٣٤- أين يقع برج إيفل ؟ (أ- بريطانيا ب- إيطاليا ج- فرنسا د- إسبانيا)
- ٣٥- أين توجد جُزر النخيل ؟ (أ- الإمارات ب- ماليزيا ج- تركيا د- أستراليا)
- ٣٦- ما البرج السياحي الذي يوجد في مدينة باريس ؟
(أ- بيزا المائل ب- إيفل ج- خليفة د- الساعة)
- ٣٧- أين يوجد برج خليفة ؟ (أ- القاهرة ب- دبي ج- مصر د- تركيا)
- ٣٨- ما الدولة التي يوجد فيها مبنى الأوبرا ؟ (أ- إسبانيا ب- أستراليا ج- فرنسا د- ألمانيا)
- ٣٩- ما المعلم العمراني البارز الذي يوجد في أستراليا ؟
(أ- تمثال الحرية ب- مبنى الأوبرا ج- برج إيفل د- برج بيزا المائل)
- ٤٠- ما الإقليم السياحي الذي يأتي في المرتبة الأولى من حيث جذبته للسياح ؟
(أ- أوروبا ب- جنوب آسيا و شرقها ج- الأمريكتين د- أفريقيا)
- ٤١- من أشهر دول أوربا جذباً للسياح ؟ (أ- أوكرانيا ب- بولندا ج- السويد د- إيطاليا)
- ٤٢- من أشهر دول أوربا جذباً للسياح ؟ (أ- فرنسا ب- إسبانيا ج- إيطاليا د- جميع ما ذكر)
- ٤٣- أي من الدول التالية في جنوب آسيا و شرقها أكثر جذباً للسياح ؟
(أ- ماليزيا ب- بنغلادش ج- نيبال د- الفلبين)
- ٤٤- أي من الدول التالية في جنوب آسيا و شرقها أكثر جذباً للسياح ؟
(أ- ماليزيا ب- الصين ج- أندونيسيا د- جميع ما ذكر)
- ٤٥- ما الإقليم السياحي الذي يأتي في المرتبة الثانية من حيث جذبته للسياح ؟
(أ- أوروبا ب- جنوب آسيا و شرقها ج- الأمريكتين د- أفريقيا)
- ٤٦- ما الإقليم السياحي الذي يأتي في المرتبة الثالثة من حيث جذبته للسياح ؟
(أ- أوروبا ب- جنوب آسيا و شرقها ج- الأمريكتين د- أفريقيا)
- ٤٧- ما الإقليم السياحي الذي يأتي في المرتبة الرابعة من حيث جذبته للسياح ؟
(أ- أوروبا ب- جنوب آسيا و شرقها ج- الأمريكتين د- أفريقيا و الشرق الأوسط)
- ٤٨- أي من التالية تعتبر من أشهر الدول العربية المتقدمة في مجال السياحة العلاجية المتطورة ؟
(أ- سوريا ب- لبنان ج- الأردن د- فلسطين)
- ٤٩- ما الدولة التي توجد بها مدينة البتراء؟ (أ- مصر ب- الأردن ج- سوريا د- لبنان)

- ٥٠- ما المدينة الأثرية التي توجد في تونس ؟ (أ- البتراء ب- القيروان ج- فاس د- تدمر)
- ٥١- ما المدينة الأثرية التي توجد في سوريا ؟ (أ- البتراء ب- القيروان ج- فاس د- تدمر)
- ٥٢- ما المدينة الأثرية التي توجد في المغرب ؟ (أ- البتراء ب- القيروان ج- فاس د- تدمر)
- ٥٣- ما الدولة التي توجد بها مدينة القيروان ؟ (أ- تونس ب- الأردن ج- سوريا د- لبنان)
- ٥٤- ما المدينة التي توجد فيها كنيسة البشارة ؟ (أ- بيت لحم ب- القدس ج- الناصرة د- أريحا)
- ٥٥- ما المدينة التي توجد فيها كنيسة القيامة ؟ (أ- بيت لحم ب- القدس ج- الناصرة د- أريحا)
- ٥٦- ما المدينة التي توجد فيها كنيسة المهدي ؟ (أ- بيت لحم ب- القدس ج- الناصرة د- أريحا)
- ٥٧- أي من المدن التالية تنتمي إلى الحضارة العربية الإسلامية ؟
(أ- البتراء ب- تدمر ج- فاس د- بابل)
- ٥٨- أي من الحضارات التالية امتدت من أوروبا إلى الوطن العربي ؟
(أ- الكنعانية ب- البابلية ج- الفرعونية د- اليونانية)
- ٥٩- أين يوجد المسجد الحرام ؟ (أ- مكة ب- المدينة ج- الطائف د- الرياض)
- ٦٠- أين يوجد المسجد النبوي ؟ (أ- مكة ب- المدينة ج- الطائف د- الرياض)
- ٦١- أين يوجد المسجد النبوي و المسجد الحرام ؟ (أ- مصر ب- لبنان ج- سوريا د- السعودية)
- ٦٢- أي من المدن التالية تنتمي إلى حضارات العرب القديمة ؟
(أ- البتراء ب- القيروان ج- فاس د- بابل)
- ٦٣- ما الدولة الحدودية مع العراق و تفصل بينهما جبال زاغروس ؟
(أ- سوريا ب- تركيا ج- السعودية د- إيران)
- ٦٤- ما السلسلة الجبلية التي توجد في بلاد المغرب العربي ؟
(أ- الألب ب- زاغروس ج- أطلس د- طوروس)
- ٦٥- ما السلسلة الجبلية التي تفصل العراق عن إيران ؟
(أ- طوروس ب- زاغروس ج- أطلس د- البرانس)
- ٦٦- ما الدولة التي توجد بها واحة سيوة ؟ (أ- ليبيا ب- الجزائر ج- مصر د- سوريا)
- ٦٧- ما الدولة التي توجد فيها واحة الكفرة ؟ (أ- الجزائر ب- مصر ج- ليبيا د- الأردن)
- ٦٨- ما الواحة الموجودة في دولة الجزائر ؟ (أ- عين صالح ب- الكفرة ج- سيوة د- تدمر)
- ٦٩- أين يوجد مقر جامعة الدول العربية ؟ (أ- الجزائر ب- تونس ج- مصر د- الأردن)
- ٧٠- على أي بحر تطل أوكرانيا و رومانيا ؟ (أ- الأحمر ب- الأسود ج- قزوين د- الأبيض المتوسط)
- ٧١- أين توجد سلسلة جبال أطلس ؟
(أ- المغرب العربي ب- بلاد الشام ج- وسط أوروبا د- وسط آسيا)
- ٧٢- ما المرض الذي يتم الاستشفاء منه بزيارة أماكن طبيعية ؟
(أ- الروماتيزم ب- القلب ج- الأعصاب د- الرئتين)
- ٧٣- أي من أنواع السياحة التالية الهدف منها القيام برحلات بهدف الترويج لمنتجات الشركات ؟
(أ- المؤتمرات ب- العلاجية ج- الحوافز د- الرياضية)
- ٧٤- أي من الدول الأوروبية التالية هي الأكثر تطوراً في مجال السياحة العلاجية المتطورة ؟
(أ- بريطانيا ب- ألمانيا ج- فرنسا د- جميع ما سبق)
- ٧٥- أين يوجد مقر هيئة الأمم المتحدة ؟
(أ- كندا ب- بريطانيا ج- فرنسا د- الولايات المتحدة الأمريكية)
- ٧٦- أي من أنواع السياحة التالية هي الأكثر شيوعاً و انتشاراً ؟
(أ- التاريخية ب- الدينية ج- الترفيهية د- العلاجية)

- ٧٧- ما الدولة التي تشتهر بسياحة المؤتمرات ؟
(أ - مصر ب - الولايات المتحدة الأمريكية ج - العراق د - أ + ب)
- ٧٨- أي من المعوقات السياحية التالية تتمثل بتدني مستوى دخل المواطن العربي في الدول الغير نفطية ؟
(أ- السياسية ب- الإقتصادية ج- الإدارية د- الفنية)
- ٧٩- أي من المعوقات السياحية التالية يتمثل فيها ضعف التنسيق السياحي بين الدول العربية ؟
(أ- السياسية ب- الإقتصادية ج- الإجتماعية د- الفنية و الإدارية)
- ٨٠- ما الجهة التي قامت بتصنيف الأقاليم الجغرافية السياحية عام ٢٠١٦ م ؟
(أ-وزارة السياحة و الآثار الفلسطينية ب- المنظمة العربية للسياحة ج- منظمة السياحة العالمية د- المجلس العالمي للسفر و السياحة)
- ٨١- من الفيلسوف الذي رأى أن الدولة يجتمع فيها الناس من أجل وجودهم المادي و تحقيق السعادة ؟
(أ- ابن خلدون ب- أرسطو ج- أفلاطون د- سقراط)
- ٨٢- من الفيلسوف الذي رأى أن الدولة مؤسسة بشرية و وحدة سياسية و اجتماعية لا يمكن أن تقوم الحضارة إلا بها و هي دائمة التعرض للتبدل و التغيير ؟
(أ- أرسطو ب- أفلاطون ج- ابن خلدون د- سقراط)
- ٨٣- من الشخص الذي على يده تبلور مفهوم الجغرافيا السياسية ؟
(أ- راتزل ب- أرسطو ج- ابن خلدون د- الإدريسي)
- ٨٤- متى تبلور مفهوم الجغرافيا السياسية ؟ (أ-١٨٩٧ م ب-١٧٨٩ م ج-١٨٧٩ م د-١٩٨٧ م)
- ٨٥- ما جنسية العالم الجغرافي راتزل ؟ (أ- إيطالي ب- ألماني ج- فرنسي د- بريطاني)
- ٨٦- ماذا يُطلق على مجموعة القواعد الأساسية للدولة المعمول بها و التي تحدد نظام حكمها و تنظيم سلطاتها العامة ؟
(أ- السيادة ب- الاعتراف الدولي ج- الدستور د- المياه الإقليمية)
- ٨٧- ماذا يشمل الإقليم للدولة ؟ (أ- الأرض ب- الجو ج- المياه الإقليمية د- جميع ما سبق)
- ٨٨- ماذا يُطلق على شريط المياه البحرية الذي يمتد داخل مياه الدولة بمسافة ٢٢ كم ؟
(أ- السيادة ب- الاعتراف الدولي ج- الشعب د- المياه الإقليمية)
- ٨٩- كم تبلغ المسافة التي تمتد بها المياه الإقليمية داخل مياه الدولة المجاورة لأراضيها ؟
(أ- ٢٢ م ب- ٢٢ كم ج- ٢ كم د- ٣٥ كم)
- ٩٠- أي من مقومات الدولة التالية يشمل الأرض و الجو و المياه الإقليمية ؟
(أ- الشعب ب- الإقليم ج- السلطة السياسية د- السيادة)
- ٩١- أي من مقومات الدولة التالية تشمل السكان الذين يعيشون فيها و يحملون جنسيتها ؟
(أ- الإقليم ب- السيادة ج- الشعب د- السلطة السياسية)
- ٩٢- ما الدولة التي تشرف على البحر بواجهة بحرية واحدة ؟
(أ- فلسطين ب- سوريا ج- إيطاليا د- اليابان)
- ٩٣- ما الدولة التي تشرف على البحر بواجهتين ؟ (أ- مصر ب- الجزائر ج- إيطاليا د- البحرين)
- ٩٤- ما الدولة التي تشرف على البحر بثلاث واجهات بحرية (شبه جزيرة) ؟
(أ- مصر ب- فلسطين ج- إيطاليا د- سوريا)
- ٩٥- ما الدولة الجزرية التي تحيط بها المياه من جميع الجهات ؟
(أ-لبنان ب- سوريا ج- اليابان د- إيطاليا)
- ٩٦- أي من التالي لا تُصنف ضمن الدول الجزرية ؟
(أ-البحرين ب- اليابان ج- أندونيسيا د- إيطاليا)
- ٩٧- كم عدد الواجهات التي تُشرف بها فلسطين على البحر ؟

- ٩٨- (أ- واجهة بحرية ب- واجهتين ج- ثلاث واجهات د- جميع الجهات)
ما البحر الذي تشرف عليه إيران و هو ضعيف في أهميته بالنسبة لها ؟
(أ- الميت ب- قزوين ج- الأسود د- الأحمر)
- ٩٩- ما الدولة التالية التي تُصنف بأنها حبيسة ؟ (أ- إيران ب- كندا ج- الجزائر د- بوليفيا)
- ١٠٠- ما الدولة التالية التي تُصنف بأنها داخلية ؟ (أ- موريتانيا ب- المكسيك ج- البرازيل د- نيبال)
- ١٠١- أي من الدول التالية لا تُصنف بأنها حبيسة ؟ (أ- سويسرا ب- تشاد ج- نيبال د- موريتانيا)
- ١٠٢- أي من الدول التالية قليلة الجوار ؟ (أ- السعودية ب- الصين ج- المغرب د- البرازيل)
- ١٠٣- كم عدد الدول التي تحد المغرب ؟ (أ- دولة ب- دولتان ج- ثلاثة د- أربعة)
- ١٠٤- كم عدد الدول التي تحد الولايات المتحدة الأمريكية ؟
(أ- دولة ب- دولتان ج- ثلاثة د- أربعة)
- ١٠٥- أي من الدول التالية تحد المغرب ؟ (أ- مصر ب- موريتانيا ج- السودان د- أثيوبيا)
- ١٠٦- كم عدد الدول التي تحد الصين ؟ (أ- ٥ ب- ١٠ ج- ١٥ د- ٢٠) دولة
- ١٠٧- كم عدد الدول التي تحد البرازيل ؟ (أ- ٥ ب- ١٠ ج- ١٥ د- ٢٠) دولة
- ١٠٨- كم عدد الدول التي تحد تشاد ؟ (أ- ٥ ب- ٦ ج- ٧ د- ٨) دولة
- ١٠٩- كم عدد الدول التي تحد منغوليا ؟ (أ- ٤ ب- ٦ ج- ٧ د- ٨) دولة
- ١١٠- أي من الدول التالية ذات مساحة كبيرة جداً ؟ (أ- البحرين ب- العراق ج- بريطانيا د- الهند)
- ١١١- ماذا تُصنف مساحة الدول التي تتراوح مساحتها من نصف مليون إلى ٢.٥ مليون كم ٢ ؟
(أ- كبيرة جداً ب- كبيرة ج- متوسطة د- صغيرة)
- ١١٢- أي من الدول التالية ذات مساحة متوسطة ؟ (أ- الجزائر ب- مصر ج- السودان د- العراق)
- ١١٣- أي من الدول التالية ذات مساحة صغيرة ؟ (أ- البحرين ب- الفاتيكان ج- سان مارينو د- لبنان)
- ١١٤- ما تصنيف الدول التي مساحتها أقل من عشرة آلاف كم ٢ ؟
(أ- كبيرة ب- متوسطة ج- صغيرة د- صغيرة جداً)
- ١١٥- ما تصنيف الدول مساحة الدول التي مساحتها تتراوح من مئة ألف إلى نصف مليون كم ٢ ؟
(أ- كبيرة ب- متوسطة ج- صغيرة د- صغيرة جداً)
- ١١٦- ماذا يُطلق على شكل الدولة الذي تكون فيه المسافة من وسط الدولة إلى أطرافها متساوية تقريباً ؟
(أ- الطولي ب- المجزأ ج- البحري د- المندمج)
- ١١٧- ما الدولة التي شكلها شبه منتظم (مندمج) ؟ (أ- تركيا ب- منغوليا ج- تشيلي د- مصر)
- ١١٨- ما الشكل الذي يأخذه الشكل الطولي للدولة ؟ (أ-مربع ب- دائرة ج- مستطيل د- سداسي)
- ١١٩- ما الدولة التي شكلها مندمج ؟ (أ- ماليزيا ب- إيطاليا ج- تركيا د- بلجيكا)
- ١٢٠- ما الدولة التي شكلها طولي من الشمال إلى الجنوب ؟
(أ- تشيلي ب- منغوليا ج- مصر د- تركيا)
- ١٢١- أي من الدول التالية لا تنتمي إلى الدول ذات الشكل الطولي من الشمال إلى الجنوب ؟
(أ- فلسطين ب- تشيلي ج- السويد د- منغوليا)
- ١٢٢- ما الدولة التي شكلها طولي من الشرق إلى الغرب ؟
(أ-فلسطين ب- تشيلي ج- السويد د- تركيا)
- ١٢٣- ماذا يُطلق على الشكل الذي تكون فيه أراضي الدولة غير متصلة جغرافياً ؟
(أ-شبه المنتظم ب- المنتظم ج- الطولي د- المجزأ)
- ١٢٤- أي من الدول التالية بحرية مجزأة ؟ (أ- اليابان ب- إيطاليا ج- كندا د- ماليزيا)
- ١٢٥- أي من الدول التالية جزرية ؟ (أ- جزر القمر ب- ماليزيا ج- إيطاليا د- كندا)

- ١٢٦- ما الدولة التي لا تصنف بأنها بحرية مجزأة ؟
(أ- جزر القمر ب- اليابان ج- أندونيسيا د- إيطاليا)
- ١٢٧- أي من الدول التالية برية مجزأة ؟ (أ- ألاسكا ب- كندا ج- بريطانيا د- ألمانيا)
- ١٢٨- أي من الدول التالية برية بحرية مجزأة ؟
(أ- الولايات المتحدة الأمريكية ب- كندا ج- ألاسكا د- ماليزيا)
- ١٢٩- بمُ تُصنف أندونيسيا ؟ (أ- جزرية ب- برية مجزأة ج- برية بحرية مجزأة د- طولية الشكل)
- ١٣٠- أي من الأشكال التالية للدولة لا تتبع التصنيف حسب الشكل العام ؟
(أ- المندمج ب- الطولي ج- الجزأ د- الاتحادي اللامركزي)
- ١٣١- ماذا يُطلق على الدولة التي توجد فيها حكومة واحدة و يتجانس سكانها عرقياً و دينياً و ثقافياً ؟
(أ-الموحدة المركزية ب- الاتحادية الفيدرالية ج- الاتحادية الكنفدرالية د- المجزأة)
- ١٣٢- أي من الدول التالية موحدة مركزية ؟ (أ- البرازيل ب- الهند ج- ليبيا د- بريطانيا)
- ١٣٣- ما نوع التركيب السياسي للدولة الذي يتكون من ولايات أو مقاطعات ؟
(أ-الموحدة المركزية ب- الاتحادية الفيدرالية ج- الاتحادية الكنفدرالية د- المجزأة)
- ١٣٤- أي من الدول التالية ليست مثال على الدول الموحدة المركزية ؟
(أ-الهند ب-فرنسا ج-مصر د-السعودية)
- ١٣٥- ما نوع التركيب السياسي للدول ذات المساحة الواسعة و المتباينة في أصول سكانها و لغاتهم و ثقافتهم ؟
(أ-الموحدة المركزية ب- الاتحادية الفيدرالية ج- الاتحادية الكنفدرالية د- المندمجة)
- ١٣٦- أي من الدول التالية ليست اتحادية فيدرالية ؟
(أ-البرازيل ب- الهند ج- ليبيا د- الولايات المتحدة الأمريكية)
- ١٣٧- ما الدولة التالية التي تركيبها السياسي اتحادي فيدرالي ؟
(أ-الولايات المتحدة الأمريكية ب- الإمارات ج- فرنسا د- مصر)
- ١٣٨- ما الاتحاد الذي يعتبر الأقل شيوعاً و استمرارية في العالم ؟
(أ-المركزي ب- الفيدرالي ج- الكنفدرالي د- الموحد المركزي)
- ١٣٩- ماذا يُطلق على الخطوط التي تمثل الشكل العام للدولة و مساحتها على الخريطة ؟
(أ-الأسوار ب- القلاع ج- الثغور د- الحدود السياسية)
- ١٤٠- ما النهر الحدودي الذي يفصل بين البرازيل و الأرجنتين و باراغواي ؟
(أ- النيل ب- الأمازون ج- الزمبيزي د- بارانا)
- ١٤١- ما الدولة الحدودية التي يفصلها نهر بارانا عن البرازيل و باراغواي ؟
(أ- بوليفيا ب- الأرجنتين ج- فنزويلا د- أوراغواي)
- ١٤٢- ما السلسلة الجبلية التي تفصل بين دولتي أسبانيا و فرنسا ؟
(أ- الهيمالايا ب- الألب ج- الروكي د- البرانس)
- ١٤٣- ما الدولة التي تفصلها سلسلة جبال البرانس عن اسبانيا ؟
(أ- البرتغال ب- بريطانيا ج- فرنسا د- إيطاليا)
- ١٤٤- ما الجبال الحدودية التي تقع عليها إمارة أندورا ؟ (أ-الأنديز ب- الهيمالايا ج- البرانس د- الألب)
- ١٤٥- ما السلسلة الجبلية الفاصلة بين الأرجنتين و تشيلي ؟
(أ- الهيمالايا ب- الألب ج- الروكي د- الأنديز)
- ١٤٦- ما الدولة التي تفصلها جبال الأنديز عن الأرجنتين ؟
(أ- بوليفيا ب- تشيلي ج- كولومبيا د- الإكوادور)

- ١٤٧- ما نوع الحدود الطبيعية التي تشرف على مسطحات مائية و تتمثل بالحد الذي يُمثل المياه الإقليمية للدولة ؟
(أ- السياسية ب- الجبلية ج- البحرية د- النهرية)
- ١٤٨- ما نوع الحدود التي يتوافق امتدادها مع المظاهر الطبيعية ؟
(أ-السياسية ب- السياسية الطبيعية ج- السياسية الصناعية د- الثغور)
- ١٤٩- ماذا تسمى الحدود التي تُرسم على الخرائط بخطوط هندسية و توقع على الأرض بإشارات و أسلاك شانكة ؟
(أ-السياسية ب- السياسية الطبيعية ج- السياسية الصناعية د- القلاع)
- ١٥٠- ما الساحل الذي تقع عليه مدينتا سبتة و مليلة و تشرفان من خلاله على البحر المتوسط ؟
(أ-التونسي ب- الجزائري ج- المغربي د- الليبي)
- ١٥١- على أي مدخل للبحر المتوسط تشرف مدينتا سبتة و مليلة المغربيتين؟
(أ-الشرقي ب- الغربي ج- الشمالي د- الجنوبي)
- ١٥٢- ما الدولة المستعمرة لمنطقتي سبتة و مليلة المغربيتين ؟
(أ- إسبانيا ب- أستراليا ج- روسيا د- بريطانيا)
- ١٥٣- ما البحر الذي تشرف عليه مدينتا سبتة و مليلة ؟
(أ-الأحمر ب- الأسود ج- المتوسط د- الخليج العربي)
- ١٥٤- ما الدولة التي تقع جنوبها مُستعمرة جبل طارق ؟
(أ- بريطانيا ب- فرنسا ج- إسبانيا د- المغرب)
- ١٥٥- ما الجهة التي تقع فيها مستعمرة جبل طارق بالنسبة لإسبانيا ؟
(أ-الشرقية ب- الغربية ج- الجنوبية د- الشمالية)
- ١٥٦- ما المسطح المائي الذي تُشرف عليه مستعمرة جبل طارق ؟
(أ-خليج المكسيك ب- خليج هدسون ج- مضيق جبل طارق د- البحر الأحمر)
- ١٥٧- ما الدولة التي تحتل مستعمرة جبل طارق ؟ (أ- إسبانيا ب- بريطانيا ج- فرنسا د- إيطاليا)
- ١٥٨- ما المضيق الذي يصل البحر المتوسط بالمحيط الأطلسي ؟
(أ- بيرنج ب- هرمز ج- جبل طارق د- البسفور)
- ١٥٩- ما الدولة التي بينها و بين الهند خلاف على منطقة كشمير الجبلية ؟
(أ- أفغانستان ب- باكستان ج- طاجكستان د- تركمنستان)
- ١٦٠- ما نوع التقسيم الذي على أساسه قامت بريطانيا بتقسيم شبه القارة الهندية ؟
(أ- حسب اللغة ب- حسب الثقافة ج- حسب الديانة د- حسب العادات)
- ١٦١- بمَ تتميز منطقة كشمير ؟ (أ- سهلية ب- جبلية ج- هضبية د- بحرية)
- ١٦٢- ما الديانة السائدة في كشمير ؟ (أ- الإسلامية ب- الهندوسية ج- المسيحية د- اليهودية)
- ١٦٣- كم شكل القسم الذي ضمته الأمم المتحدة من كشمير إلى الإدارة الهندية ؟
(أ-النصف ب- الثلث ج- الربع د- الثلثين)
- ١٦٤- أي من المناطق التالية عليها مشكلة حدودية بين المغرب و الجزائر ؟
(أ-تندوف ب- دارفور ج- بشار د- (أ+ج))
- ١٦٥- متى نشأت مشكلة الحدود الجنوبية بين المغرب و الجزائر ؟
(أ-١٩٣٦ م ب-١٩٦٣ م ج-١٦٣٩ م د-١٩٨٦ م)
- ١٦٦- ما الدولة الأكثر استقلالية في نصيبها من مياه نهر لنا ؟
(أ- العراق ب- مصر ج- روسيا د- تركيا)
- ١٦٧- ما أطول نهر في العالم ؟ (أ- الأمازون ب- الزمبيزي ج- النيل د- المسيسيبي)

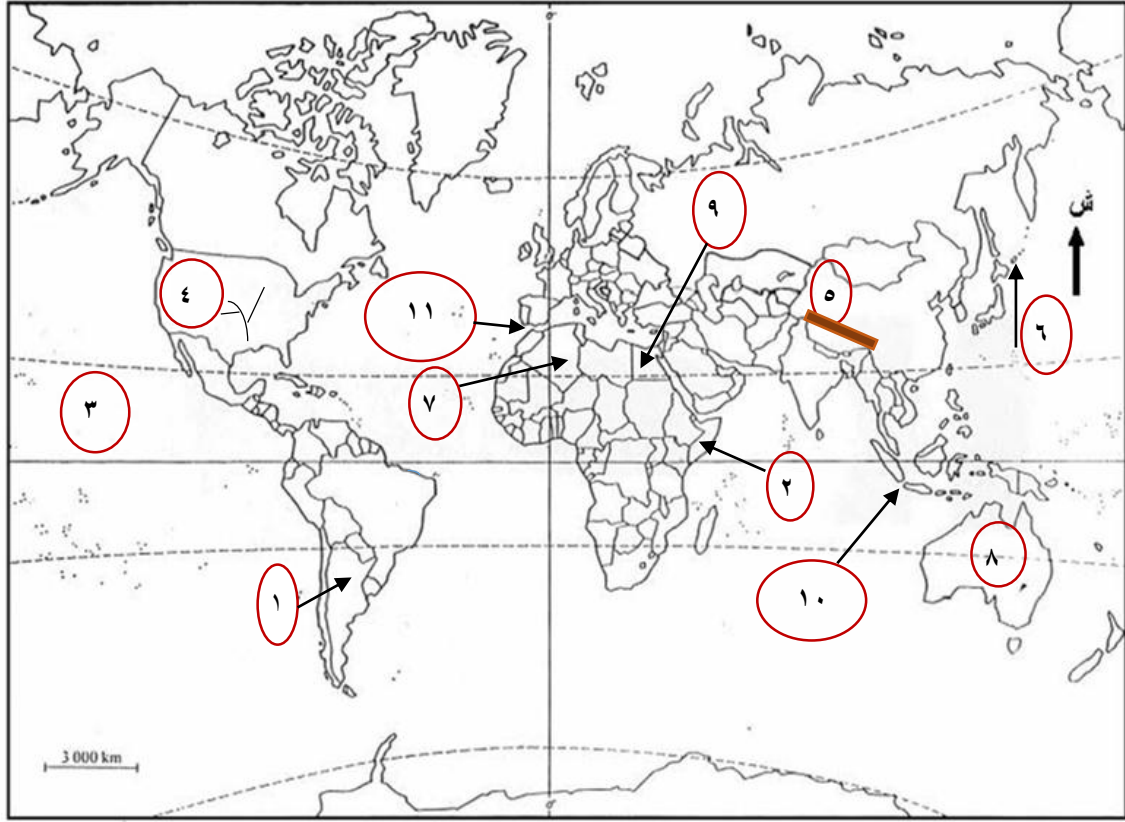
- ١٦٨- كم يبلغ طول نهر النيل؟ (أ- ٨٦٥٣ كم ب- ٦٨٥٣ كم ج- ٦٨٥٣ م د- ٣٦٨٥ كم)
- ١٦٩- أي من البحار التالية يصب فيها نهر النيل؟ (أ- الأحمر ب- الأسود ج- المتوسط د- بحر العرب)
- ١٧٠- أي من الهضاب التالية ينبع منها نهر النيل؟
(أ- الدكن ب- الحبشة ج- البحيرات الإستوائية د- (ب+ج))
- ١٧١- كم عدد الدول المشتركة في نهر النيل؟ (أ- ٨ ب- ٩ ج- ١٠ د- ١١)
- ١٧٢- أي من الدول التالية لا يمر فيها نهر النيل؟ (أ- مصر ب- السودان ج- أريتريا د- الصومال)
- ١٧٣- أين توجد هضبة الأناضول؟ (أ- الهند ب- أثيوبيا ج- تركيا د- سوريا)
- ١٧٤- ما المنطقة القريبة من البصرة و يلتقي عندها نهر دجلة و الفرات؟
(أ- الكرمة ب- كربلاء ج- بغداد د- النجف)
- ١٧٥- ما المسطح المائي الذي يصب فيه نهر دجلة و الفرات بعد التقائهما في شط العرب؟
(أ- البحر الأحمر ب- البحر المتوسط ج- الخليج العربي د- بحر العرب)
- ١٧٦- أي من المدن التالية تقع قربها منطقة الكرمة العراقية؟
(أ- النجف ب- كربلاء ج- البصرة د- بغداد)
- ١٧٧- ما النهر الذي يوجد عليه سد أتاتورك؟ (أ- دجلة ب- الفرات ج- النيل د- بارانا)
- ١٧٨- ما النهر الذي يوجد عليه سد الأسد؟ (أ- الفرات ب- دجلة ج- بارانا د- الأردن)
- ١٧٩- أين يوجد سد أتاتورك؟ (أ- سوريا ب- تركيا ج- مصر د- العراق)
- ١٨٠- ما السلسلة الجبلية التي تفصل سوريا عن تركيا؟
(أ- زاغروس ب- طوروس ج- أطلس د- الهيماليا)
- ١٨١- أي مما يأتي يعتبر منبع لنهري دجلة و الفرات؟
(أ- هضبة الأناضول ب- جبال طوروس ج- جبال زاغروس د- (أ+ب))
- ١٨٢- أي من الدول التالية تعتبر دول منبع لنهر النيل؟
(أ- السودان ب- جنوب السودان ج- أثيوبيا د- مصر)
- ١٨٣- أي من الدول التالية تعتبر دول منبع لنهري دجلة و الفرات؟
(أ- العراق ب- إيران ج- السعودية د- تركيا)
- ١٨٤- أي من الدول التالية تعتبر دول مصب لنهري دجلة و الفرات؟
(أ- العراق ب- تركيا ج- سوريا د- الكويت)
- ١٨٥- أي من الدول التالية تعتبر دول مصب لنهر النيل؟
(أ- أثيوبيا ب- أوغندا ج- تنزانيا د- مصر)
- ١٨٦- ما الدولة التي يوجد بها سد الأسد؟ (أ- تركيا ب- العراق ج- سوريا د- الأردن)
- ١٨٧- أي من سفوح الجبال التالية ينبع منها نهر الأردن؟
(أ- كلمنجاو ب- الشيخ ج- أطلس د- الجرمق)
- ١٨٨- ما الدولة التي يوجد بها نهر بانياس؟ (أ- لبنان ب- سوريا ج- الأردن د- فلسطين)
- ١٨٩- ما النهر التالي الموجود في لبنان؟ (أ- بانياس ب- الأردن ج- الحاصباني د- اليرموك)
- ١٩٠- ما المنطقة التي نقلت إليها إسرائيل المياه من نهر الأردن عام ١٩٦٤ م في مشروعها ناقل المياه القطري؟
(أ- أريحا ب- الأغوار ج- الخليل د- النقب)
- ١٩١- أي من الأودية التالية موجودة في فلسطين؟ (أ- جالود ب- الفارعة ج- القلظ د- جميع ما ذكر)
- ١٩٢- أين يصب نهر الأردن في مجراه الجنوبي؟
(أ- البحر المتوسط ب- خليج العقبة ج- وادي عربة د- البحر الميت)

- ١٩٣- أين يصب نهر الأردن في مجراه العلوي ؟
(أ- البحر الميت ب- نهر الأردن ج- بحيرة طبرية د- وادي عربة)
- ١٩٤- ما الدولة التي يوجد فيها نهر الليطاني و الذي حاول الاحتلال الصهيوني السيطرة عليه ؟
(أ- سوريا ب- لبنان ج- فلسطين د- الأردن)
- ١٩٥- ما دول المصب التي تأثرت سلباً بسبب إقامة السدود على نهر النيل ؟
(أ- أثيوبيا ب- مصر ج- السودان د- (ب+ج))
- ١٩٦- ما دولة المصب التي تأثرت سلباً في مواردها المائية بسبب إقامة السدود على نهر الفرات ؟
(أ- تركيا ب- سوريا ج- العراق د- مصر)
- ١٩٧- أي من الأنهار التالية يوجد في روسيا ؟ (أ- لينا ب- الفرات ج- دجلة د- النيل)
- ١٩٨- أين يصب نهر لينا ؟
(أ- البحر المتوسط ب- الخليج العربي ج- البحر الميت د- المحيط المتجمد الشمالي)
- ١٩٩- أي المنابع التالية ينبع منها نهر لينا في روسيا ؟
(أ- هضبة الحبشة ب- هضبة البحيرات الإستوائية ج- هضبة الأناضول د- جبال بايكال)
- ٢٠٠- أي من الدول التالية مثال على الدول الاتحادية الكنفدرالية ؟
(أ - الهند ب - البرازيل ج - الإمارات العربية المتحدة د - ليبيا)
- ٢٠١- أي من المسطحات المائية التالية لا يُشرف عليها الوطن العربي ؟
(أ - المحيط الهادئ ب - المحيط الأطلسي ج - المحيط الهندي د - البحر المتوسط)
- ٢٠٢- ما القارة التي يوجد بها جبال الروكي ؟
(أ - آسيا ب - أفريقيا ج - أوروبا د - أمريكا الشمالية)

إجابات أسئلة اختيار من متعدد

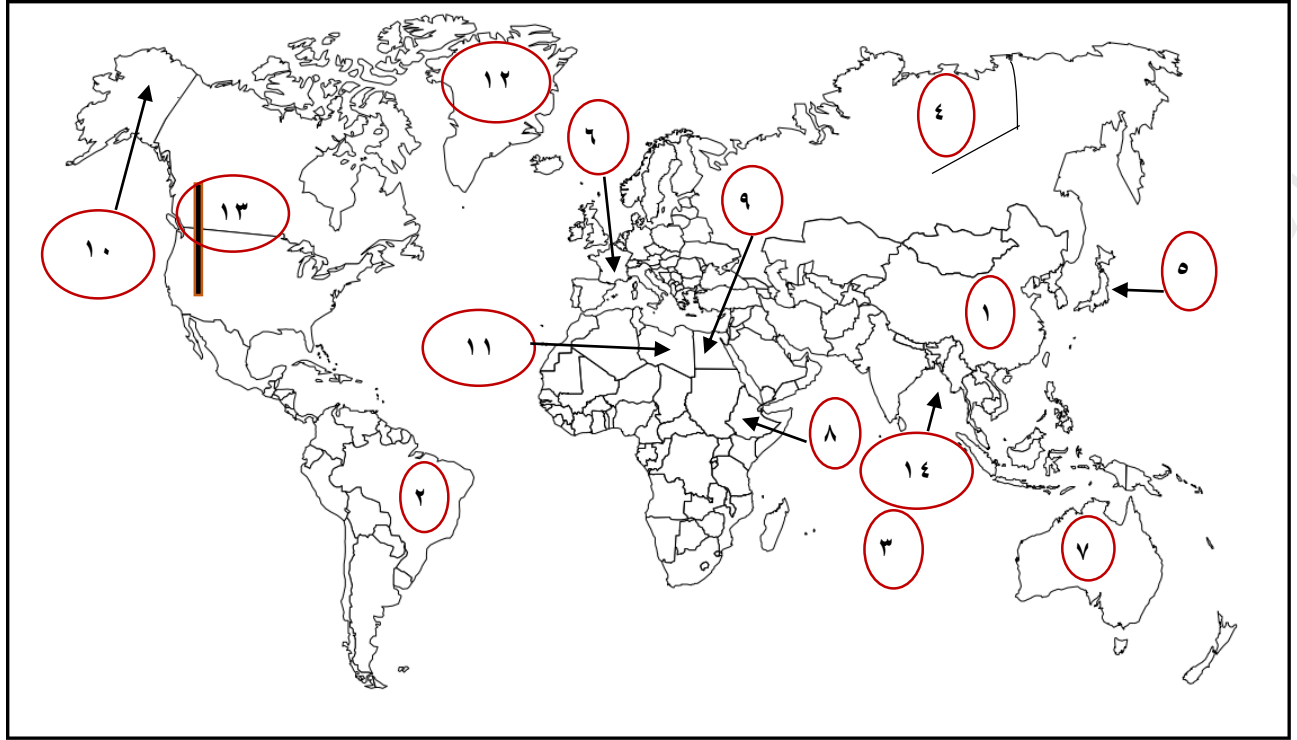
ب - ١٦٥	أ - ١٢٤	أ - ٨٣	د - ٤٢	ج - ١
ج - ١٦٦	أ - ١٢٥	أ - ٨٤	أ - ٤٣	ب - ٢
ج - ١٦٧	د - ١٢٦	ب - ٨٥	د - ٤٤	ب - ٣
ب - ١٦٨	أ - ١٢٧	ج - ٨٦	ب - ٤٥	ب - ٤
ج - ١٦٩	د - ١٢٨	د - ٨٧	ج - ٤٦	أ - ٥
د - ١٧٠	أ - ١٢٩	د - ٨٨	د - ٤٧	ب - ٦
د - ١٧١	د - ١٣٠	ب - ٨٩	ج - ٤٨	د - ٧
د - ١٧٢	أ - ١٣١	ب - ٩٠	ب - ٤٩	د - ٨
ج - ١٧٣	ج - ١٣٢	ج - ٩١	ب - ٥٠	د - ٩
أ - ١٧٤	ب - ١٣٣	ب - ٩٢	د - ٥١	ج - ١٠
ج - ١٧٥	أ - ١٣٤	أ - ٩٣	ج - ٥٢	ج - ١١
ج - ١٧٦	ب - ١٣٥	ج - ٩٤	أ - ٥٣	ب - ١٢
ب - ١٧٧	ج - ١٣٦	ج - ٩٥	ج - ٥٤	ب - ١٣
أ - ١٧٨	أ - ١٣٧	د - ٩٦	ب - ٥٥	د - ١٤
ب - ١٧٩	ج - ١٣٨	ب - ٩٧	أ - ٥٦	د - ١٥
ب - ١٨٠	د - ١٣٩	ب - ٩٨	ج - ٥٧	ب - ١٦
د - ١٨١	د - ١٤٠	د - ٩٩	د - ٥٨	ج - ١٧
ج - ١٨٢	ب - ١٤١	د - ١٠٠	أ - ٥٩	د - ١٨
د - ١٨٣	د - ١٤٢	د - ١٠١	ب - ٦٠	د - ١٩
أ - ١٨٤	ج - ١٤٣	ج - ١٠٢	د - ٦١	ج - ٢٠
د - ١٨٥	ج - ١٤٤	ب - ١٠٣	د - ٦٢	ب - ٢١
ج - ١٨٦	د - ١٤٥	ب - ١٠٤	د - ٦٣	أ - ٢٢
ب - ١٨٧	ب - ١٤٦	ب - ١٠٥	ج - ٦٤	د - ٢٣
ب - ١٨٨	ج - ١٤٧	ج - ١٠٦	ب - ٦٥	ج - ٢٤
ج - ١٨٩	ب - ١٤٨	ب - ١٠٧	ج - ٦٦	د - ٢٥
د - ١٩٠	ج - ١٤٩	ب - ١٠٨	ج - ٦٧	د - ٢٦
د - ١٩١	ج - ١٥٠	أ - ١٠٩	أ - ٦٨	ج - ٢٧
د - ١٩٢	ب - ١٥١	د - ١١٠	ج - ٦٩	ب - ٢٨
ج - ١٩٣	أ - ١٥٢	ب - ١١١	ب - ٧٠	أ - ٢٩
ب - ١٩٤	ج - ١٥٣	د - ١١٢	أ - ٧١	ب - ٣٠
د - ١٩٥	ج - ١٥٤	د - ١١٣	أ - ٧٢	ج - ٣١
ج - ١٩٦	ج - ١٥٥	د - ١١٤	ج - ٧٣	ج - ٣٢
أ - ١٩٧	ج - ١٥٦	ب - ١١٥	د - ٧٤	ب - ٣٣
د - ١٩٨	ب - ١٥٧	د - ١١٦	د - ٧٥	ج - ٣٤
د - ١٩٩	ج - ١٥٨	د - ١١٧	ج - ٧٦	أ - ٣٥
ج - ٢٠٠	ب - ١٥٩	ج - ١١٨	د - ٧٧	ب - ٣٦
أ - ٢٠١	ج - ١٦٠	د - ١١٩	ب - ٧٨	ب - ٣٧
د - ٢٠٢	ب - ١٦١	أ - ١٢٠	د - ٧٩	ب - ٣٨
	أ - ١٦٢	د - ١٢١	ج - ٨٠	ب - ٣٩
	د - ١٦٣	د - ١٢٢	ب - ٨١	أ - ٤٠
	د - ١٦٤	د - ١٢٣	ج - ٨٢	د - ٤١

اكتبي ما تشير إليه الأرقام في الخرائط التالية : (الخرائط تقريباً تشمل بيانات من كل وحدات المنهاج)
خريطة العالم رقم (١) :



- ١- وحدات سياسة :
- ٢-
- ٣- مسطحات مائية :
- ٤- نهر :
- ٥- سلسلة جبلية :
- ٦- تيار بحري :
- ٧- واحة :
- ٨- معلم عمراني بارز :
- ٩- متحف سياحي :
- ١٠- دولة بحرية مجزأة :
- ١١- مضيق :

خريطة العالم رقم (٢) :



وحدات سياسية : ١ -

-٢

مسطح مائي : ٣ -

نهر : ٤ -

دولة جزرية : ٥ -

اسم متحف سياحي : ٦ -

صحراء : ٧ -

هضبة : ٨ -

ينابيع مياه معدنية : ٩ -

دولة برية مُجزأة : ١٠ -

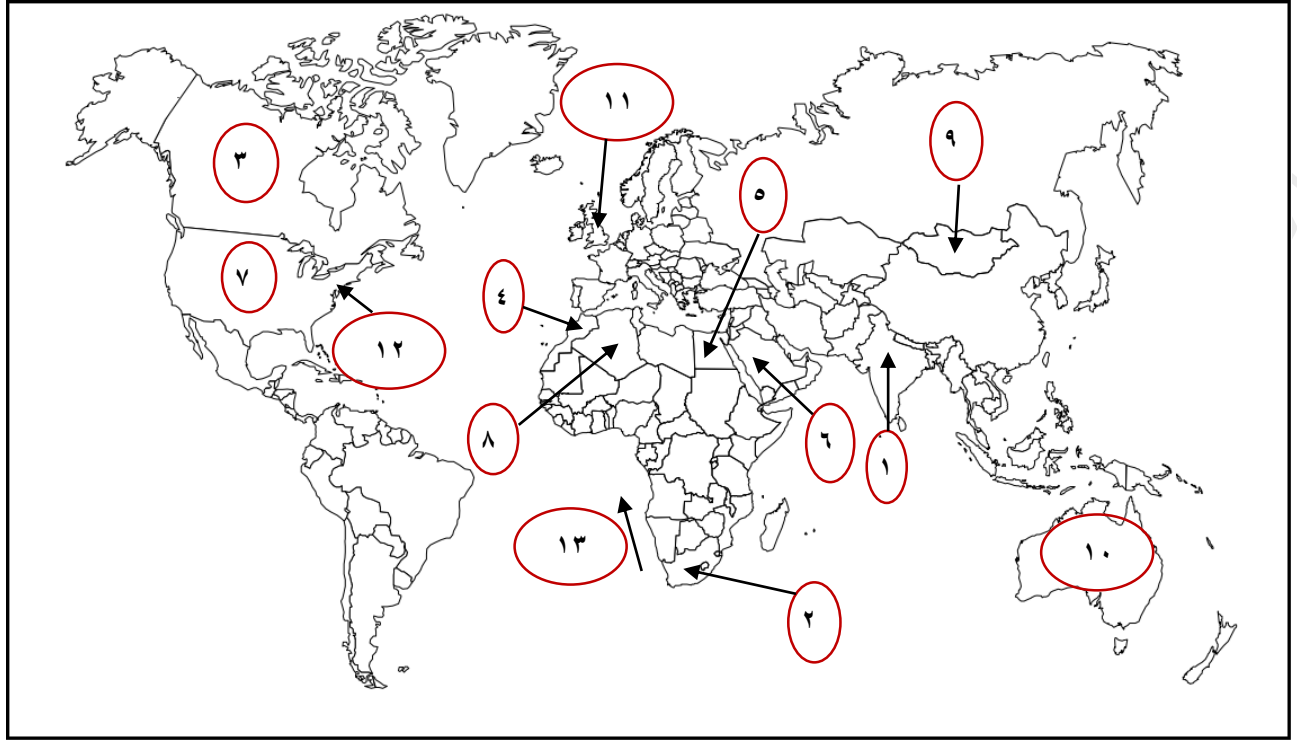
دولة موحدة مركزية : ١١ -

جزيرة : ١٢ -

سلسلة جبلية : ١٣ -

خليج : ١٤ -

خريطة العالم رقم (٣) :



وحدات سياسية : ١ -

٢ -

٣ -

مدينة أثرية : ٤ -

واحة سياحية : ٥ -

مدينة دينية : ٦ -

دولة بحرية : ٧ -

دولة ذات مساحة كبيرة : ٨ -

دولة طولية الشكل : ٩ -

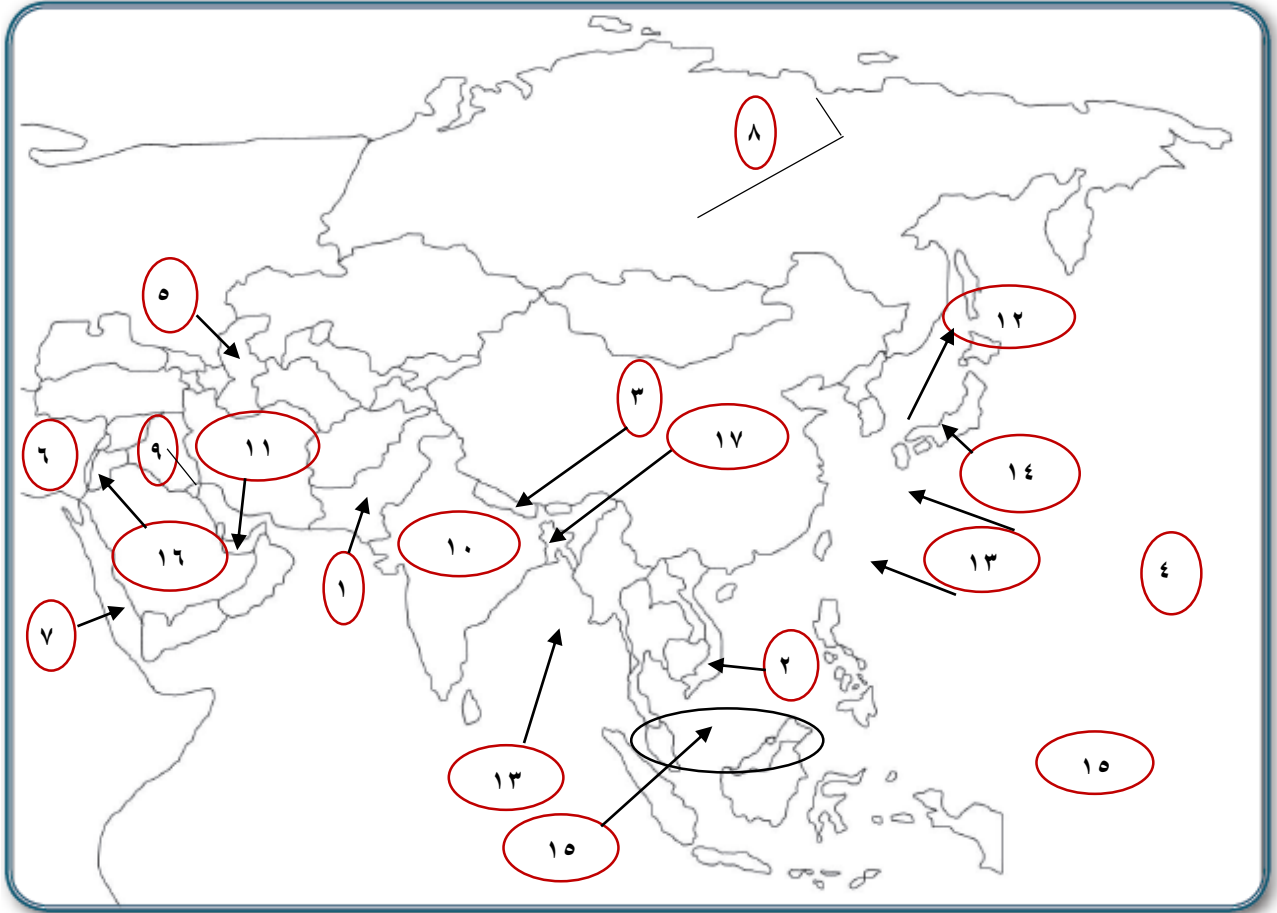
معلم عمراني بارز : ١٠ -

متحف سياحي : ١١ -

مدينة (ولاية) : ١٢ -

تيار بحري : ١٣ -

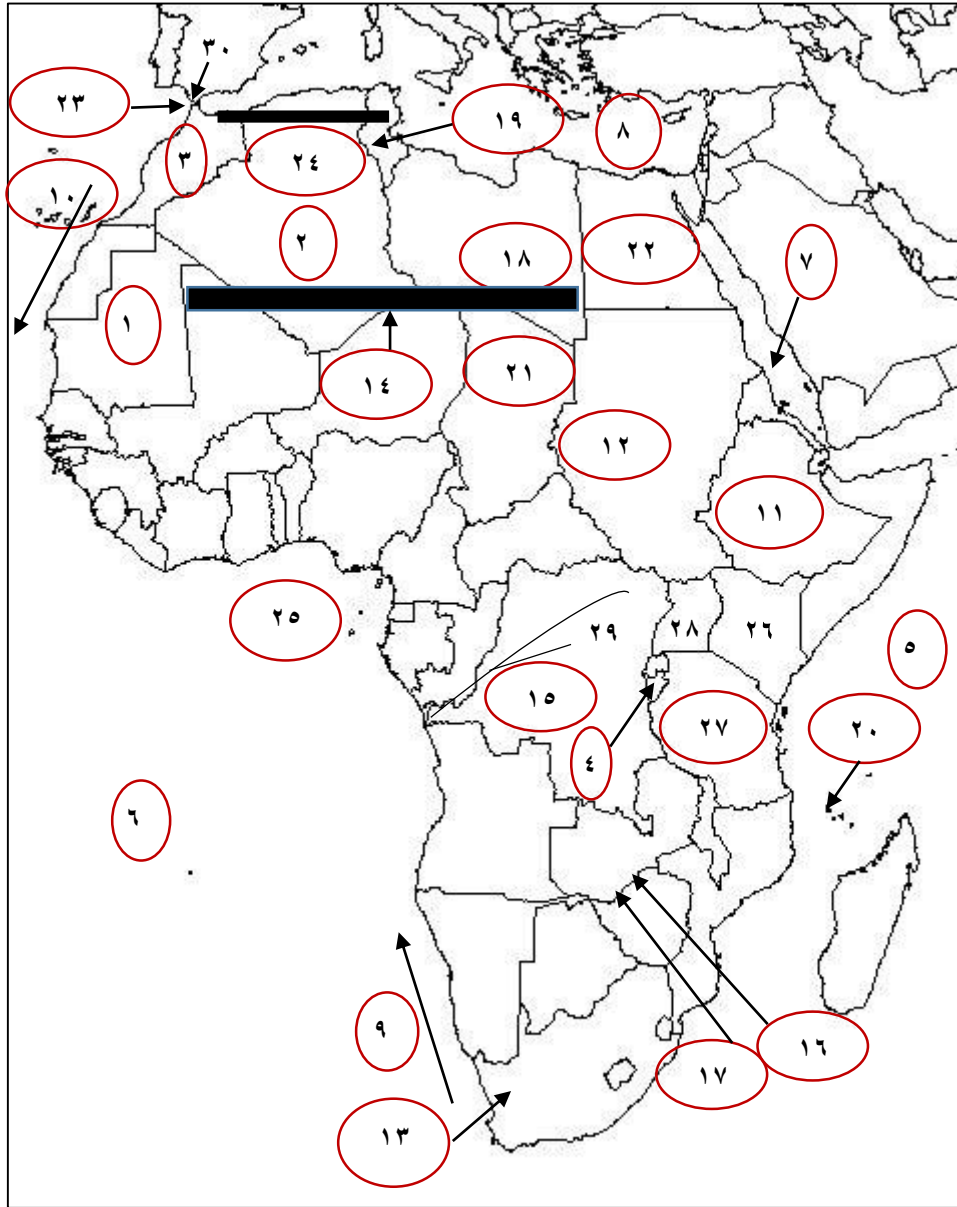
المتقدمون



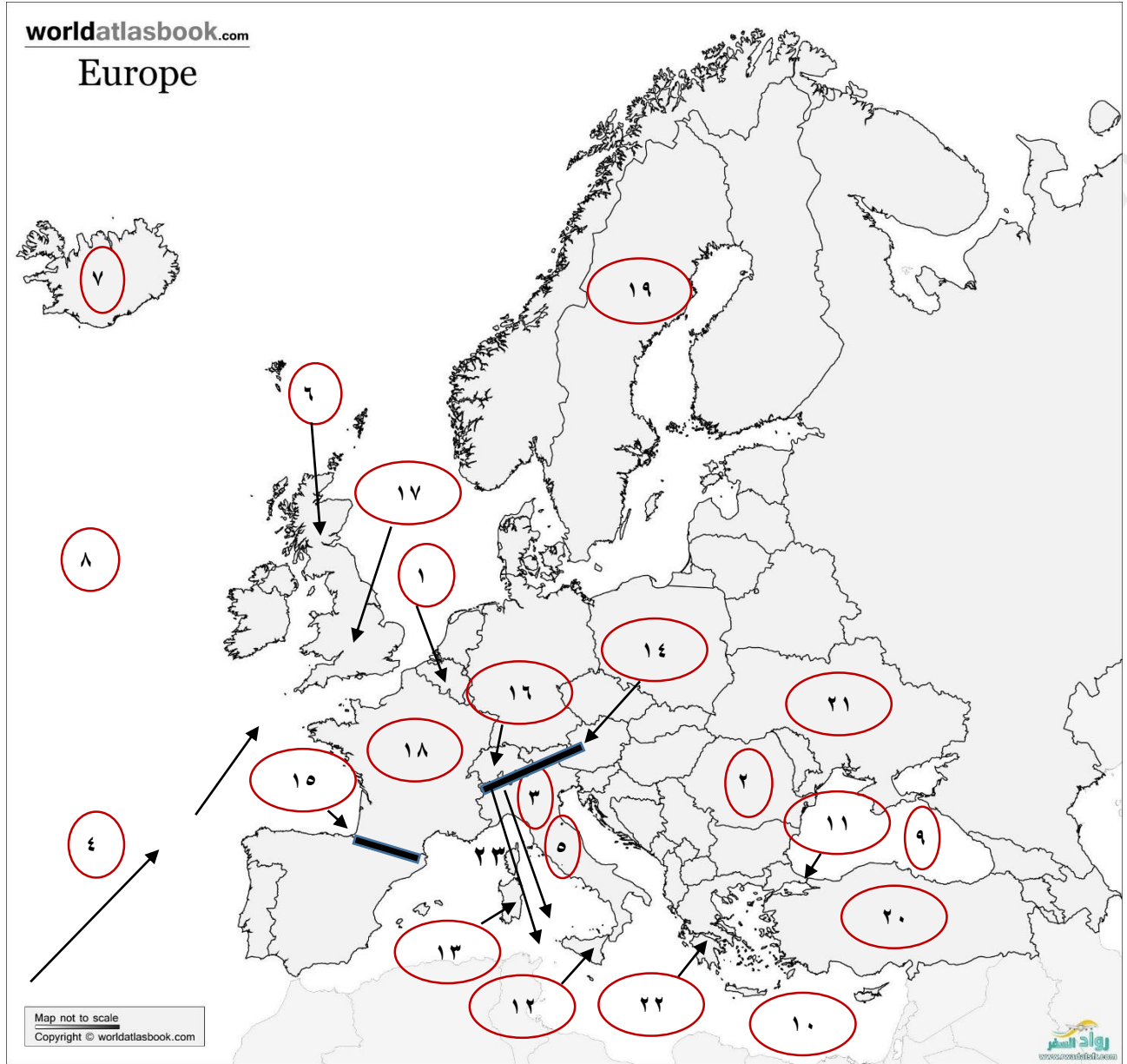
- وحدات سياسية : ١-
مسطح مائي : ٤-
نهر : ٨-
هضبة : ١٠-
معلم عمراني بارز : ١١-
تيار بحري : ١٢-
إعصار : ١٣-
بركان : ١٤-
دولة برية بحرية مجزأة : ١٥-
مدينة أثرية : ١٦-
وحدة سياسية : ١٧-
- ٢- دولة حبيسة : ٣-
٥-
٦-
٧-
٩-



خريطة رقم : (٥) قارة أفريقيا



- | | | | |
|------------------|------------------|-----|------------------|
| -٤ | -٣ | -٢ | -١ وحدات سياسية |
| -٨ | -٧ | -٦ | -٥: مسطح مائي |
| -١١: وحدة سياسية | -١٠ | -٩ | -٩: تيار بحري |
| -١٤: صحراء | -١٣ | -١٢ | -١٢: إقليم |
| -١٧: شلال | -١٦ | -١٥ | -١٥: نهر |
| -١٩: دولة | -١٩: مدينة أثرية | -١٨ | -١٨: واحة |
| -٢٢: عاصمة | -٢١: دولة حبيسة | -٢٠ | -٢٠: دولة جزرية |
| -٢٥: خليج | -٢٤: سلسلة جبلية | -٢٣ | -٢٣: مضيق |
| -٣٠: جبل | -٢٩ | -٢٨ | -٢٦: وحدة سياسية |
| | -٢٧ | | |

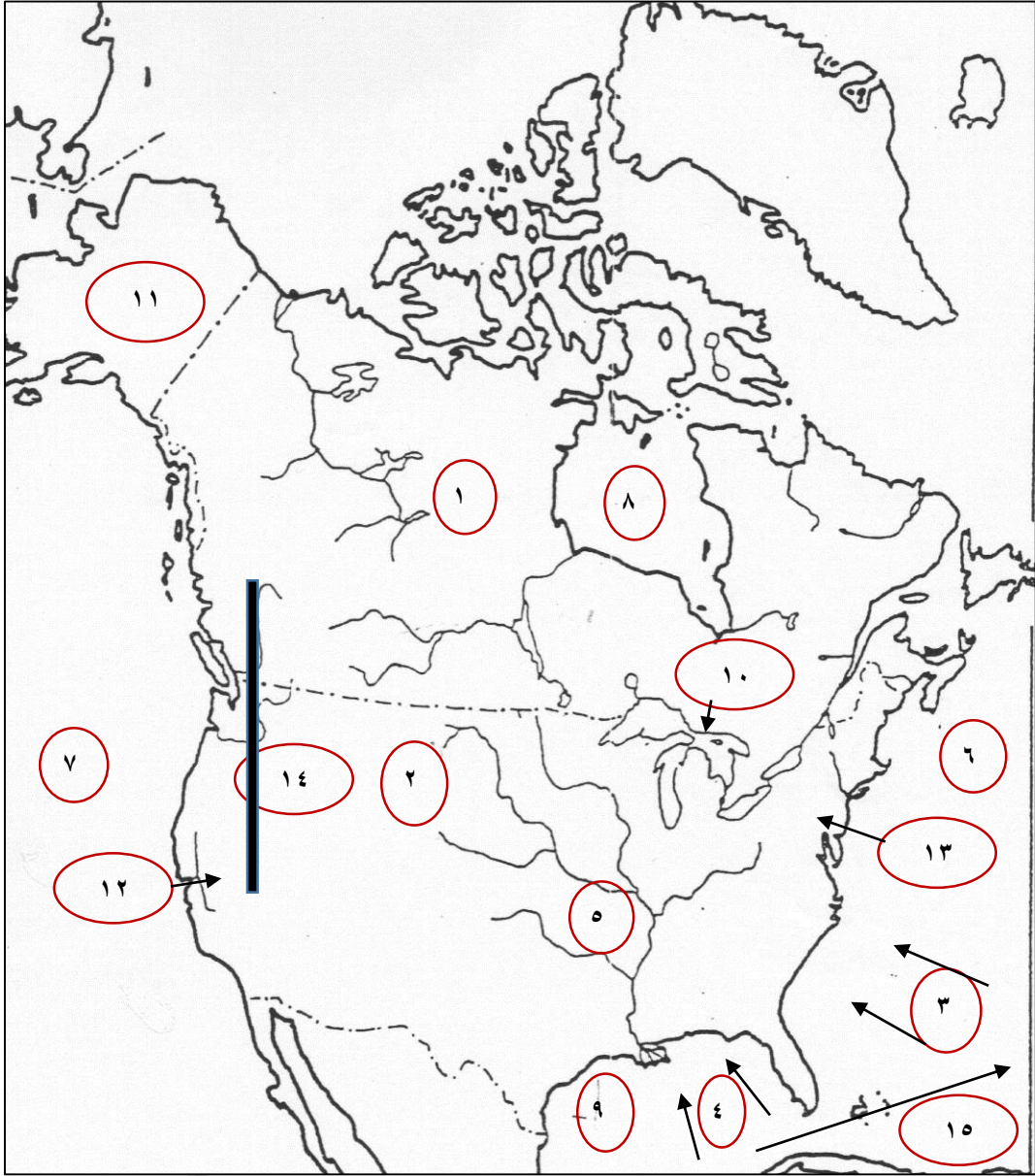


- | | | |
|----------------------------|------------------------|----------------------------|
| وحدات سياسية : ١- | ٢- | دولة برية بحرية مجزأة : ٣- |
| تيار بحري : ٤- | | دولة دينية : ٥- |
| دولة ذات مساحة متوسطة : ٦- | | ينابيع مياه : ٧- |
| مسطح مائي : ٨- | ٩- | ١٠- |
| جسر : ١١- | جزيرة : ١٢- | ١٣- |
| سلسلة جبلية : ١٤- | ١٥- | دولة حبيسة : ١٦- |
| متحف سياحي : ١٧- | | عاصمة : ١٧- |
| معلم عمراني بارز : ١٨- | دولة طولية الشكل : ١٩- | هضبة : ٢٠- |
| وحدة سياسية : ٢١- | ٢٢- | رياح محلية باردة : ٢٣- |

إعداد المعلمة : أسماء عبد العظيم مشتهى

مدرسة : الزهراء الثانوية للبنات

خريطة رقم : (٧) قارة أمريكا الشمالية

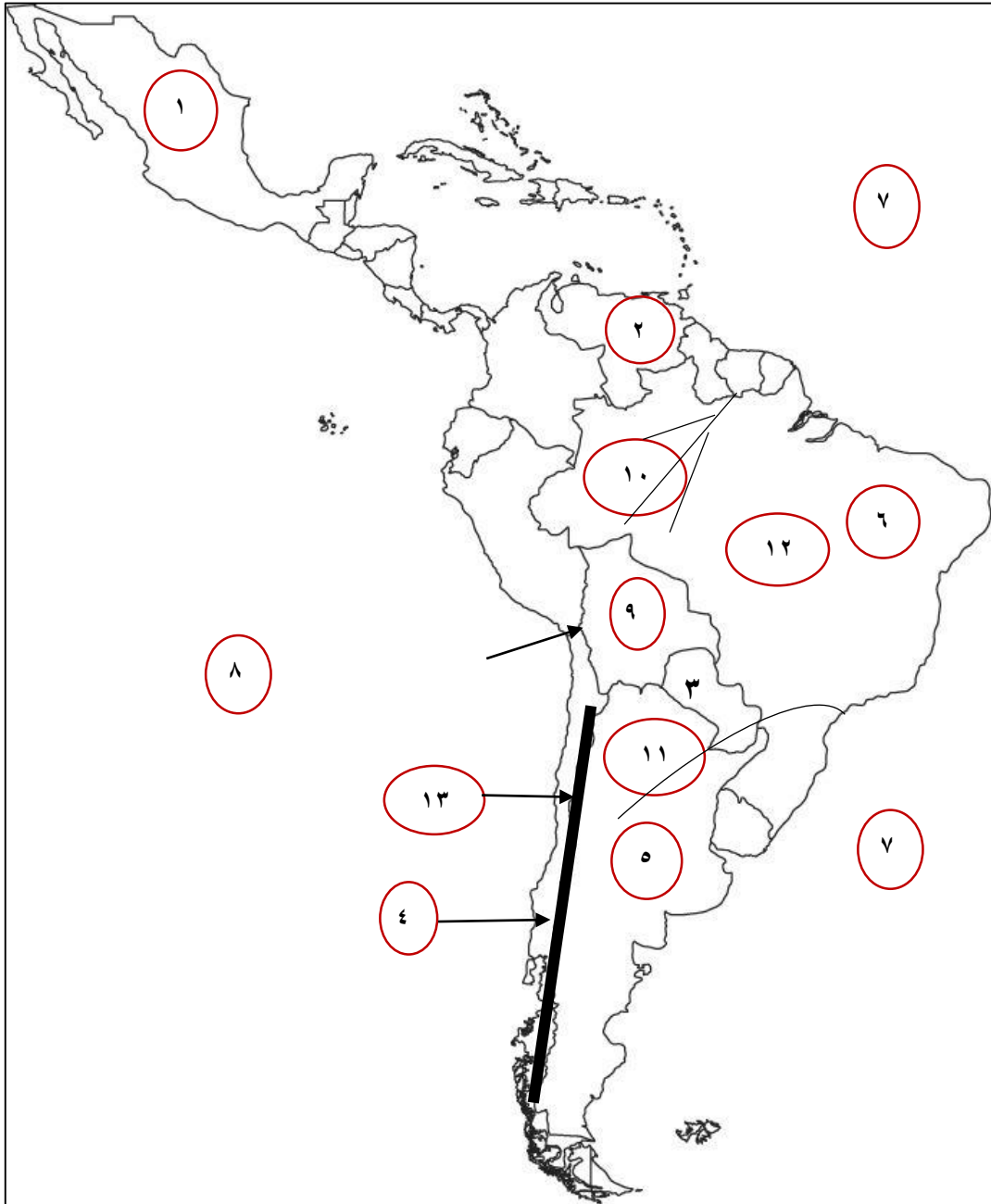


- وحدات سياسية : ١-
إعصار : ٣-
مسطح مائي : ٦-
خليج : ٨-
دولة برية مجزأة و هي أيضاً ولاية : ١١-
ولاية : ١٢-
معلم عمراني بارز : ١٣-
تيار بحري : ١٥-
٢-
٤-
٧-
٩-
نهر : ٥-
شلال : ١٠-
سلسلة جبلية : ١٤-

إعداد المعلمة : أسماء عبد العظيم مشتهدى

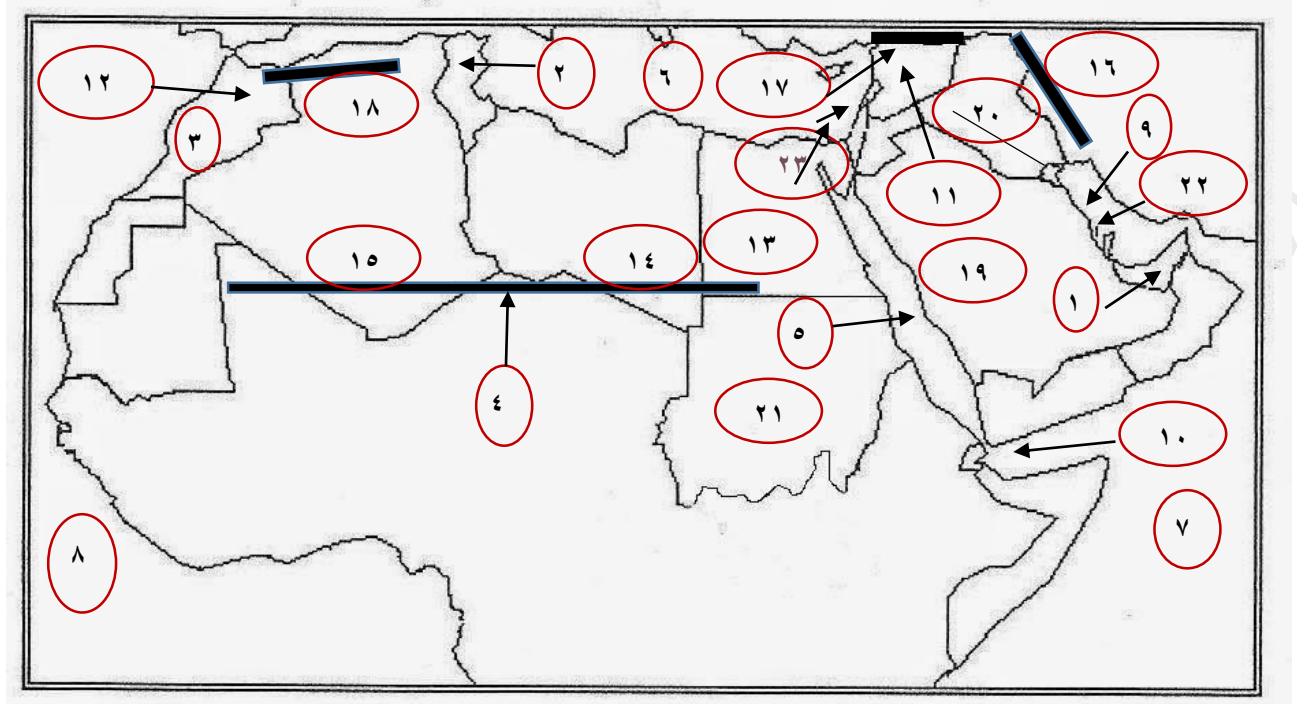
مدرسة : الزهراء الثانوية للبنات

خريطة رقم : (٨) قارة أمريكا الجنوبية



- وحدات سياسية : ١-
٥-
٦-
مسطح مائي : ٧-
نهر : ١٠-
هضبة : ١٢-
سلسلة جبلية : ١٣-
٢-
٣-
٤-
٨-
١١-
دولة حبيسة : ٩-

خريطة رقم : (٩) الوطن العربي



وحدات سياسية : ١-

صحراء : ٤-

مسطح مائي : ٥-

خليج : ٩-

مدينة أثرية : ١١-

واحة سياحية : ١٣-

سلسلة جبلية : ١٦-

مدينة دينية : ١٩-

نهر : ٢٠-

دولة ذات مساحة كبيرة : ٢١-

دولة ذات مساحة صغيرة جداً و هي أيضاً دولة جزرية : ٢٢-

رياح محلية حارة : ٢٣-

٣-

٢-

٦-

١٠-

١٢-

١٤-

١٧-

٧-

١٥-

١٨-

٨-

خريطة رقم:(١٠) خريطة فلسطين حفظ رسم + تحديد البيانات و المعادن الواردة بالكتاب



حددي على خريطة فلسطين ما يلي : البحر المتوسط – البحر الميت – بحيرة طبرية – خليج العقبة – نهر الأردن – نهر الزرقاء – وادي : قانا – الرمان – المنيعه – الجرافي – عربية
أهم المعادن الموجود في فلسطين - صحراء النقب – سهل الحولة
مدن : القدس – رام الله – الخليل – نابلس – بيت لحم – بئر السبع – جنين – عكا – حيفا – سلفيت -
أريحا – عسقلان – غزة - منطقة الشيوخ – جماعين – قباطية – قرية رنتيس – اللطرون – منطقة النبي موسى

إجابات الخرائط

<p>خريطة رقم (٣) :</p> <ol style="list-style-type: none"> ١- الهند ٢- دولة جنوب أفريقيا ٣- كندا ٤- مدينة فاس ٥- سيوة ٦- مكة المكرمة - المدينة المنورة ٧- الولايات المتحدة الأمريكية ٨- الجزائر ٩- منغوليا ١٠- مبنى الأوبرا ١١- متحف الشموع ١٢- نيويورك ١٣- تيار بنجويلا البارد 	<p>خريطة رقم (٢) :</p> <ol style="list-style-type: none"> ١- الصين ٢- البرازيل ٣- المحيط الهندي ٤- نهر لينا ٥- اليابان ٦- متحف اللوفر ٧- صحراء وسط أستراليا ٨- هضبة الحبشة ٩- ينابيع حلوان ١٠- ألاسكا ١١- ليبيا ١٢- جزيرة جرينلاند ١٣- سلسلة جبال الروكي ١٤- خليج البنغال 	<p>خريطة رقم (١) :</p> <ol style="list-style-type: none"> ١- الأرجنتين ٢- الصومال ٣- المحيط الهادئ ٤- نهر المسيسيبي ٥- سلسلة جبال الهيمالايا ٦- تيار اليابان الدافئ ٧- واحة عين صالح ٨- مبنى الأوبرا ٩- المتحف الوطني ١٠- أندونيسيا ١١- مضيق جبل طارق
<p>تابع لخريطة رقم (٥) :</p> <ol style="list-style-type: none"> ٢٣- مضيق جبل طارق ٢٤- سلسلة جبال أطلس ٢٥- خليج غينيا ٢٦- كينيا ٢٧- تنزانيا ٢٨- أوغندا ٢٩- الكونغو الديمقراطية ٣٠- جبل طارق 	<p>خريطة رقم (٥) :</p> <ol style="list-style-type: none"> ١- موريتانيا ٢- الجزائر ٣- المغرب ٤- بورندي ٥- المحيط الهندي ٦- المحيط الأطلسي ٧- البحر الأحمر ٨- البحر المتوسط ٩- تيار بنجويلا البارد ١٠- تيار كناري البارد ١١- أثيوبيا ١٢- إقليم دارفور ١٣- إقليم الكاب ١٤- الصحراء الإفريقية الكبرى ١٥- نهر الكونغو ١٦- نهر الزمبيزي ١٧- شلالات فكتوريا ١٨- واحة الكفرة ١٩- مدينة القيروان ١٩- دولة تونس ٢٠- جُزر القمر ٢١- تشاد ٢٢- القاهرة 	<p>خريطة رقم (٤) :</p> <ol style="list-style-type: none"> ١- باكستان ٢- فيتنام ٣- نيبال ٤- المحيط الهادئ ٥- بحر قزوين ٦- البحر المتوسط ٧- البحر الأحمر ٨- نهر لينا ٩- نهر دجلة ١٠- هضبة الدكن ١١- جُزر النخيل ١٢- تيار اليابان الدافئ ١٣- إعصار التيفون ١٤- بركان أساما ١٥- ماليزيا ١٦- مدينة البتراء ١٧- بنغلادش

<p>خريطة رقم (٨) :</p> <ol style="list-style-type: none"> ١- المكسيك ٢- فنزويلا ٣- باراغواي ٤- تشيلي ٥- الأرجنتين ٦- البرازيل ٧- المحيط الأطلسي ٨- المحيط الهادئ ٩- بوليفيا ١٠- نهر الأمازون ١١- نهر بارانا ١٢- هضبة البرازيل ١٣- سلسلة جبال الأنديز 	<p>خريطة رقم (٧) :</p> <ol style="list-style-type: none"> ١- كندا ٢- الولايات المتحدة الأمريكية ٣- إعصار الهيروكين ٤- إعصار التورنادو ٥- نهر المسيسيبي ٦- المحيط الأطلسي ٧- المحيط الهادئ ٨- خليج هدسن ٩- خليج المكسيك ١٠- شلالات نياجارا ١١- ألاسكا ١٢- كاليفورنيا ١٣- تمثال الحرية ١٤- سلسلة جبال الروكي ١٥- تيار خليج المكسيك <p>الداقي</p>	<p>خريطة رقم (٦) :</p> <ol style="list-style-type: none"> ١- بلجيكا ٢- رومانيا ٣- إيطاليا ٤- تيار الخليج الدافي ٥- الفاتيكان ٦- بريطانيا ٧- ينانبع آيسلندا ٨- المحيط الأطلسي ٩- البحر الأسود ١٠- البحر المتوسط ١١- جسر البسفور ١٢- جزيرة صقلية ١٣- جزيرة سردينيا ١٤- جبال الألب ١٥- جبال البرانس ١٦- سويسرا ١٧- متحف الشموع ١٧- مدينة لندن ١٨- برج إيفل ١٩- السويد ٢٠- هضبة الأناضول ٢١- أوكرانيا ٢٢- اليونان ٢٣- رياح المسترال
	<p>خريطة رقم (٩) :</p> <ol style="list-style-type: none"> ١- الإمارات العربية المتحدة ٢- تونس ٣- المغرب ٤- الصحراء الإفريقية الكبرى ٥- البحر الأحمر ٦- البحر المتوسط ٧- المحيط الهندي ٨- المحيط الأطلسي ٩- الخليج العربي ١٠- خليج عدن ١١- مدينة تدمر ١٢- مدينة فاس ١٣- واحة سيوة ١٤- واحة الكفرة ١٥- واحة عين صالح ١٦- سلسلة جبال زاغروس ١٧- سلسلة جبال طوروس ١٨- سلسلة جبال أطلس ١٩- مكة المكرمة ، المدينة المنورة ٢٠- نهر الفرات ٢١- السودان ٢٢- البحرين ٢٣- رياح الخماسين 	



لمزيد من المواد التعليمية

زوروا

موقع المتقدمون



مجموعة المتقدمون



المتقدمون



@mtqdmn



موقع المتقدمون

